









Mesure CP : les euros(1) **EXERCICE LEÇON**

❶ Chaque fois qu'on perd une dent, la souris passe pour donner des sous.

Calcule l'argent de chaque enfant :

 Paméla	 Rémi	 Émilie
		

..... €

..... €

..... €

❷

Elle achète un gros livre à 5 €.	Il achète des petites voitures pour 8 €.	Elle achète un grand gâteau à 10 €.
<b>Barre</b> ce qu'elle donne. <b>Dessine</b> ce qu'il reste :	<b>Barre</b> ce qu'il donne. <b>Dessine</b> ce qu'il reste :	<b>Barre</b> ce qu'elle donne. <b>Dessine</b> ce qu'il reste :





Mesure CP : les euros(1)

**EXERCICE MAISON**

❶ Chaque fois qu'on perd une dent, la souris passe pour donner des sous.

Calcule l'argent de chaque enfant :

 Paméla	 Rémi	 Émilie
		

..... €

..... €

..... €

❷

Elle achète un gros livre à 6 €.	Il achète des petites voitures pour 7 €.	Elle achète un grand gâteau à 8 €.
<b>Barre</b> ce qu'elle donne. <b>Dessine</b> ce qu'il reste :	<b>Barre</b> ce qu'il donne. <b>Dessine</b> ce qu'il reste :	<b>Barre</b> ce qu'elle donne. <b>Dessine</b> ce qu'il reste :