






Mathématiques – Mesure (Monnaie)



❶ Calcule l'argent que chaque enfant a gagné avec la petite souris :

 Paméla	 Rémi	 Émilie
		

..... €

..... €

..... €

❷

Elle achète un gros livre à 7 €.	Il achète des petites voitures pour 6 €.	Elle achète un grand gâteau à 12 €.
<p>Barre ce qu'elle donne.</p> <p>Dessine ce qu'il reste :</p>	<p>Barre ce qu'il donne.</p> <p>Dessine ce qu'il reste :</p>	<p>Barre ce qu'elle donne.</p> <p>Dessine ce qu'il reste :</p>