









❶ Calcule l'argent que chaque enfant a gagné avec la petite souris :

 Paméla	 Rémi	 Émilie
		

..... €

..... €

..... €

❷

Elle achète un gros livre à 7 €.	Il achète des petites voitures pour 6 €.	Elle achète un grand gâteau à 12 €.
<b>Barre</b> ce qu'elle donne.	<b>Barre</b> ce qu'il donne.	<b>Barre</b> ce qu'elle donne.
<b>Dessine</b> ce qu'il reste :	<b>Dessine</b> ce qu'il reste :	<b>Dessine</b> ce qu'il reste :