

a) Range du plus grand au plus petit.

20 - ~~100~~ - ~~134~~ - 17 - ~~182~~ - 58 - ~~128~~ - ~~143~~ - ~~200~~ - 85

200 - 182 - 143 - 134 - 128 - 100 - 85 - 58 - 20 - 17

b) Range du plus petit au plus grand.

~~57~~ - ~~152~~ - ~~103~~ - ~~125~~ - ~~75~~ - ~~199~~ - ~~13~~ - ~~130~~ - ~~95~~ - ~~31~~

13 - 31 - 57 - 75 - 95 - 103 - 125 - 130 - 152 - 199


c) Recopie les nombres au bon endroit.

~~162~~ - ~~132~~ - ~~91~~ - ~~160~~ - 194 - ~~187~~ - ~~119~~ - ~~43~~





43 - 89 - ~~91~~ - 115 - ~~119~~ - 128 - ~~132~~ - 156 - ~~160~~ - 170 - - 184 - ~~187~~ - 191 - ~~194~~ - 200

162

d) Complete avec les signes > ou < ou =

$137 > 100 + 3 + 7$ $200 - 8 = 192$ $100 - 10 < 110$ $100 + 10 + 10 + 1 > 111$		$160 + 10 = 170$ $100 + 40 > 104$ $100 + 50 + 3 = 153$ $100 + 20 + 9 < 100 + 90 + 2$
---	--	---

e) Continue les suites et précise...

		180	170	160	150	140	130	120	110	100	90	80	70	60	50
	160	163	166	169	172	175	178	181	184	187	190	193	196	199	
	200	199	198	197	196	195	194	193	192	190	189	188	187	186	