


Pour chaque épreuve, toute trace de recherche, même incomplète, ou d'initiative même infructueuse, sera prise en compte dans l'évaluation.



Épreuve 3 : Allongeoons nous sur la plage (4 points)




Une classe de CM2 et une classe de 6ème se retrouvent au lagon de Saint Leu lors d'une sortie scolaire. Pour s'amuser les élèves décident de s'allonger dans le sable et de faire une chaîne la plus longue possible.

Quelle longueur pourrait atteindre cette chaîne humaine?

Épreuve 5 : Dis moi combien (4 points)

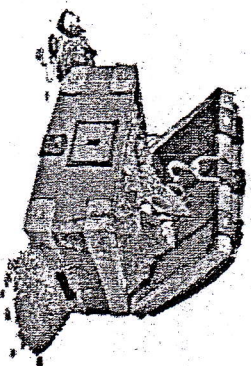
CETTE PHRASE A LETTRES.



Par quel nombre écrit en toutes lettres, doit on compléter cette phrase pour qu'elle soit correcte ?

Épreuve 6 : Le trésor de La Buse (4 points)

En arrivant sur l'île de la Réunion, le pirate La Buse a enterré son trésor. Aidez-nous à le retrouver. Il a caché son trésor à 40km d'une Fougère arborescente et à 55km d'un Palmiste rouge. Le Palmiste rouge se situe à 20km du Tamarin des hauts et à 25km de la Fougère arborescente, dans le nord de l'île de la Réunion.



Sur l'annexe 2, marquez d'une croix l'emplacement du trésor, en laissant les traits de construction apparents.

Épreuve 4 : Au Parc Kruger (8 points)



Au Parc Kruger en Afrique du Sud, en se rendant à une source, un zèbre rencontre 6 girafes qui s'y rendaient également. Chaque girafe portait sur son dos 3 singes. Chaque singe portait 2 oiseaux, autour de chaque oiseau volaient 4 mouches.

Combien d'animaux au total se retrouvent à la source ?
Combien de pattes y a-t-il à la source ?

Justifie tes réponses.



Épreuve 7 : Problème vidéo (4 points)

Pour répondre, tu utiliseras les cartes de l'annexe 3, qu'il te faudra compléter.