



Meures








CMI




<https://laclassobleue.fr/>








① Ecris l'heure de la nuit/du matin sous chaque horloge.



						
___ h ___	___ h ___	___ h ___	___ h ___	___ h ___	___ h ___	___ h ___

② Trace les aiguilles (rouge pour les heures, bleue pour les minutes).



						
12 h 50	15 h 35	19 h 15	10 h 05	1 h 30	8 h 55	23 h 00

③ Complète ces égalités.

a) $2\text{h}06\text{min} + \underline{\hspace{2cm}} = 3\text{h}$

b) $9\text{h}53\text{min} + \underline{\hspace{2cm}} = 10\text{h}$

c) $15\text{h}45\text{min} + \underline{\hspace{2cm}} = 16\text{h}$

d) $20\text{h}18\text{min} + \underline{\hspace{2cm}} = 21\text{h}$

e) $22\text{h}30\text{min} + \underline{\hspace{2cm}} = 23\text{h}$

f) $6\text{h}32\text{min} + \underline{\hspace{2cm}} = 7\text{h}$

g) $17\text{h}15\text{min} + \underline{\hspace{2cm}} = 18\text{h}$

h) $8\text{h}48\text{min} + \underline{\hspace{2cm}} = 9\text{h}$

Meures/l'heure