

Correction

Jeudi 16 avril

Calcul (10 min)

? 28 (4)	? 30 (5)	? 36 (9)	? 14 (7)	? 32 (8)	? 4 (2)	? 18 (9)	? 48 (6)	? 18 (6)
3 x 2	6 x 6	4 x 4	2 x 6	7 x 7	9 x 8	5 x 3	8 x 7	3 x 3

Problème : Papa commande 5 places pour aller au cirque. Une place coûte 9 €. Combien a-t-il dépensé ?

7	6	4	2	4	2	2	8	3
6	36	16	12	49	72	15	56	9

Problème :
 $4 \times 9 = 45$
Il a dépensé 45 euros.

Orthographe (10 min)

Fiche de préparation de la dictée 3 : exercices 4 et 5.

4. Relie le pronom au verbe qui correspond. (ex : je/tu prends – il prend)

je		reprends
tu		comprend
il		attends
J'		surprends
elle		attend

5. Maman **suspend** son linge au soleil.

Je t'**attends** jusqu'à 6 heures.

Ce chien **mord**-il ?

Tu ne **comprends** pas cette leçon.

Répond-elle correctement ?

Je te **défends** d'entrer ici.

5. Ecris les verbes au présent.

(suspendre) Maman son linge au soleil.

(attendre) Je t' jusqu'à 6 heures.

(mordre) Ce chien –il ?

(comprendre) Tu ne pas cette leçon.

(répondre) – elle correctement ?

(défendre) Je te d'entrer ici.

Dictée de mots (10 min)

Dictée dans le cahier : *une veste – au détour – le musée – la garde – le lieu – Louis XIV – attendre – sombre – le frère – un soldat*

Recopier 3 fois les mots mal écrits.

Lecture (20 min)

Lis le texte (Dikou et le Tristounet 1) et réponds aux questions. La correction est sur le blog.

Géométrie (15 min)

Fiche : Le cercle. Lis bien la leçon avant de faire les exercices.

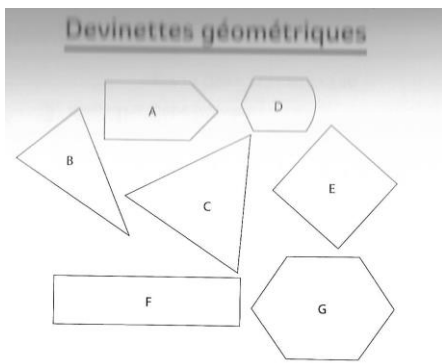
Il est temps de faire une pause (15 à 20 min) : bouger, se détendre, une petite séance de yoga par exemple : [Yoga 2](#)

Orthographe (15 min)

Fiche : Je repère un nom au singulier ou au pluriel. La correction est sur le blog.

Géométrie (10 min + 15 min)

Les figures planes



• Devinette 1

Je suis un polygone qui compte moins de cinq côtés. J'ai quatre sommets et au moins trois côtés de la même longueur.
→ Je suis la figure _____.

1 : E

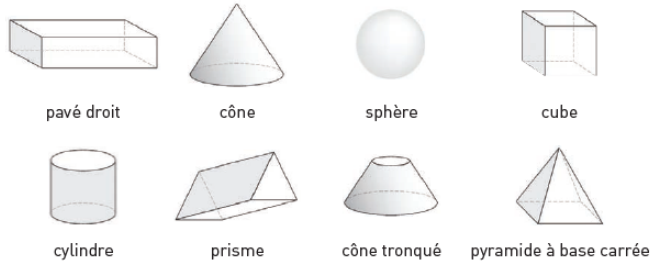
• Devinette 2

Je suis un polygone sans angle droit avec seulement deux côtés de même longueur.
→ Je suis la figure _____.

2 : B

Les solides :

Classe les solides dans le tableau en écrivant leur nom.

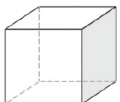



SOLIDES POUVANT ROULER		SOLIDES NE POUVANT PAS ROULER
Pas de face plane	Une ou plusieurs faces planes	Toutes les faces planes
Sphère	Cône Cylindre Cône tronqué	Pavé droit Cube Prisme Pyramide à base carrée

Activité 2 *Je m'entraîne.*

Utiliser le vocabulaire : arête, sommet, face.

Complète la carte d'identité des deux solides.

<p>Nom : Cube</p> 	<p>Nombres de faces : 6 faces Nombres d'arêtes : 12 arêtes Nombre de sommets : 8 sommets Forme des faces : Faces : des carrés</p>
<p>Nom : Pavé droit</p> 	<p>Nombres de faces : 6 faces Nombres d'arêtes : 12 arêtes Nombre de sommets : 8 sommets Forme des faces : Faces : des rectangles</p>

Arts visuels

1. (15 min)

Activité 1 *J'observe des œuvres géométriques.*

Observer les caractéristiques des œuvres géométriques.



Piet Mondrian (1872-1944) est un peintre hollandais. Au début de sa carrière, il peint des tableaux réalistes comme des paysages. Mais, rapidement, Mondrian simplifie ses œuvres en ne dessinant plus que des lignes horizontales et verticales qui forment des droites perpendiculaires. Il n'utilise plus alors que les trois couleurs primaires. Finalement, il abandonne aussi les lignes noires pour des lignes formées de petits rectangles colorés. C'est le cas des œuvres qui se trouvent dans ton recueil.

Regarde la vidéo et le document sur le blog.

2. (30 min)

Tu vas réaliser une œuvre à la manière de Mondrian. Tu peux utiliser de la peinture, des crayons, des feutres ou du collage, en fonction de ce dont tu disposes. Sois créatif.

Tu donneras un titre à ton œuvre et feras une photo pour me l'envoyer.

Pause ...

Regarde les différentes vidéos sur le blog et travaille sur classe numérique, rallye lecture et calcul@tice : 30 min

C'est le moment de se dégourdir les jambes et le corps : chante, danse et mime : [Le corps \(body\)](#)

Production d'écrit (15 min + 15 min)

1. La lettre : exercice 3
2. Commence à faire un brouillon de ce que tu vas raconter.

Correction :

Exercice 3 :

2. Voici les éléments d'une lettre que tu écris au journal Astrapi.
Tu devras les recopier en les replaçant correctement
dans le schéma de la page suivante.

Journal Astrapi 3, rue Bayard 75008 Paris	Le 29 avril 1996	Victor Ballin 35, rue des Alouettes 14390 Cabourg
Madame ou Monsieur,		
Victor		
Je vous remercie beaucoup.		
Je suis abonné depuis le mois de septembre 1995 à votre journal que j'aime beaucoup. Je le reçois régulièrement tous les mois. Je n'ai pas eu le numéro du mois d'avril. Est-ce que vous pourriez me l'envoyer ?		

Victor Ballin 35, rue des Alouettes 14390 Cabourg	Le 29 avril 1996
Journal Astrapi 3, rue Bayard 75008 Paris	
Madame ou Monsieur,	
Je suis abonné depuis le mois de septembre 1995 à votre journal que j'aime beaucoup. Je le reçois régulièrement tous les mois. Je n'ai pas eu le numéro du mois d'avril. Est-ce que vous pourriez me l'envoyer ?	
Je vous remercie beaucoup.	
Victor	