

Programme de travail de maths – CP

Lundi 23 mars 2020

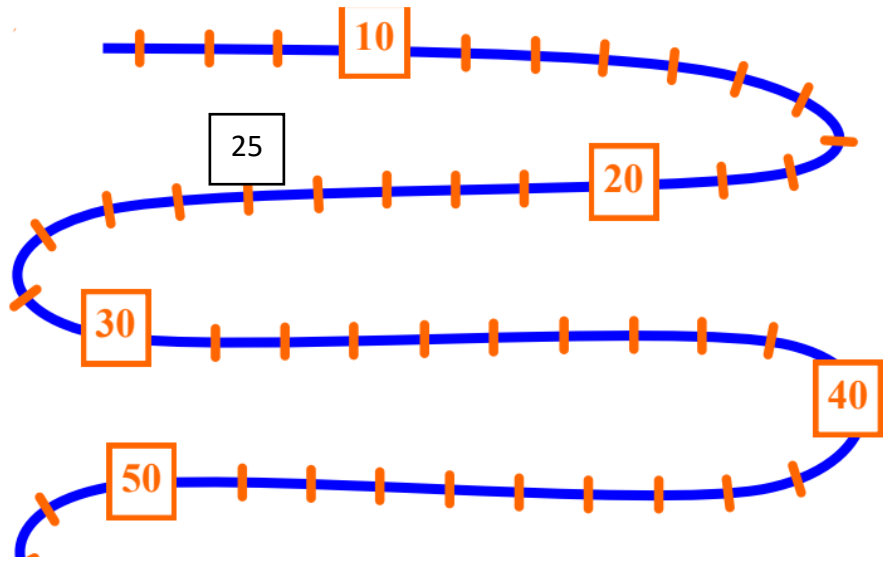
Calcul mental :

Sur la frise numérique ci-contre, met ton doigt sur 25. Combien faut-il pour aller à :

- 30 :
- 35 :
- 50 :

Calcule :

$14 + 3 =$
 $12 + 2 =$
 $16 + 4 =$

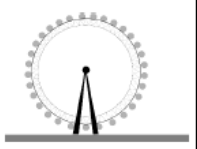




Résolution de problème :

Marie a une boîte de bonbons. Dans cette boîte, il y a 15 bonbons. Elle en mange 4. Combien reste-t-il de bonbons dans la boîte ?

Apprentissages : la lecture de tableau

LE PARC

	ENFANT	ADULTE
	6 €	7 €
	4 €	5 €
	2 €	3 €

Regarde bien ce tableau. Tu peux le lire en colonne ou en ligne. Il y a 3 attractions : la grande roue, le grand 8 et le carrousel. Répond maintenant aux questions :

- Le prix d'une entrée au grand 8 pour un adulte : _____ €

- le prix d'une entrée à la grande roue pour un enfant : _____ €

- l'attraction pour un adulte qui coute 7€ : _____

- le prix que doit payer une famille pour la grande roue : la mère, le père et un enfant. Ecris ton calcul dans le cadre.

La famille va payer..... €