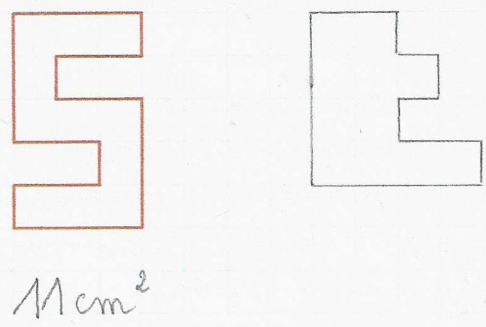



3 * Trace une figure qui a la même aire que le modèle mais pas la même forme.




4 * **PROBLÈME** Découpe et découpe la figure A (en autant de morceaux que tu veux) pour la poser sur la figure B.

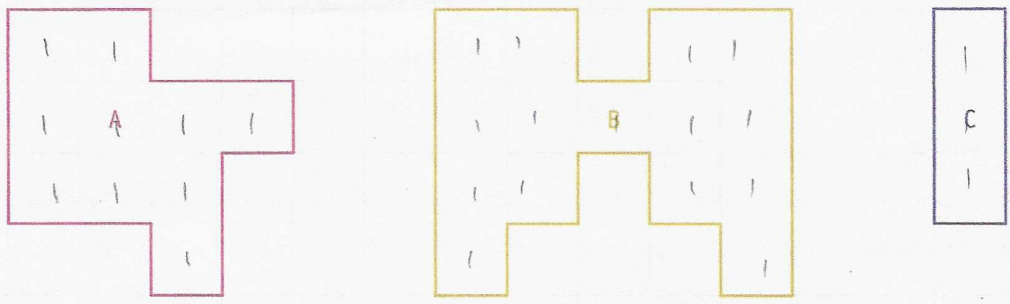
Les figures A et B ont-elles la même aire ?



Mesurer des aires

 Le quadrillage est fait de carrés d'un centimètre de côté.

5 * Indique l'aire de chaque figure en cm².



Aire de A : 10 cm² Aire de B : 15 cm² Aire de C : 3 cm²

6 * Trace les carrés d'un centimètre de côté dans la figure pour indiquer la mesure de son aire.

Cette figure a une aire de 9 cm².

