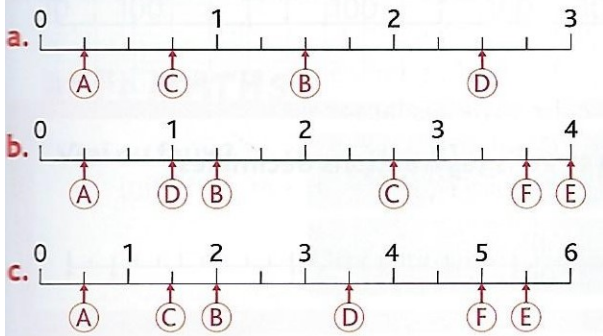



15 ✖ Pour chaque demi-droite graduée, écris la fraction qui correspond à chaque lettre.




16 ✖ Reproduis la demi-droite graduée et place les lettres qui correspondent aux fractions.

A: $\frac{8}{10}$ B: $\frac{1}{10}$ C: $\frac{22}{10}$ D: $\frac{5}{10}$ E: $\frac{35}{10}$



17 ✖ Reproduis la demi-droite graduée et place les lettres qui correspondent aux nombres.



A: $1 + \frac{1}{4}$ B: $4 + \frac{2}{4}$ C: $3 + \frac{3}{4}$ D: $2 + \frac{3}{4}$

15 ✖ Lequel de ces rois de France a vécu le plus longtemps?

François I^{er}

Saint Louis

Henri IV



(1494-1547)

(1214-1270)

(1553-1610)

10 ✖ Pose les divisions puis calcule.

a. $544 : 3$

e. $695 : 4$

b. $925 : 4$

f. $485 : 3$

c. $807 : 6$

g. $742 : 6$

d. $734 : 5$

h. $436 : 5$