




# LES DEFIS : numération



Combien de légos doit-on rajouter à la petite tour pour que les 2 tours soient identiques?



J'ai 7 biscuits, j'en mange 2.  
Combien m'en reste-t-il?



Tous les sacs contiennent la même quantité de billes.  
Combien y-a-t-il de billes en tout?



Combien doit-on mettre de noix dans chaque bol pour que tout le monde en ait la même quantité?