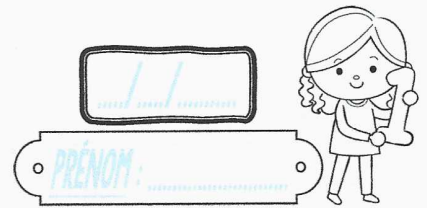
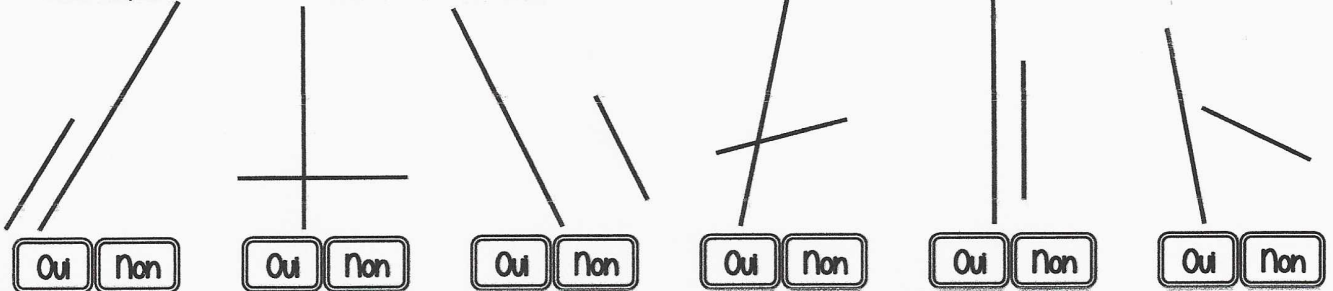


Geométrie

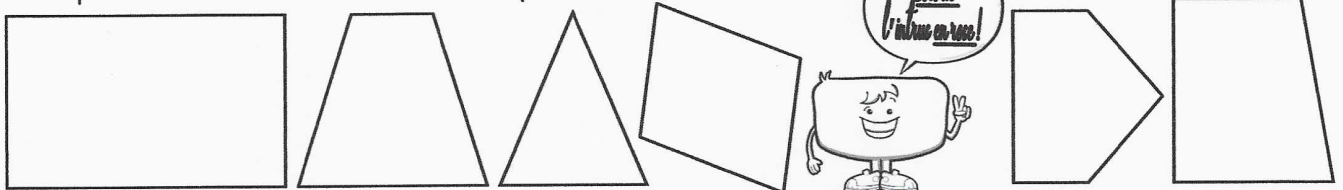
CMI



① Ces couples de droites sont-ils parallèles ?



② Repasse de la même couleur les côtés parallèles entre eux.

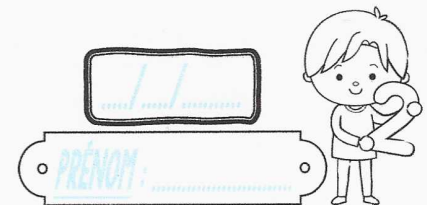


③ Dans ton cahier, trace un carré de 6 carreaux de côté, puis repasse en couleur les côtés parallèles entre eux.

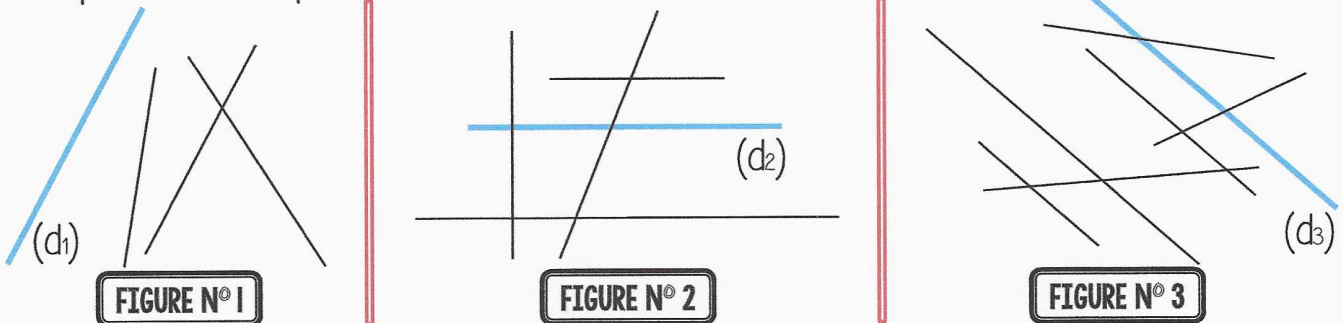
Geométrie / Droites parallèles

Geométrie

CMI



① Repasse les droites parallèles aux droites (d_1) , (d_2) et (d_3) .



② Repasse de la même couleur les côtés parallèles entre eux.



③ Dans ton cahier, trace un rectangle de 5 carreaux sur 8, puis repasse en couleur les côtés parallèles entre eux.

Geométrie / Droites parallèles