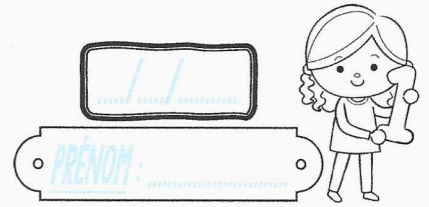
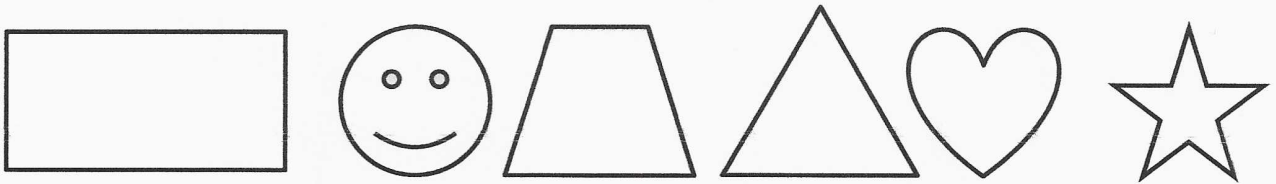


# Geométrie


CMI



① Trace le(s) axe(s) de symétrie de ces figures.



② Les droites en pointillé servent-elles d'axes de symétrie ?

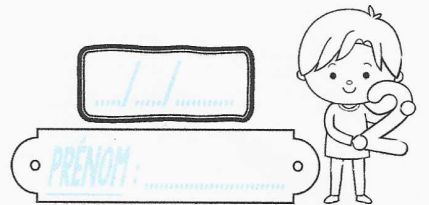


③ Dans ton cahier, trace un carré de 6 carreaux de côté, puis trace ses axes de symétrie.

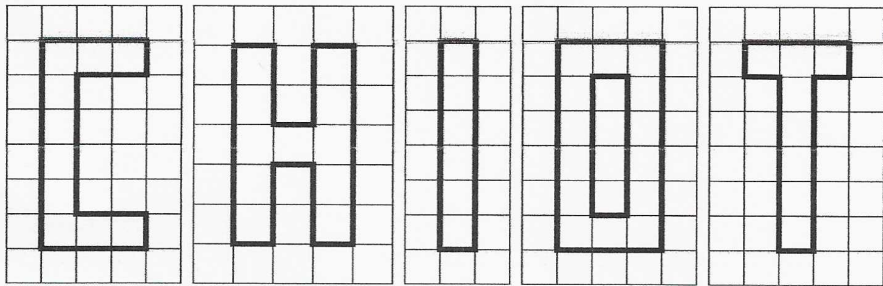
Geométrie / Les axes de symétrie

# Geométrie

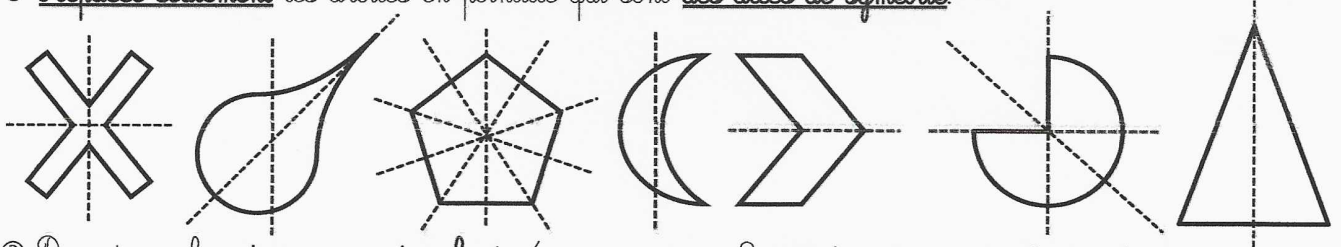
CMI



① Trace le(s) axe(s) de symétrie des lettres du mot « chiot ».



② Prepasse seulement les droites en pointillé qui sont des axes de symétrie.



③ Dans ton cahier, trace un rectangle de 4 carreaux sur 8, puis trace ses axes de symétrie.

Geométrie / Les axes de symétrie