
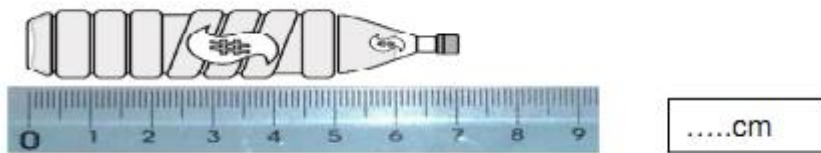




Utiliser la règle graduée pour tracer et mesurer.

 Maintenant que tu as regardé les vidéos sur le blogue sur l'utilisation de la règle, tu peux faire les exercices qui suivent. A tout moment tu peux revoir les vidéos pour t'aider !

1. Combien mesure la bouteille en cm ?



.....cm

2. Indique la mesure en cm de chaque trait ?



.....cm



.....cm



.....cm



.....cm

3. Construis avec ta règle sur une feuille les segments suivants :

$[AB] = 3 \text{ cm}$

$[CD] = 1 \text{ cm}$

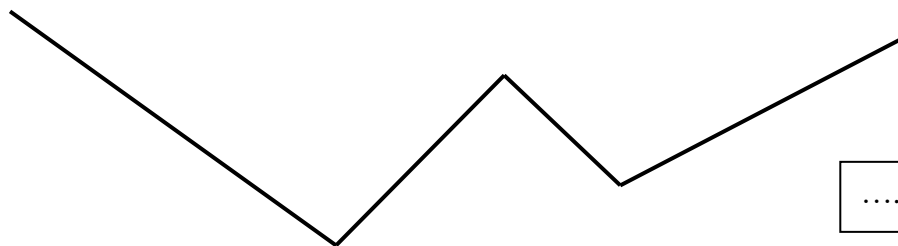
$[EF] = 7 \text{ cm}$

$[GH] = 2 \text{ cm}$

$[IJ] = 10 \text{ cm}$

$[KL] = 5 \text{ cm}$

4. Calcule avec ta règle la **longueur totale** en cm de la ligne brisée ci-dessous et écris le calcul qui correspond.



..... + + + = cm

5. Construis avec ta règle sur une feuille **une ligne brisée d'une longueur totale de 12 cm** et écris le calcul qui correspond à ta construction.