

Jeudi 18 juin 2020

Projet lecture : lecture quotidienne de la fiche . Répondre aux questions .Identifier les déterminants (jaune), les noms(bleu) et les verbes en rouge.

Dictée de la semaine : Nous plantons des salades, vous arrosez la pelouse.

Production d'écrits : Raconte ton rêve le plus étrange

ETUDE DE LA LANGUE

Le futur

1. Souligne les phrases au futur

Hier je suis parti en Colombie.

L'année prochaine, je voyagerai à Bogota.

En ce moment, le soleil brille.

Demain, vous me ferez un repas chilien.

L'année dernière, mon frère était en maternelle.

Pour les prochaines vacances, nous partirons en Corse.

2. Relie chaque sujet à son verbe conjugué au futur. Attention aux accords !

Demain tu	joueront au foot.
Marie	partiras au Chili.
Mes copains	Partirons en Argentine.
Vous	jouera un morceau.
Pablo et moi	rangerez mon sac.

3. Récris ces phrases en changeant leur sujet :

- Demain, Paul présentera un livre.

Demain, tu _____

- L'année prochaine, nous serons en CE2.

L'année prochaine, vous _____

- Les enfants passeront leurs vacances au Brésil.

L'enfant _____

MATHEMATIQUES

Calcul : Entraînement : Les soustractions. Pose et calcule sur ton cahier

$48 - 32 =$	$85 - 54 =$																																				
<table border="1" style="border-collapse: collapse; width: 100%;"> <tr><td style="background-color: #d9ead3;">D</td><td style="background-color: #fcf8e3;">U</td></tr> <tr><td>.....</td><td>.....</td></tr> <tr><td>.....</td><td>.....</td></tr> <tr><td>.....</td><td>.....</td></tr> <tr><td>.....</td><td>.....</td></tr> <tr><td>.....</td><td>.....</td></tr> </table>	D	U	<table border="1" style="border-collapse: collapse; width: 100%;"> <tr><td style="background-color: #d9ead3;">D</td><td style="background-color: #fcf8e3;">U</td></tr> <tr><td>.....</td><td>.....</td></tr> <tr><td>.....</td><td>.....</td></tr> <tr><td>.....</td><td>.....</td></tr> <tr><td>.....</td><td>.....</td></tr> <tr><td>.....</td><td>.....</td></tr> </table>	D	U												
D	U																																				
.....																																				
.....																																				
.....																																				
.....																																				
.....																																				
D	U																																				
.....																																				
.....																																				
.....																																				
.....																																				
.....																																				
<table border="1" style="border-collapse: collapse; width: 100%;"> <tr><td style="background-color: #d9ead3;">2</td><td style="background-color: #fcf8e3;">2</td><td style="background-color: #d9ead3;">3</td></tr> <tr><td>.....</td><td>.....</td><td>.....</td></tr> <tr><td>.....</td><td>.....</td><td>.....</td></tr> <tr><td>.....</td><td>.....</td><td>.....</td></tr> <tr><td>.....</td><td>.....</td><td>.....</td></tr> <tr><td>.....</td><td>.....</td><td>.....</td></tr> </table>	2	2	3	<table border="1" style="border-collapse: collapse; width: 100%;"> <tr><td style="background-color: #d9ead3;">1</td><td style="background-color: #fcf8e3;">1</td><td style="background-color: #d9ead3;">2</td></tr> <tr><td>.....</td><td>.....</td><td>.....</td></tr> <tr><td>.....</td><td>.....</td><td>.....</td></tr> <tr><td>.....</td><td>.....</td><td>.....</td></tr> <tr><td>.....</td><td>.....</td><td>.....</td></tr> <tr><td>.....</td><td>.....</td><td>.....</td></tr> </table>	1	1	2
2	2	3																																			
.....																																			
.....																																			
.....																																			
.....																																			
.....																																			
1	1	2																																			
.....																																			
.....																																			
.....																																			
.....																																			
.....																																			
$624 - 302 =$	$251 - 40 =$																																				
<table border="1" style="border-collapse: collapse; width: 100%;"> <tr><td style="background-color: #d9ead3;">.....</td><td style="background-color: #fcf8e3;">.....</td></tr> <tr><td style="background-color: #d9ead3;">.....</td><td style="background-color: #fcf8e3;">.....</td></tr> <tr><td style="background-color: #d9ead3;">.....</td><td style="background-color: #fcf8e3;">.....</td></tr> <tr><td style="background-color: #d9ead3;">.....</td><td style="background-color: #fcf8e3;">.....</td></tr> <tr><td style="background-color: #d9ead3;">.....</td><td style="background-color: #fcf8e3;">.....</td></tr> <tr><td style="background-color: #d9ead3;">.....</td><td style="background-color: #fcf8e3;">.....</td></tr> </table>	<table border="1" style="border-collapse: collapse; width: 100%;"> <tr><td style="background-color: #d9ead3;">.....</td><td style="background-color: #fcf8e3;">.....</td></tr> <tr><td style="background-color: #d9ead3;">.....</td><td style="background-color: #fcf8e3;">.....</td></tr> <tr><td style="background-color: #d9ead3;">.....</td><td style="background-color: #fcf8e3;">.....</td></tr> <tr><td style="background-color: #d9ead3;">.....</td><td style="background-color: #fcf8e3;">.....</td></tr> <tr><td style="background-color: #d9ead3;">.....</td><td style="background-color: #fcf8e3;">.....</td></tr> <tr><td style="background-color: #d9ead3;">.....</td><td style="background-color: #fcf8e3;">.....</td></tr> </table>												
.....																																				
.....																																				
.....																																				
.....																																				
.....																																				
.....																																				
.....																																				
.....																																				
.....																																				
.....																																				
.....																																				
.....																																				
<table border="1" style="border-collapse: collapse; width: 100%;"> <tr><td style="background-color: #d9ead3;">1</td><td style="background-color: #fcf8e3;">3</td></tr> <tr><td style="background-color: #d9ead3;">7</td><td style="background-color: #fcf8e3;">5</td></tr> <tr><td style="background-color: #d9ead3;">5</td><td style="background-color: #fcf8e3;">8</td></tr> <tr><td style="background-color: #d9ead3;">U</td><td style="background-color: #fcf8e3;">D</td></tr> </table>	1	3	7	5	5	8	U	D	<table border="1" style="border-collapse: collapse; width: 100%;"> <tr><td style="background-color: #d9ead3;">6</td><td style="background-color: #fcf8e3;">1</td></tr> <tr><td style="background-color: #d9ead3;">2</td><td style="background-color: #fcf8e3;">3</td></tr> <tr><td style="background-color: #d9ead3;">8</td><td style="background-color: #fcf8e3;">7</td></tr> <tr><td style="background-color: #d9ead3;">U</td><td style="background-color: #fcf8e3;">D</td></tr> </table>	6	1	2	3	8	7	U	D																				
1	3																																				
7	5																																				
5	8																																				
U	D																																				
6	1																																				
2	3																																				
8	7																																				
U	D																																				
$85 - 54 =$	$48 - 32 =$																																				

Apprentissage : Les solides : Regarde attentivement cette vidéo et apprend le nom des solides et leurs caractéristiques.

<https://www.youtube.com/watch?v=kY-FAgUGOig>

Voici quelques solides.

Le cube est un solide.

Un cube a : - 6 faces.
Toutes ses faces sont des carrés.

Le pavé droit est un solide.
Il a 6 faces et chaque face est un rectangle .

ou il a 4 faces rectangulaires et 2 faces carrées .

Boutdegomme.fr

Une pyramide. →

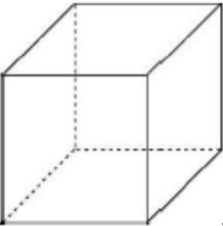
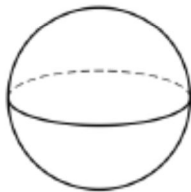
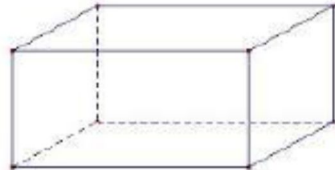
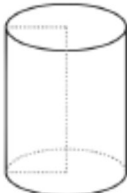

Une boule →

Un cylindre →

Un cône →

Boutdegomme.fr

⇒ Je sais reconnaître les principaux solides

Ceux qui ne roulent pas	Ceux qui roulent
le cube 	la boule 
le pavé 	le cylindre 
la pyramide 	

Les solides



Le cube possède:

- 6 faces carrées
- 8 sommets
- 12 arêtes

Le pavé possède:

- 6 faces rectangles
- 8 sommets
- 12 arêtes

. Exercices : Relie l'objet au solide correspondant.

1



2



3



4



5



A



B



C



D



E

Vendredi 19 juin 2020

Projet lecture : lecture quotidienne de la fiche . Répondre aux questions .Identifier les déterminants (jaune), les noms(bleu) et les verbes en rouge.

Dictée de la semaine :**Je bêche la terre, tu ratisses les cailloux, on sème des graines.**

Production d'écrits : Dimanche prochain c'est la fête des pères.
Écris un acrostiche (adjectifs) avec les lettres du prénom de ton papa

Etude de la langue révision ; les familles de mots

Prénom : Date :

**Grammaire : Les familles de mots
fiche 1**

① Pour chaque famille de mots, entoure l'intrus (le mot qui ne fait pas partie de la famille).

plonger	couvrir	battre
plongeon	couvercle	bataille
plongeur	couteau	bateau
plombier	couverture	batailler
plongeur	couvre-lit	batailleur

② Entoure dans la liste les mots qui appartiennent à une même famille. Recopie la famille de mots en dessous.
Attention, il y a 3 intrus dans la liste.

camp, livre, camper, chapeau, camping, campeur, camion, campement

③ Entoure le mot de base dans tous les mots de la famille.

a) bord : bordure - border - rebord - déborder

b) lait : laitier - laiterie - laitage - laiteux

c) plant : planter - plante - plantation - planteur - replanter

④ Complète les familles en trouvant les deux mots qui manquent.

saut - sautiller :

bain - baignade :

⑤ Classe les mots de la liste en trois familles.

poisson - empoisonner - poison - poissonnier - prison
empoisonnement - prisonnier - poissonnerie - emprisonner

1/

2/

3/

⑥ Entoure dans la liste les mots qui appartiennent à une même famille. Recopie la famille de mots en dessous.

Attention, il y a 3 intrus dans la liste.

rouler, roulette, rouge, rouleau, roseau, rire, roulement

⑦ Complète les phrases avec des mots de la famille de lerze.

Le lapin entre dans son

L'avion va sur la piste.

Ce est à vendre pour construire une maison.

⑧ Retrouve le mot de base de chaque famille de mots.

allonger - longueur - longuement :

nommer - prénom - surnom :

décharger - chargement - recharge :

⑨ Trouve le plus possible de mots de la famille de chaut.

COPIE : Recopie ce poème sur une jolie carte que tu auras décoré. Pour ce dimanche 21 juin, ce sera l'occasion de lui réciter ce beau poème.

Pour ta fête, mon papa

Cher papa,

Ne crois pas,
Que j'allais oublier ta fête.
Depuis plusieurs jours, je répète,
Seul, dans ma tête, ces quelques vers,
Que j'ai peur de dire à l'envers,
Tellement je veux bien les dire.
Alors, si je te vois sourire,
Demain, quand tu les écouteras,
Je serai si content mon papa !
Mes petits bras autour de ton cou,
Je me blottirai contre ta joue,
Puis, je te couvrirai de baisers.
Et tant pis, si tu n'es pas rasé !

Jean Glauzy

**Bonne fête
papa**

Mathématiques

Soustractions posées-

-Pose ces calculs en colonnes sur ton cahier.(Place bien tes nombres)

$48-32=$

$251-40=$

$85-54=$

$624-302=$

PROBLÈMES

- 1 Deux frères, Hugo et Quentin, comparent leur tirelire. Hugo a 68€. Quentin a 42 €.

Combien Hugo a-t-il d'argent de plus que son frère ?

..... =

Il a € de plus.



- 2 Lisa a préparé 37 cartons d'invitation pour son anniversaire. Elle doit maintenant les poster. Sa maman a mis 48 timbres à sa disposition.

Combien de timbres lui restera-t-il ?

..... =

Il lui restera timbres.



- 3 À l'automne, Juliette avait planté 58 bulbes de tulipes, narcisses et jacinthes. Au printemps suivant, 46 fleurs sont sorties de terre.

Combien de bulbes n'ont pas fleuri ?



..... =

..... bulbes n'ont pas fleuri.