

Numération – CE2 – Première partie

Exercice 1 : Écris les nombres suivants avec des chiffres.

	Réponse
Deux	2
Quatre cent quatre-vingt-deux	
Trois cent neuf	
Deux mille sept cent quatre-vingt-un	
Trois mille quatre-vingt-cinq	
Six mille sept cent huit	

1 | 9 | 0

₁

1 | 9 | 0

₂

1 | 9 | 0

₃

1 | 9 | 0

₄

1 | 9 | 0

₅

Exercice 2 : Écris les nombres suivants en lettres.

	Réponse
8	<i>... huit</i>
392	<i>.....</i>
816	<i>.....</i>
2070	<i>.....</i>
6702	<i>.....</i>

1 | 2 | 9 | 0

₆

1 | 2 | 9 | 0

₇

1 | 2 | 9 | 0

₈

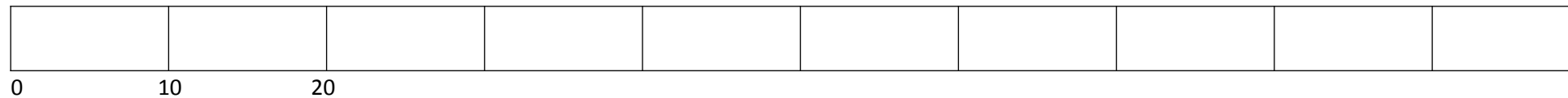
1 | 2 | 9 | 0

₉

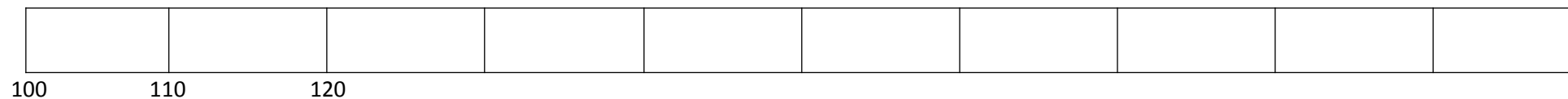
Exercice 3) Se repérer et placer des nombres sur une frise.

Dizaines et centaines.

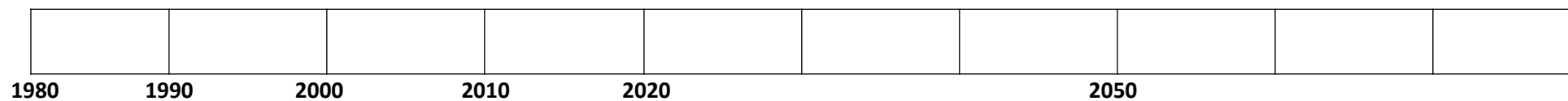
Complète cette frise et entoure les nombres 10 et 70



Complète cette frise et entoure les nombres 130 et 180



Complète cette frise et entoure les nombres 1980 et 2070



Exercice 4 :

Divisions.

Trouve le quotient et le reste. Pose tes calculs.

$$38:2$$

$$65:7$$

$$43:5$$

$$47:15$$

Multiplications.

Pose tes calculs en colonne.

$$67 \times 3$$

$$24 \times 12$$

$$38 \times 6$$

$$42 \times 15$$

Exercice 6 : Range du plus petit au plus grand les nombres suivants : 2180, 2305, 2192, 235, 2185

Réponse : < < < <

1	9	0
---	---	---

¹⁸

Numération – CE2 – Deuxième partie

Exercice 7 : Dans chaque cadre **entoure le plus grand** des deux nombres comme dans l'exemple.

2	1
---	---

489	500
-----	-----

899	1001
-----	------

9800	9769
------	------

1	9	0
1	9	0

¹⁹
²⁰

1	9	0
---	---	---

²¹

Exercice 8 :

a) Parmi les nombres suivants, entoure ceux qui sont compris entre 300 et 400

317, 290, 430, 340, 34, 395

1	3	9	0
---	---	---	---

²²

b) Parmi les nombres suivants, entoure ceux qui sont compris entre 2600 et 2800

1	3	9	0
---	---	---	---

²³

3700, 2790, 269, 340, 2812, 2695

Exercice 9 :

a) Compte de 10 en 10 de 364 à 424

364						424
-----	--	--	--	--	--	-----

1	3	9	0
---	---	---	---

²⁴

b) Compte de 110 en 110 de 3587 à 4247

3587						4247
------	--	--	--	--	--	------

1	3	9	0
---	---	---	---

²⁵

Exercice 10 : Écris la réponse de chaque calcul dans la case réponse. Pose les opérations en colonnes sur la zone blanche qui est juste en-dessous.

	Réponse
95 + 200	
200 + 300	
210 + 50	
480 + 20	
400 - 10	
10 × 100	

1	9	0
---	---	---

²⁶

1	9	0
---	---	---

²⁷

1	9	0
---	---	---

²⁸

1	9	0
---	---	---

²⁹

1	9	0
---	---	---

³⁰

1	9	0
---	---	---

³¹

$2000 + 3000$	
$1900 + 200$	
$3000 - 1$	
$1705 - 10$	

1	9	0	32
---	---	---	----

1	9	0	33
---	---	---	----

1	9	0	34
---	---	---	----

1	9	0	35
---	---	---	----

Exercice 11 : Résous les problèmes suivants. Pose tes opérations en colonnes.

	Réponse
Matéo a 20 billes. Sara en a 10 de plus que lui.	

<p>Combien les deux enfants ont-ils de billes en tout ?</p>	
<p>Léa a déjà parcouru 430 mètres depuis sa maison. Il lui reste encore 200 mètres pour arriver jusqu'à l'école. Quelle distance y a-t-il entre la maison de Léa et son école ?</p>	
<p>Tim a fait une randonnée en montagne de plusieurs jours. Le premier jour il est parti d'une altitude de 1357 mètres, puis il est monté de 1000 mètres. Le deuxième jour il est encore monté de 700 mètres. A quelle altitude était-il à la fin du deuxième jour ?</p>	

1 3 9 0 ³⁶

1 3 9 0 ³⁷

1 3 9 0 ³⁸