

Jeudi 30 avril 2020

Exercice 1

✓ Calcule

$$\begin{array}{r} \square \square \\ + \begin{array}{r} 464 \\ 388 \end{array} \\ \hline \square \square \square \square \end{array}$$

$$\begin{array}{r} \square \square \\ + \begin{array}{r} 723 \\ \square 77 \end{array} \\ \hline \square \square \square \square \end{array}$$

$$\begin{array}{r} \square \square \\ - \begin{array}{r} 56 \\ 23 \end{array} \\ \hline \square \square \end{array}$$

$$\begin{array}{r} \square \square \square \\ - \begin{array}{r} 123 \\ \square 66 \end{array} \\ \hline \square \square \square \end{array}$$

$$\begin{array}{r} \begin{array}{r} 68 \\ \square 4 \end{array} \\ \times \\ \hline \square \square \square \end{array}$$

Exercice 2

✓ Complète avec l'unité qui convient : mm, cm, m, km

- Shandra parcourt chaque matin 200 ... pour aller à l'école.
- La maison de sa tatie se situe à 60 ... de Sainte-Suzanne.
- Une pièce de monnaie mesure quelques ... d'épaisseur.
- Une feuille d'un grand cahier mesure 29,5 .... de longueur.

## Exercices

## Les polygones

## 1 Vrai ou faux. Colorie la bonne réponse.

Un polygone est composé uniquement de lignes droites.....

|   |   |
|---|---|
| V | F |
|---|---|

Un polygone est une figure fermée .....

|   |   |
|---|---|
| V | F |
|---|---|

Un cercle est un polygone à 1 côté .....

|   |   |
|---|---|
| V | F |
|---|---|

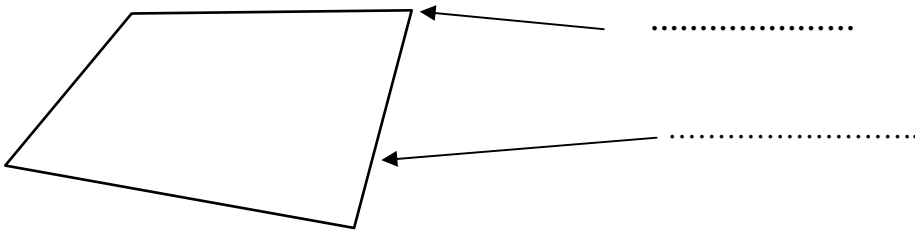
Un carré est un polygone à 4 côtés .....

|   |   |
|---|---|
| V | F |
|---|---|

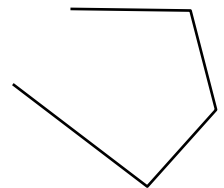

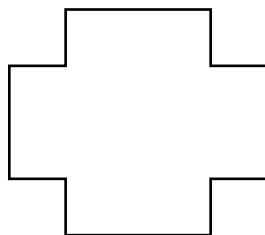

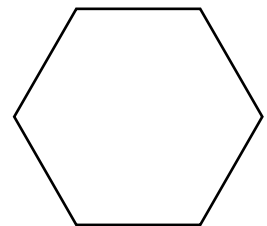

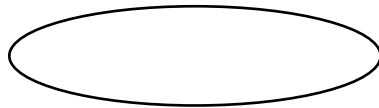

Un polygone a plus de côtés que de sommets .....

|   |   |
|---|---|
| V | F |
|---|---|

## 2 Complète la légende du polygone suivant.



## 3 Colorie uniquement les polygones



# PROBLEME DU JOUR n° 1

(source : <https://www.mathsenvie.fr/?p=3834>)

Dans chacune des 4 photos suivantes, trouve au moins un triangle. Ensuite, cherche-les tous, il y en a bien plus que tu ne crois !

