

Mon fichier
de numération n°9

Les nombres de 0 à 90

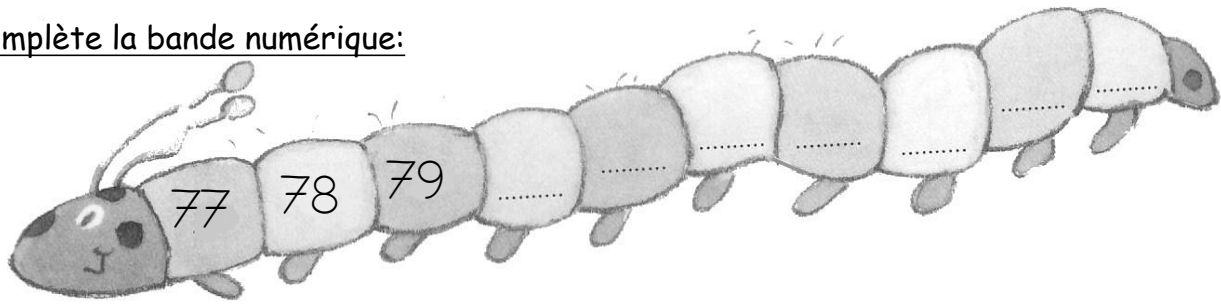


Nombres et quantités : de 0 à 90



1 Complète avec le bon nombre :

2 Complète la bande numérique:





Nombres et quantités : de 0 à 90

1 Complète les cases grises du tableau des nombres

	41								
						56			
		62							
70					75				
									89

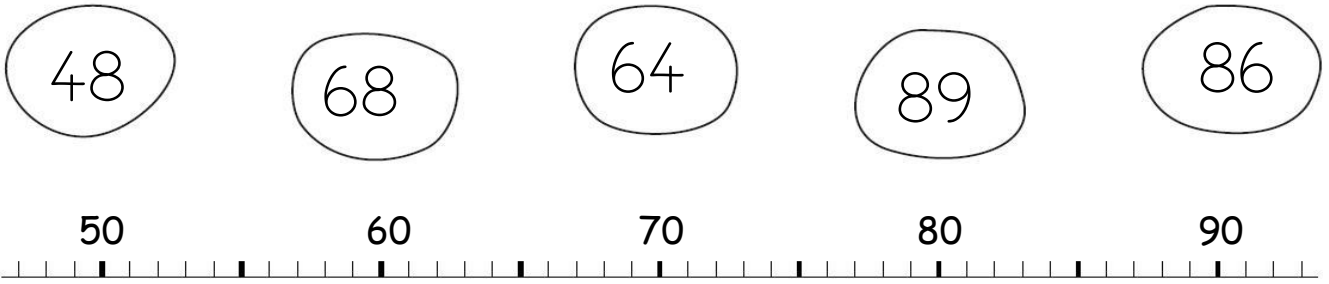
2 Colorie les pièces et billets correspondants à la somme dans la tirelire :



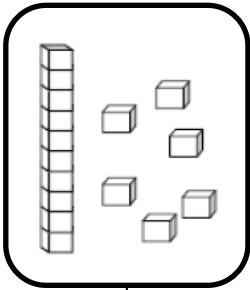
Nombres et quantités : de 0 à 90




1 Relie les nombres à leur place sur la droite graduée




2 Dessine le nombre en barres




16



86



77

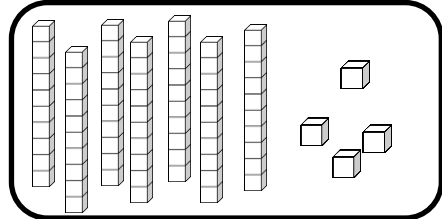
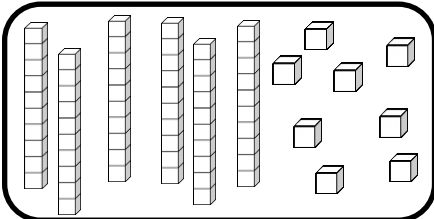
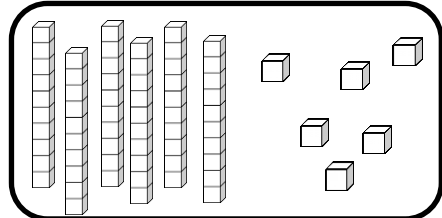
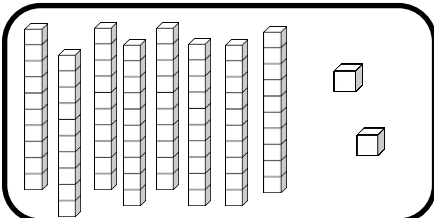


81


Nombres et quantités : de 0 à 90



1 Complète avec le bon nombre :



2 Complète la bande numérique:



Nombres et quantités: de 0 à 90




1 Aide-toi des étiquettes pour écrire les nombres

89	
64	
82	


- quatre
- neuf
- deux
- vingt
- soixante

2 Complète



Nombres et quantités: de 0 à 90

1 Compte en faisant des paquets de 10



Nombres et quantités: de 0 à 90



1 Aide-toi des étiquettes pour écrire les nombres

85	
69	
84	

- quatre
- neuf
- cinq
- vingt
- soixante

2 Ecris les nombres dans l'ordre décroissant, du plus grand au plus petit:



69 - 79 - 65 - 34 - 45 - 59

Nombres et quantités : de 0 à 90

1 Complète le tableau des nombres

	41								
						56			
		62							
70					75				
									89

2 Trouve combien Arthur a d'argent dans sa tirelire :




Nombres et quantités: de 0 à 90

1 Calcule puis vérifie en faisant avancer la grenouille.



52	-1		+10		-1		+10	
----	----	--	-----	--	----	--	-----	--

40	41	42	43	44	45	46	47	48	49
50	51		53	54	55	56	57	58	59
60	61	62	63	64	65	66	67	68	69
70	71	72	73	74	75	76	77	78	79
80	81	82	83	84	85	86	87	88	89

Nombres et quantités: de 0 à 90

1 Complète



$$44 = 40 + 4$$

$$83 = _ + _$$

$$72 = _ + _$$

$$78 = _ + _$$

$$81 = _ + _$$


$$67 = _ + _$$

$$57 = _ + _$$

$$65 = _ + _$$



$$84 = _ + _$$

2 Complète

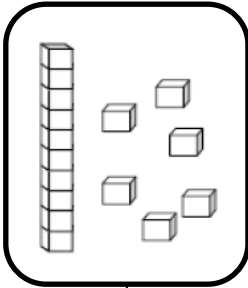


Nombres et quantités: de 0 à 90


1 Colorie les pièces et billets correspondants à la somme dans la tirelire :




2 Dessine le nombre en barres




16



82



76



87

Nombres et quantités : de 0 à 90



1 Colorie de la même couleur ce qui est identique:

83

$80+5$

$80+3$

quatre-vingt-trois

quatre-vingt-sept

$20+20+20+20+7$

85

$20+20+20+20+5$

81

$20+20+20+20+3$

89

quatre-vingt-cinq

$20+20+20+20+9$

quatre-vingt-neuf

$80+1$

$80+9$

$80+7$

$20+20+20+20+1$


87

quatre-vingt-un

Nombres et quantités: de 0 à 90



1 Complète



2 Trouve le nombre qui vient avant et celui qui vient après

<input type="text"/>	89	<input type="text"/>
<input type="text"/>	82	<input type="text"/>
<input type="text"/>	89	<input type="text"/>


<input type="text"/>	60	<input type="text"/>
<input type="text"/>	84	<input type="text"/>
<input type="text"/>	77	<input type="text"/>

Nombres et quantités : de 0 à 90

1 Calcule puis vérifie en faisant avancer la grenouille.



77	-10		-1		-1		-10	
----	-----	--	----	--	----	--	-----	--

40	41	42	43	44	45	46	47	48	49
50	51	52	53	54	55	56	57	58	59
60	61	62	63	64	65	66	67	68	69
70	71	72	73	74	75	76		78	79
80	81	82	83	84	85	86	87	88	89

Nombres et quantités : de 0 à 90



1 Colorie de la même couleur ce qui est identique:

84	$20+20+20+20+8$	quatre-vingt-quatre	86	$80+6$
$80+9$	quatre-vingt-huit	$80+8$	$20+20+20+20+4$	$80+4$
quatre-vingt-deux	$20+20+20+20+9$	$80+2$	quatre-vingt-six	$20+20+20+20+6$
$20+20+20+20+2$	quatre-vingt-neuf	82	89	

Nombres et quantités: de 0 à 90



1 Ecris les nombres dans l'ordre croissant, du plus petit au plus grand:

72 - 83 - 71 - 85 - 88 - 68

□ □ □ □ □ □

2 Trouve combien Arthur a d'argent dans sa tirelire :

20 Euro banknotes: 2
5 Euro banknotes: 2
2 Euro coins: 2

Nombres et quantités : de 0 à 90

3



15

1 Complète avec $<$, $>$ ou $=$:

82

.....

37

82

.....

62

66

.....

86

60

.....

70

80

.....

85

85

.....

19

2 Ecris les nombres dans l'ordre croissant, du plus grand au plus petit :

34 - 75 - 56 - 52 - 42 - 84

Nombres et quantités: de 0 à 90

1 Trouve le nombre qui vient avant et celui qui vient après



88

60

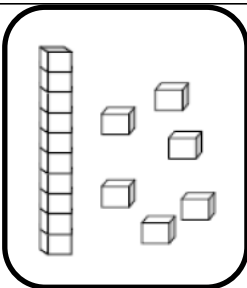
81

73

55

89

2 Dessine le nombre en barres



16

85

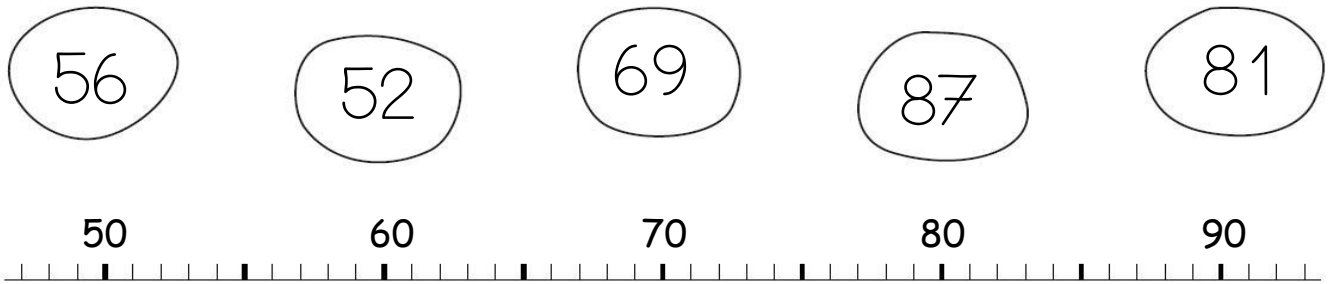
57

68


Nombres et quantités : de 0 à 90



1 Relie les nombres à leur place sur la droite graduée



2 Complète



Nombres et quantités : de 0 à 90



1 Complète avec $<$, $>$ ou $=$:

81 $80 + 8$

$80 + 3$ 79

86 $10 + 8$

$80 + 9$ 75

87 $80 + 5$

$80 + 7$ 87

2 Ecris les nombres dans l'ordre croissant, du plus petit au plus grand:

72 - 82 - 68 - 47 - 87 - 62

□ □ □ □ □ □