

Mon fichier
de numération n°8

Les nombres de 0 à 80



Ecole de Crevette

Nombres et quantités : de 0 à 80



1 Complète avec le bon nombre :

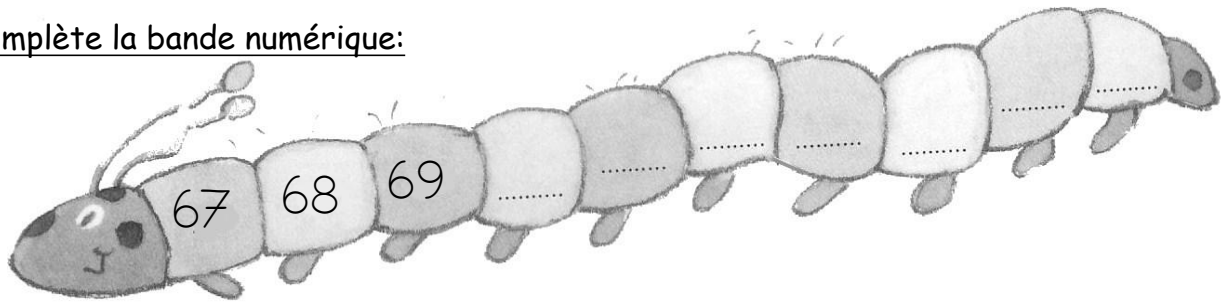
□

□

□

□

2 Complète la bande numérique:




Nombres et quantités : de 0 à 80

1 Complète les cases grises du tableau des nombres

	31								
						46			
		52							
60					65				
									79

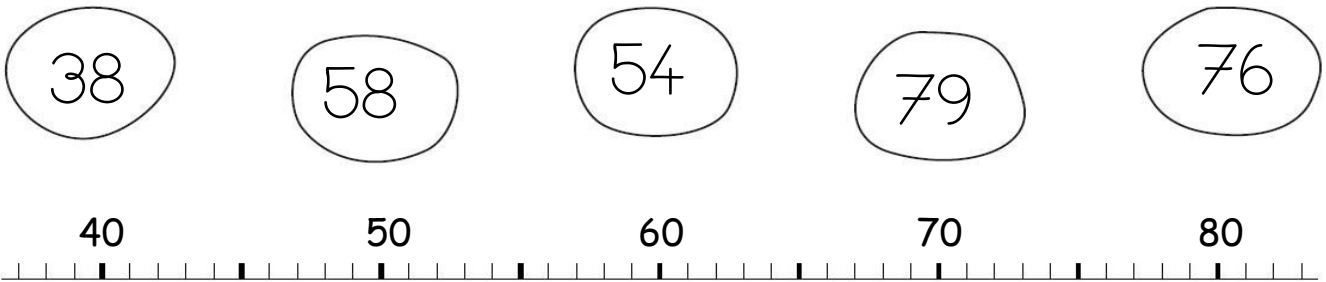
2 Colorie les pièces et billets correspondants à la somme dans la tirelire :



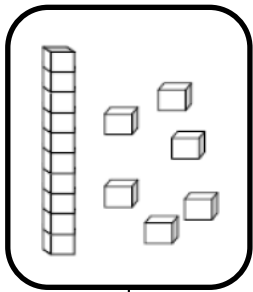
Nombres et quantités : de 0 à 80




1 Relie les nombres à leur place sur la droite graduée




2 Dessine le nombre en barres




16



76



67

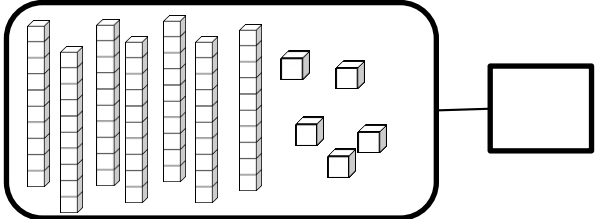
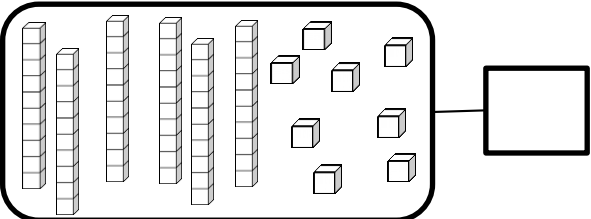
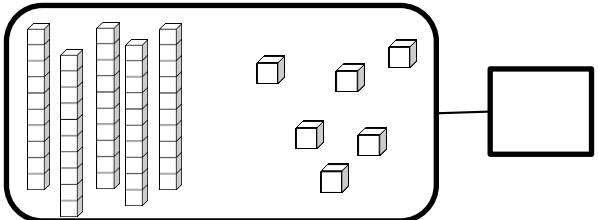
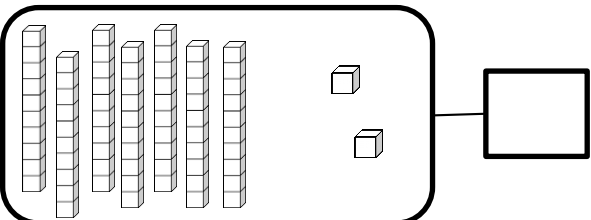


71


Nombres et quantités : de 0 à 80



1 Complète avec le bon nombre :



2 Complète la bande numérique:



Nombres et quantités: de 0 à 80




1 Aide-toi des étiquettes pour écrire les nombres

79	
68	
72	

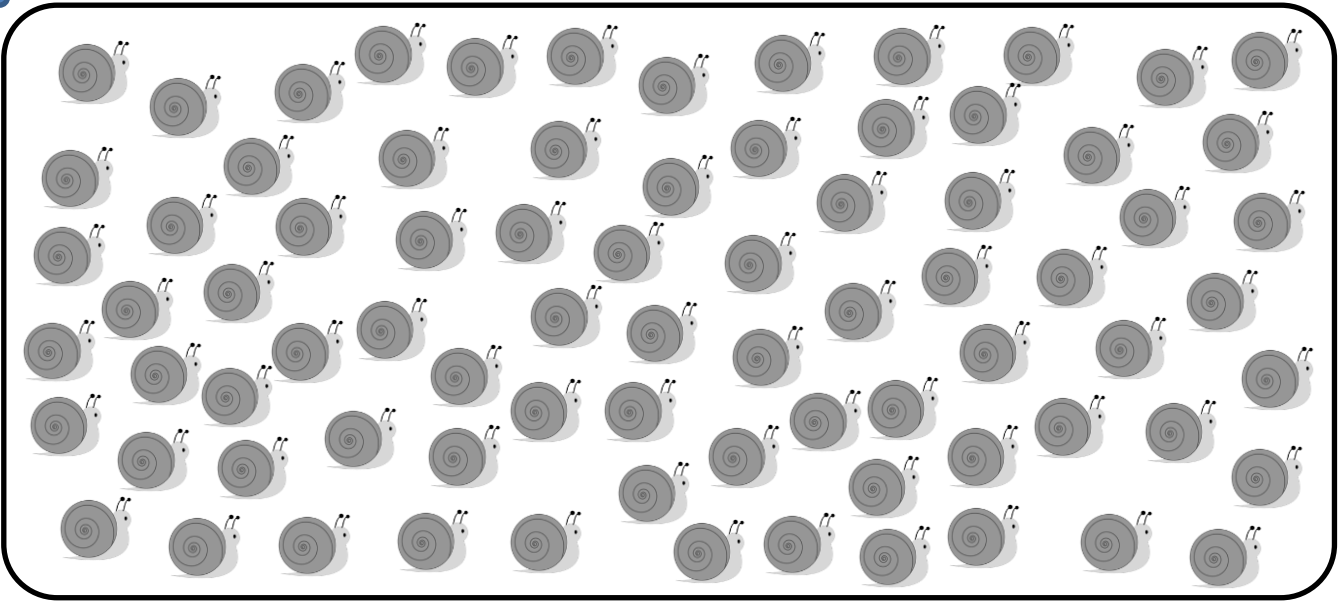
- huit
- neuf
- douze
- dix
- soixante

2 Complète



Nombres et quantités: de 0 à 80

1 Compte en faisant des paquets de 10



Nombres et quantités: de 0 à 80



1 Aide-toi des étiquettes pour écrire les nombres

75	
69	
77	

- sept
- neuf
- quinze
- dix
- soixante

2 Ecris les nombres dans l'ordre décroissant, du plus grand au plus petit:

69 - 79 - 65 - 34 - 45 - 59


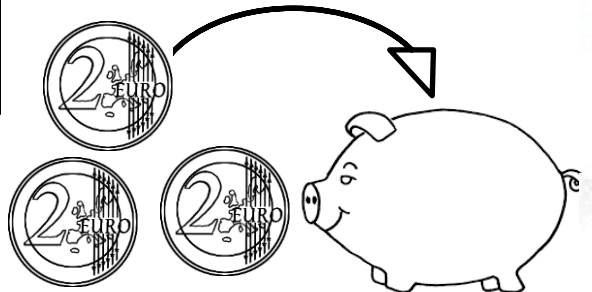


□ □ □ □ □ □

Nombres et quantités : de 0 à 80

1 Complète le tableau des nombres

	31								
						46			
		52							
60					65				
									79

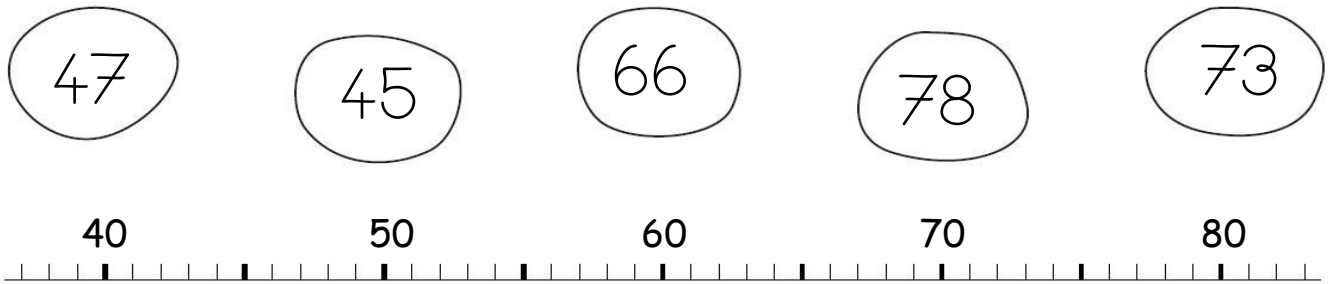
2 Trouve combien Arthur a d'argent dans sa tirelire :




Nombres et quantités : de 0 à 80



1 Relie les nombres à leur place sur la droite graduée



2 Complète



Nombres et quantités : de 0 à 80

1 Aide-toi des étiquettes pour écrire les nombres

74	
17	
73	

- sept
- dix
- treize
- quatorze
- soixante

2 Ecris les nombres dans l'ordre croissant, du plus petit au plus grand:

51 - 63 - 57 - 73 - 37 - 77


□ □ □ □ □ □

Nombres et quantités: de 0 à 80

1 Calcule puis vérifie en faisant avancer la grenouille.



42	-1		+10		-1		+10	
----	----	--	-----	--	----	--	-----	--

30	31	32	33	34	35	36	37	38	39
40	41		43	44	45	46	47	48	49
50	51	52	53	54	55	56	57	58	59
60	61	62	63	64	65	66	67	68	69
70	71	72	73	74	75	76	77	78	79

Nombres et quantités: de 0 à 80

1 Complète



$$34 = 30 + 4$$

$$73 = _ + _$$

$$62 = _ + _$$

$$68 = _ + _$$

$$71 = _ + _$$


$$57 = _ + _$$

$$47 = _ + _$$

$$55 = _ + _$$

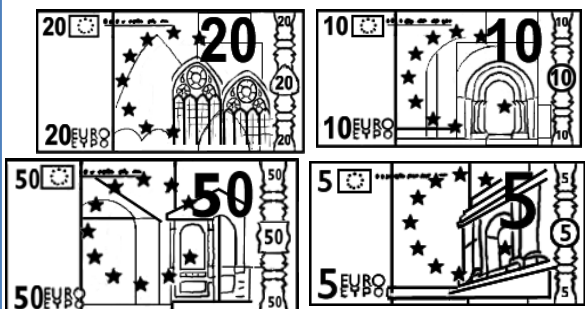
$$74 = _ + _$$

2 Complète

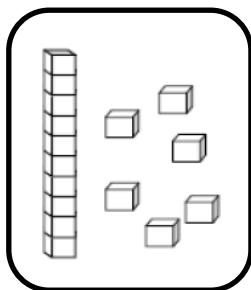


Nombres et quantités: de 0 à 80


1 Colorie les pièces et billets correspondants à la somme dans la tirelire :




2 Dessine le nombre en barres




16



72



66



77

Nombres et quantités : de 0 à 80



1 Colorie de la même couleur ce qui est identique:

73

$70+5$

$70+3$

soixante-treize

soixante-dix-sept

$60+17$

75

$60+15$

79

$70+9$

$60+13$

$60+19$

soixante-quinze

71

77

$70+1$

$70+7$

$60+11$


soixante-dix-neuf

soixante-et-onze

Nombres et quantités: de 0 à 80



1 Complète



2 Trouve le nombre qui vient avant et celui qui vient après

<input type="text"/>	79	<input type="text"/>
<input type="text"/>	72	<input type="text"/>
<input type="text"/>	69	<input type="text"/>

<input type="text"/>	50	<input type="text"/>
<input type="text"/>	74	<input type="text"/>
<input type="text"/>	77	<input type="text"/>

Nombres et quantités : de 0 à 80

1 Calcule puis vérifie en faisant avancer la grenouille.



57	-10		-1		-1		-10	
----	-----	--	----	--	----	--	-----	--

30	31	32	33	34	35	36	37	38	39
40	41	42	43	44	45	46	47	48	49
50	51	52	53	54	55	56	57	58	59
60	61	62	63	64	65	66		68	69
70	71	72	73	74	75	76	77	78	79

Nombres et quantités : de 0 à 80



1 Colorie de la même couleur ce qui est identique:

74

$60+18$

$70+6$

soixante-quatorze

$70+9$

soixante-dix-huit

$70+8$

$70+4$

soixante-douze

76

$60+19$

soixante-seize

$60+14$

$60+12$

79

$70+2$

78

soixante-dix-neuf

$60+16$

72

Nombres et quantités: de 0 à 80






1 Ecris les nombres dans l'ordre croissant, du plus petit au plus grand:

62 - 73 - 61 - 75 - 78 - 68

□ □ □ □ □ □

2 Trouve combien Arthur a d'argent dans sa tirelire :



Nombres et quantités : de 0 à 80

3



15

1 Complète avec $<$, $>$ ou $=$:

72

.....

27

72

.....

52

56

.....

76

50

.....

60

70

.....

75

75

.....

19

2 Ecris les nombres dans l'ordre croissant, du plus grand au plus petit :

24 - 35 - 46 - 42 - 32 - 64

Nombres et quantités: de 0 à 80

1 Trouve le nombre qui vient avant et celui qui vient après



78

50

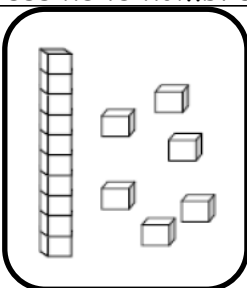
71

63

45

79

2 Dessine le nombre en barres



16

75

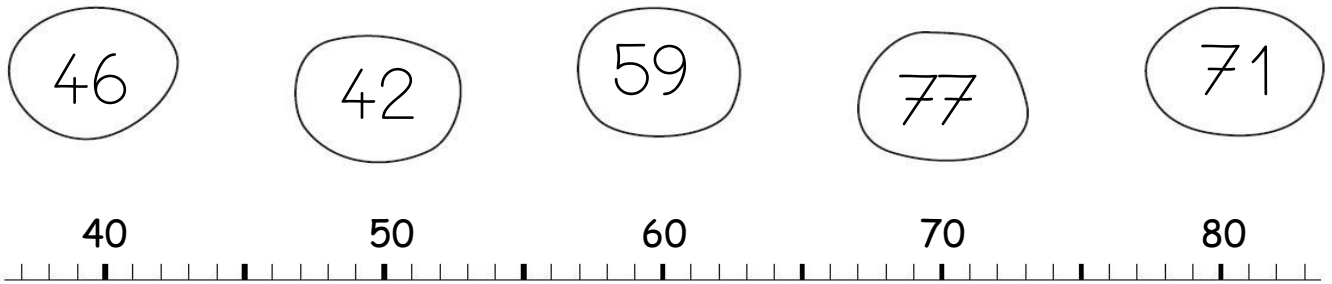
47

58


Nombres et quantités : de 0 à 80



1 Relie les nombres à leur place sur la droite graduée



2 Complète



Nombres et quantités : de 0 à 80



1 Complète avec $<$, $>$ ou $=$:

71 $70 + 8$

$70 + 3$ 69

76 $10 + 8$

$70 + 9$ 75

77 $70 + 5$

$70 + 7$ 76

2 Ecris les nombres dans l'ordre croissant, du plus petit au plus grand:

72 - 12 - 68 - 47 - 27 - 62

□ □ □ □ □ □