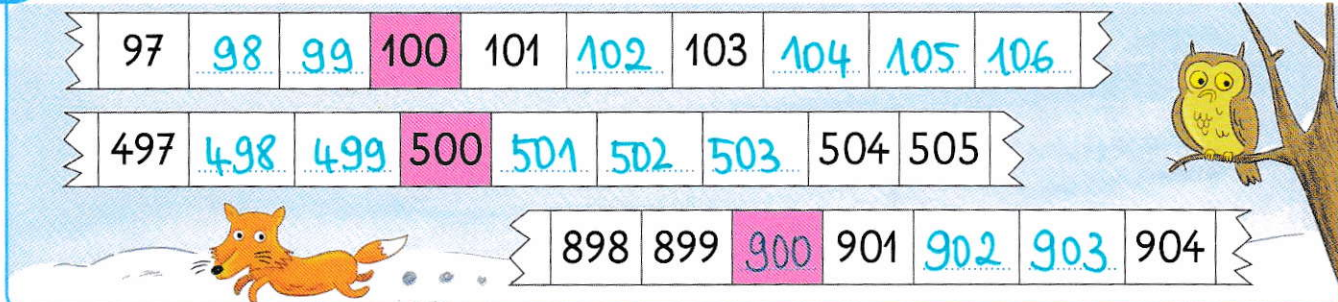


CALCUL MENTAL


Dire ou écrire deux dizaines consécutives. Ex : 40 et 50.
Écrire un nombre qui se situe entre les deux nombres.

--	--	--	--	--	--

1 Complète les bandes numériques.



2 Écris le nombre qui vient juste avant et juste après.



3 Complète les suites.

- On ajoute toujours 1.

645 646 647 648

- On ajoute toujours 10.

645 655 665 675

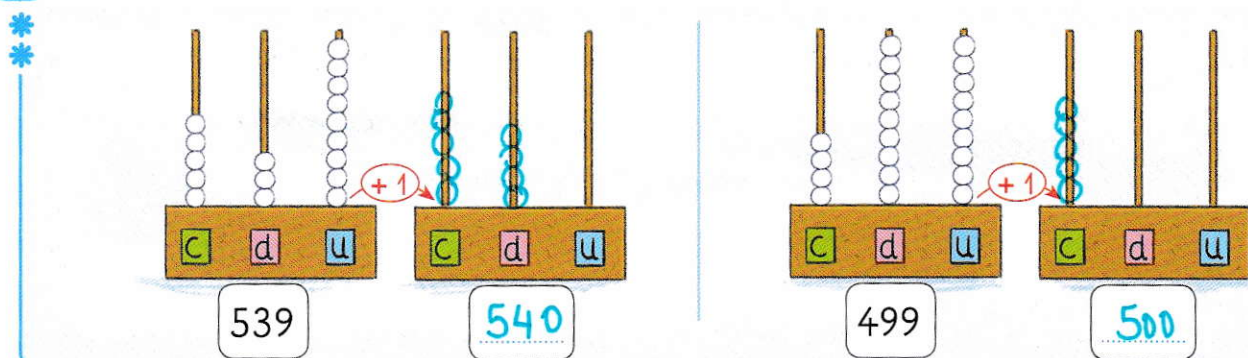
- On ajoute toujours 100.

645 745 845 945

4 Effectue les opérations.

$253 + 100 = 353$	$329 - 100 = 229$	$189 + 1 = 190$	$635 - 1 = 634$
$762 + 100 = 862$	$270 - 100 = 170$	$399 + 1 = 400$	$720 - 1 = 719$
$534 + 100 = 634$	$198 - 100 = 98$	$900 + 1 = 901$	$900 - 1 = 899$

5 Écris le nombre qui suit et complète l'abaque.



Comparer, ranger, intercaler les nombres à trois chiffres

OBJECTIF : utiliser la valeur des chiffres pour comparer les nombres à trois chiffres.

CALCUL MENTAL

Problème : moitié d'un nombre pair ≤ 20 .

« Tom et Marie se partagent équitablement 12 bonbons.

Quelle sera la part de chacun ? »

6

5



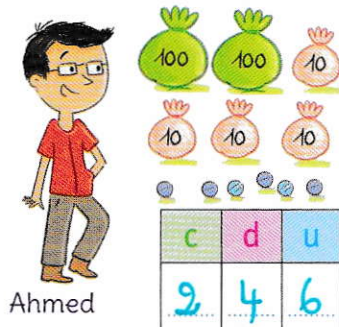
10

8

7

9

1 Écris le nombre de billes.



• Qui a le plus de billes ? Nolan

• Qui a le moins de billes ? Émilie

2 Range du plus petit au plus grand.

~~124~~ - ~~86~~ - ~~539~~ - ~~400~~ - ~~901~~



3 Compare en utilisant les signes $>$ et $<$.

182 $<$ 436

4 + 500 $<$ 540

561 $>$ 549

600 + 9 $<$ 610

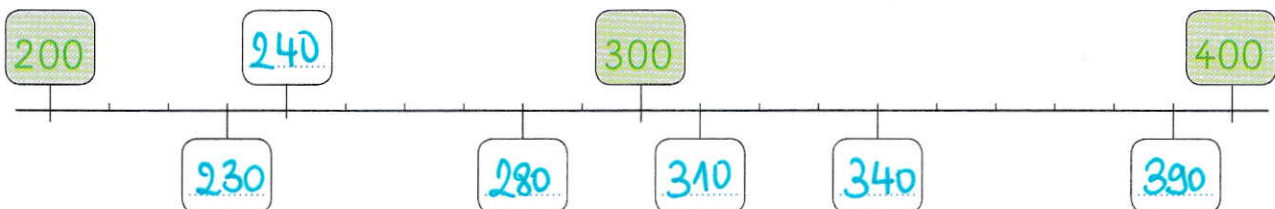
4 Problème Laura dit : « J'ai 8 boîtes de 10 perles, 1 boîte de 100 perles et 9 perles. » Izia dit : « J'ai 1 boîte de 10 perles, 2 boîtes de 100 perles et 3 perles. »

• Qui a le plus de perles ? Izia

• Explique pourquoi. Elle a 2 boîtes de 100 perles, soit une de plus que Laura.



5 Place les nombres : ~~280~~ - ~~340~~ - ~~230~~ - ~~390~~ - ~~240~~ - ~~310~~.



6 Intercalle les nombres à la place qui convient.

~~153~~

~~250~~

~~190~~

~~386~~

~~215~~

~~470~~

~~360~~

~~409~~

