

Prénom :

Date :/...../.....

Exercices

Tracer des cercles

1 En utilisant les points déjà donnés, trace les cercles demandés.

- a) Un cercle de diamètre AB
- b) Un cercle de centre B et de rayon BC

A
x

B
x

x C

3 Trace des cercles suivants :

Un cercle de diamètre $AB = 4$ cm

Un cercle de rayon 3 cm.

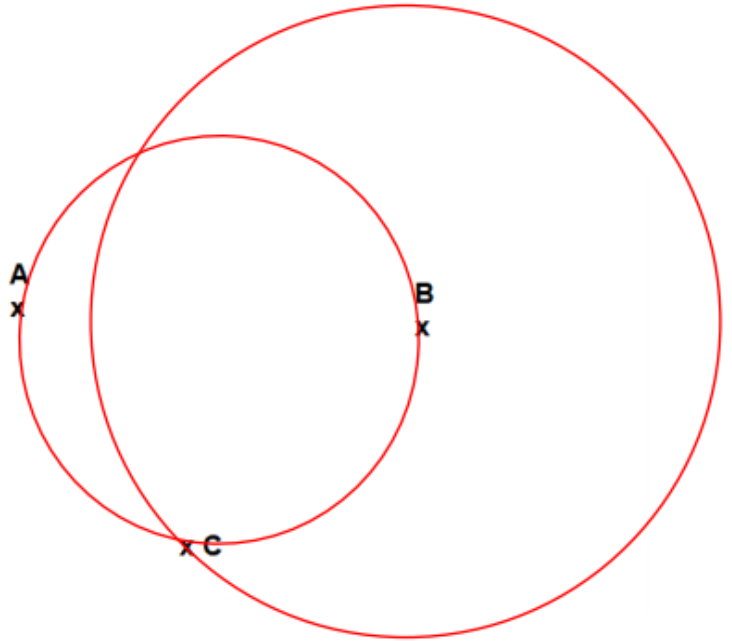
Un cercle de diamètre 8 cm :

Un cercle de rayon de 3 cm :

Correction : Tracer des cercles

1 En utilisant les points déjà donnés, trace les cercles demandés.

- a) Un cercle de diamètre AB
- b) Un cercle de centre B et de rayon BC

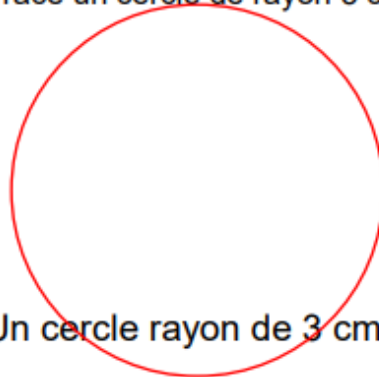


2 Trace des cercles


Trace un cercle diamètre AB = 4 cm.



Trace un cercle de rayon 5 cm.



Un cercle de diamètre 8 cm :



Un cercle rayon de 3 cm :

