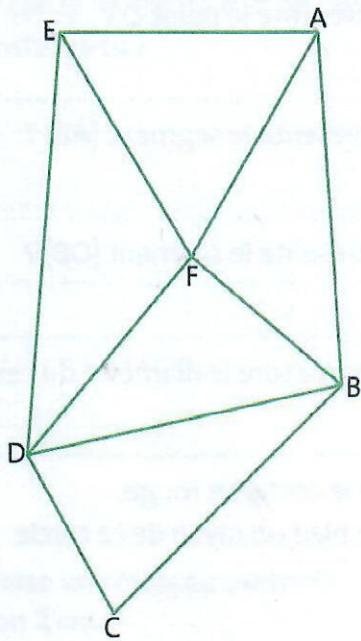


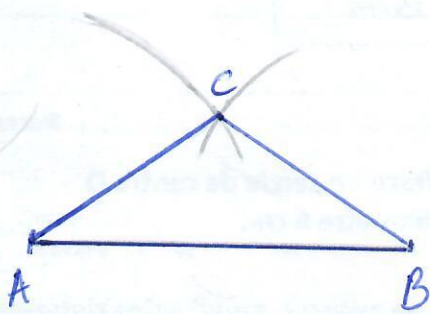
3 * Nomme tous les triangles de cette figure et indique leur nature.



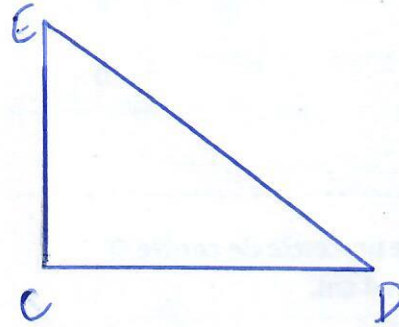
Triangle EAF = équilatéral
 Triangle AFB = quelconque
 Triangle FBD = rectangle
 Triangle DBC = isocèle
 Triangle EFD = isocèle

Tracer des triangles

4 * Trace un triangle isocèle.



5 * Trace un triangle rectangle.



6 * a. Trace un triangle ABC rectangle en A tel que $AB = 6\text{ cm}$ et $AC = 4\text{ cm}$.

b. Trace le triangle ACD rectangle en A tel que $AD = 6\text{ cm}$.

b. Quelle est la nature du triangle BCD ?
 BCD est un triangle isocèle

