

Je sais tracer des cercles.

Exercices

Tracer des cercles

Trace les cercles suivants :

Figure 1 :

Trace un cercle de rayon 3cm et 5mm

Figure 2 :

Trace un cercle de diamètre 6 cm

Figure 3 :

Trace un cercle de rayon [AB] et de centre B

A I ——— I B

Figure 4 :

Trace un cercle de diamètre [AB] et de centre O

A I ——— I B

Correction : Tracer des cercles

Trace les figures géométriques suivantes :

Figure 1 :

Trace un cercle de rayon 3cm et 5mm




Figure 2 :

Trace un cercle de diamètre 6 cm




Figure 3 :

Trace un cercle de rayon [AB] et de centre B

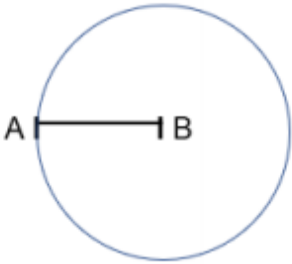


Figure 4 :

Trace un cercle de diamètre [AB] et de centre O

