

Classe de Ce1B : Semaine du 25 mai

Chers parents, Chers élèves,

Vous pouvez me joindre à loukmaan.moulan@ac-reunion.fr . C'est avec plaisir que je vous répondrai.

En vous souhaitant une bonne semaine,

M. MOULAN

Le lundi 25 mai 2020 :

Rituels :

Activité 1 : durée indicative : 5 minutes

-Réponds à la question : quelle est la date d'aujourd'hui?

-Entoure les noms au féminin :

roue - nuage - lion - fille - jouet - peluche

-Entoure les noms au pluriel :




sac - puzzle - léopards - livres - hiboux - poux

Français :

Activité 2 : durée indicative : 45 minutes

Les valeurs de la lettre A

-lis la fiche :

[a]	[o]	[è]	[an]	[ain]	
					
a	au	eau	ai	an	
un ananas avec alors la classe du chocolat le repas Madame un lapin	chaud des chaussures des chaussettes aussi un autre les autres jaune à gauche	l'eau beau un bateau un tableau	J'ai faire je vais mais une maison une semaine jamais vrai	un an une chanson maman une branche grand quand la cantine une orange	demain soudain maintenant un train du pain j'ai faim
a	au	eau	ai	an am ain aim	

-complète les pointillés en t'aidant de la fiche précédente:

Les petites devinettes du jour :

- le boulanger confectionne du
- Les élèves sont dans la :
- Je prends mon repas à la :
- Je chante une
- Je marche avec des

chaud
des chaussures
des chaussettes
aussi
un autre
les autres
jaune
à gauche

l'eau
beau
un bateau
un tableau

-recopie ces mots ci-contre sur ton cahier de brouillon :

-demande à tes parents de te faire une dictée de ces mots

Mathématiques :

Activité 3 : durée indicative : 20 minutes

-poursuis les activités sur ton ardoise (ou ton cahier) et note tes résultats dans le tableau :


<p>Série 37</p>	<p>Dictée de nombres</p> <p>1 soixante-sept 2 quatre-vingts 3 quatre-vingt-deux 4 soixante-douze 5 quatre-vingt-dix 6 quatre-vingt-un 7 cinquante-huit 8 quatre-vingt-onze 9 quatre-vingt-dix-huit 10 soixante-quinze</p>
<p>Série 38</p>	<p>Additionner des dizaines entières</p> <p>1 20+10 2 20+20 3 30+30 4 30+20 5 40+30 6 50+20 7 40+40 8 60+20 9 50+40 10 70+20</p>
<p>Série 39</p>	<p>Ajouter ou retrancher 1</p> <p>1 96+1 2 89+1 3 78+1 4 64+1 5 69+1 6 97-1 7 72-1 8 81-1 9 90-1 10 79-1</p>
<p>Série 40</p>	<p>Connaitre les moitiés</p> <p>1 moitié de 10 2 moitié de 6 3 moitié de 2 4 moitié de 8 5 moitié de 14 6 moitié de 18 7 moitié de 4 8 moitié de 12 9 moitié de 16 10 moitié de 20</p>

Question	Série 38	Série 39	Série 40
1)			
2)			
3)			
4)			
5)			
6)			
7)			
8)			
9)			
10)			


Activité 4 : durée indicative : 25 minutes

Construction de la table de multiplication de 4 (déjà abordé la semaine dernière) :


-Complète sur les pointillés :



$4 \times 1 = \dots$




$4 \times 2 = \dots$




$4 \times 3 = \dots$


-Colorie les cases puis complète sur les pointillés :




$4 \times 4 = \dots$




$4 \times 5 = \dots$




$4 \times 6 = \dots$




$4 \times 7 = \dots$



$4 \times 8 = \dots$



$4 \times 9 = \dots$



$4 \times 10 = \dots$

Table de 4

$4 \times 0 = 0$

$4 \times 1 = 4$

$4 \times 2 = 8$

$4 \times 3 = 12$

$4 \times 4 = 16$

$4 \times 5 = 20$

$4 \times 6 = 24$

$4 \times 7 = 28$

$4 \times 8 = 32$

$4 \times 9 = 36$

$4 \times 10 = 40$

-Révise la table de multiplication de 4 :

Le mardi 26 mai 2020 :

Rituels :

Activité 5 : durée indicative : 5 minutes

-Ecris la date d'aujourd'hui.

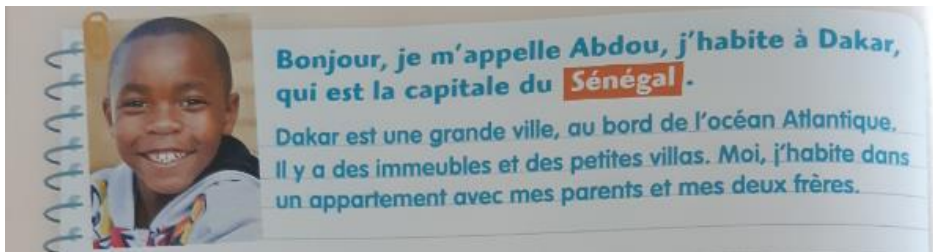
-Réponds à la question : quel temps fait-il aujourd'hui ?

Aide : tu peux utiliser les mots suivants : beau, nuage, nuageux, ensoleillé, pluie, pluvieux.

Français :

Activité 6 : durée indicative : 20 minutes

-Pause lecture : lis le texte suivant :



-Ecris quelques phrases pour dire si tu aimerais aller visiter Dakar et pourquoi.

Activité 7 : durée indicative : 20 minutes :

-trouve les mots cachés en utilisant les mots suivants:

maison - monde - confiture - montre - cochon - onze - ronde - tomber - nombre



-quel est le son commun à tous ces mots ?

Mathématiques :

Activité 8 : durée indicative : 30 minutes

Les additions avec retenue :

-effectue ces additions :

36	51	43
+ 47	+ 29	+ 18
_____	_____	_____

-pose et effectue ces additions :

54 + 22	42 + 29	36 + 54	75 + 16

-résous ce problème à l'aide d'un calcul posé:

Les classes de l'école comptent 56 filles et 42 garçons. **Combien d'élèves** y a-t-il dans l'école ?

Aide :

28 + 45 = ?

$$\begin{array}{r} \text{d} \quad \text{u} \\ \textcircled{1} \quad 8 \\ 2 \quad 8 \\ + 4 \quad 5 \\ \hline \textcircled{1} + 2 + 4 \quad 7 \quad 3 \quad \textcircled{8 + 5} \end{array}$$

MÉMO

13, c'est 1 d et 3 u !
 Je mets la dizaine dans la colonne des dizaines sous forme d'une retenue.
 Puis j'additionne les dizaines, sans oublier la retenue !

Le jeudi 28 mai 2020 :

Rituels :

Activité 9 : durée indicative : 5 minutes

- Réponds à la question : quelle est la date d'aujourd'hui?







- Ecris deux phrases à propos de ce que tu as fait ce mercredi.

Français :

Activité 10 : durée indicative : 45 minutes

Les valeurs de la lettre O

- lis la fiche :

[o]	[oi]	[ou]	[on]	[oin]	
 un domino un domino	 une gomme une gomme	 le roi le roi	 une poule une poule	 un poisson un poisson	 un point un point
o	oi	ou	on	oin	
un stylo l'hôpital un sot un pot un lot le dos un vélo	une somme une pomme un homme comme une gomme une personne une tomate	un oiseau mon poignet une poignée mademoiselle la foire une histoire pourquoi la loi	un coussin un cousin une boule le gouter le journal une bouteille beaucoup bonjour sous	une chanson un ballon le monde un wagon un pantalon combien il tombe le pompier	loin un point mon poing moins un cœur un bœuf ma sœur un chœur
o	oi	ou	on om	oin œu	

- complète les pointillés en t'aidant de la fiche précédente :

Les petites devinettes du jour :

- Les élèves écrivent avec un
- Une phrase se termine par un :
- Ils éteignent les incendies :
- Il a reçu un coup de
- J'efface mon trait avec une

- recopie ces mots ci-contre sur ton cahier de brouillon :

- demande à tes parents de te faire une dictée de ces mots

une chanson
un ballon
le monde
un wagon
un pantalon
combien
il tombe

Mathématiques :

Activité 11 : durée indicative : 20 minutes

-poursuis les activités de calcul mental sur ton ardoise (ou ton cahier) et note tes résultats dans le tableau:











Calculer une somme sans retenue	
Série 41	1 46+21 2 15+24 3 17+11 4 51+22 5 38+51 6 25+33 7 74+12 8 88+11 9 43+36 10 75+20
Calculer les compléments à 100	
Série 42	1 90+... 2 60+... 3 80+... 4 30+... 5 70+... 6 50+... 7 40+... 8 10+... 9 20+... 10 0+...
Calculer la moitié d'une dizaine entière	
Série 43	1 moitié de 2 2 moitié de 20 3 moitié de 4 4 moitié de 40 5 moitié de 6 6 moitié de 60 7 moitié de 8 8 moitié de 80 9 moitié de 10 10 moitié de 100
Ajouter 5 à un nombre terminé par 5	
Série 44	1 5+25 2 55+5 3 5+85 4 5+15 5 5+5 6 5+75 7 5+35 8 95+5 9 5+45 10 65+5










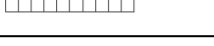
Question	Série 41	Série 42	Série 43	Série 44
1)				
2)				
3)				
4)				
5)				
6)				
7)				
8)				
9)				
10)				

Activité 12 : durée indicative : 40 minutes

Les tables de multiplication de 2 et 3 :

-Complète sur les pointillés :

 x =
 x =
 x =
 x =
 x =
 x =
 x =
 x =
 x =
 x =

 x =
 x =
 x =
 x =
 x =
 x =
 x =
 x =
 x =
 x =

Aide : utilise la table de multiplication de 2

Aide : utilise la table de multiplication de 3

Le vendredi 29 mai 2020 :

Rituels :

Activité 13 : durée indicative : 10 minutes

- Réponds à la question : quelle est la date d'aujourd'hui ?

- Qu'est-ce que tu feras ce week-end ?

Aide : tu peux utiliser les mots suivants : je jouerai, j'aiderai, je ferai, je mangerai, j'irai

- Entoure les verbes qui sont conjugués au futur :

joue - jouerai - donne - pars - feras - irons - boirai - dormira - commenceront - dort - aiderez

Français :

Activité 14 : durée indicative : 20 minutes

- Pause lecture : lis le texte suivant :

Au Sénégal, avec Abdou

Le marché Tilène

Chaque semaine, avec ma mère, nous allons au marché Tilène, dans le vieux quartier de la médina*. On y vend toutes sortes de fruits, de légumes, de poissons... À l'intérieur, on trouve aussi des épices, des bijoux, des livres, et des tissus de toutes les couleurs.

Le tiep bou dien

En revenant du marché, ma mère prépare le tiep bou dien. C'est notre plat national. Le thiof, un poisson, est servi avec des légumes et du riz. C'est délicieux ! Avec ce plat, moi, j'adore boire du jus de bissap. C'est une boisson faite avec des fleurs d'hibiscus*, de l'eau, du sucre, du sucre vanillé et un peu de muscade*.



- Réponds aux questions suivantes :

- Que peut-on acheter au marché Tilène ?

- Comment s'appelle le plat que prépare la mère d'Abdou ? Que signifie l'expression « plat national » selon toi ?

Activité 15 : durée indicative : 20 minutes :

-trouve les mots cachés en utilisant les mots suivants:

chemin - malin - lutin - timbre - important - demain - maintenant - soudain - peinture - lointain



-quel est le son commun à tous ces mots ?

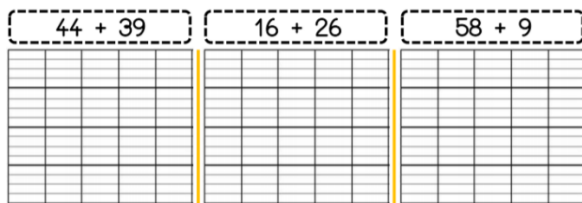
Activité 16 : durée indicative : 30 minutes

Les additions avec retenue :

-effectue ces additions :

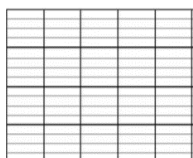


-pose et effectue ces additions :



-résous ce problème à l'aide d'un calcul posé:

Manon a 14 ans, sa tante Louise a 29 ans de plus qu'elle. **Quel âge** a la tante de Manon ?



Aide :

Je place la retenue dans sa colonne et je l'entoure.

Je pense à écrire le signe !

Je trace le trait sur l'interligne.