



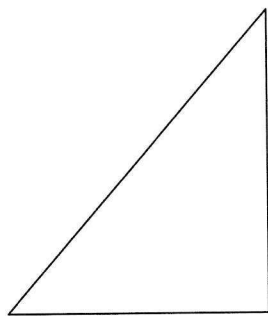
1 Colorie chaque polygone, sa description et son nom de la même couleur.

J'ai 4 côtés de même longueur,  
4 angles droits et 4 sommets.

Je suis un rectangle.

J'ai 3 côtés, 3 sommets et 1 angle droit.

Je suis un carré.



J'ai 4 côtés, 4 angles droits et 4 sommets.  
Mes côtés opposés sont de même longueur.

Je suis un triangle rectangle.

2 Trace ce que te demandent les robots. Utilise ta règle et ton équerre.



Un rectangle  
de 5 cm de longueur  
et de 3 cm de largeur



Un triangle rectangle



Un carré de 5 cm de côté

