




Consigne 7: Lire plusieurs fois les syllabes et les mots puis faire la consigne 8.



la jungle



chacun



le bungalow



il est brun



elle est bru/ne



mon cousin



ma cousi/ne



le pantalon



mon pa/nier

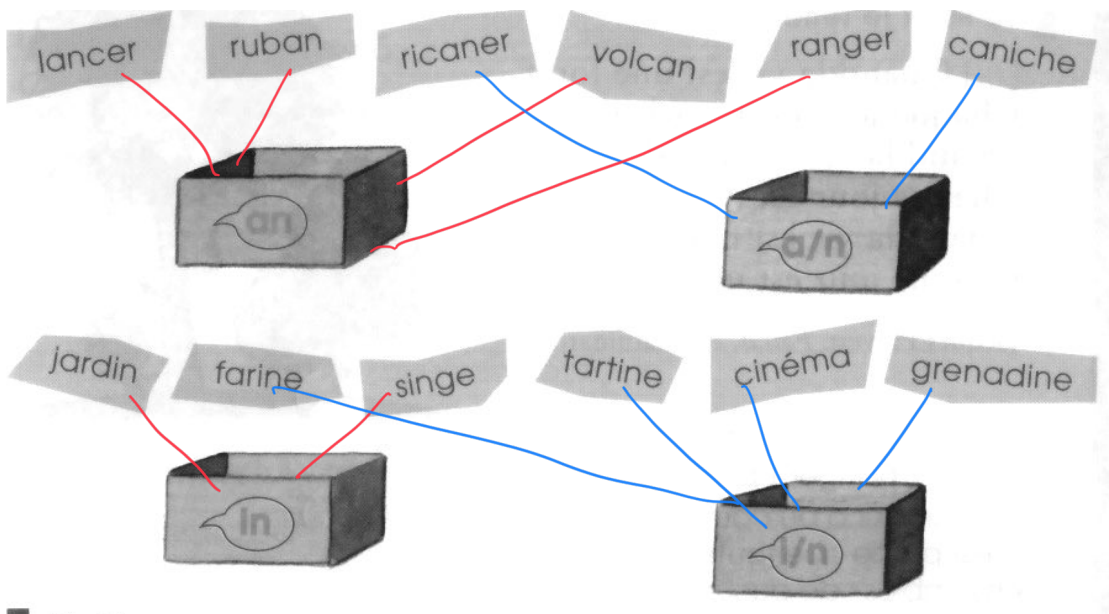


le ventilateur



préve/nir

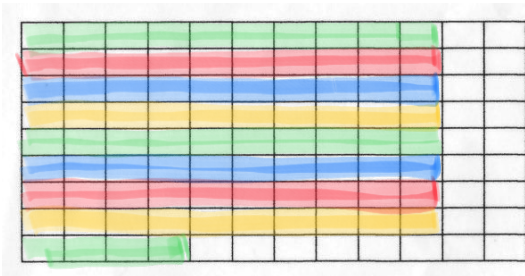
consigne 8: Range les étiquettes dans les boîtes si tu entends le son demandé.



## mathématique: Exercices

1- Colorie 84 cases.

Avec ta bande numérique



2- Ecris les nombres en lettres.

48 : quarante-huit

73 : soixante-treize

87 : quatre-vingt-sept

40 : quarante

82 : quatre-vingt-deux

3- Ecris les nombres d'une autre façon comme dans l'exemple.

$$85 = 20 + 20 + 20 + 20 + 5$$

$$83 = 20 + 20 + 20 + 20 + 3$$

$$80 = 20 + 20 + 20 + 20$$

$$86 = 20 + 20 + 20 + 20 + 6$$

$$89 = 20 + 20 + 20 + 20 + 9$$

$$81 = 20 + 20 + 20 + 20 + 1$$

4- Colorie les étiquettes pour obtenir le nombre demandé.

8 unités	38	6 dizaines	86	2 unités	84
2 dizaines		8 dizaines		8 dizaines	
3 dizaines		4 unités		2 unités	
6 unités		6 unités		3 dizaines	

5- Trouve le nombre en utilisant la somme des étiquettes.

7 unités	87	6 dizaines	64	2 unités	47
8 dizaines		4 unités		4 dizaines	
				5 unités	

6- Complète les cases.

78	79	80	87	88	89	74	75	76
83	84	85	79	80	81	84	85	86

1- Relire les syllabes, les mots et apprendre les mots entourés.

2-

Colorie en jaune les cases où tu vois u, en rouge les cases où tu vois r, en vert les cases où tu vois v, en marron les cases où tu vois b.



## Les tableaux des lettres

a a	a	h h	h	o o	o	v v	v
b b	b	i i	i	p p	p	w w	w
c c	c	j j	j	q q	q	x x	x
d d	d	k k	k	r r	r	y y	y
e e	e	l l	l	s s	s	z z	z
f f	f	m m	m	t t	t		
g g	g	n n	n	u u	u		

A A	A	H H	H	O O	O	V V	V
B B	B	I I	I	P P	P	W W	W
C C	C	J J	J	Q Q	Q	X X	X
D D	D	K K	K	R R	R	Y Y	Y
E E	E	L L	L	S S	S	Z Z	Z
F F	F	M M	M	T T	T		
G G	G	N N	N	U U	U		

## mathématiques

### 1- Calcul mental.

$$\begin{array}{ccccc} 8 - 8 = 0 & 9 - 7 = 2 & 9 + 1 = 10 & 7 + 2 = 9 & 6 - 4 = 2 \\ 7 + 5 = 12 & 8 - 3 = 5 & 12 + 60 = 72 & 9 + 1 = 10 & 7 + 3 = 10 \end{array}$$

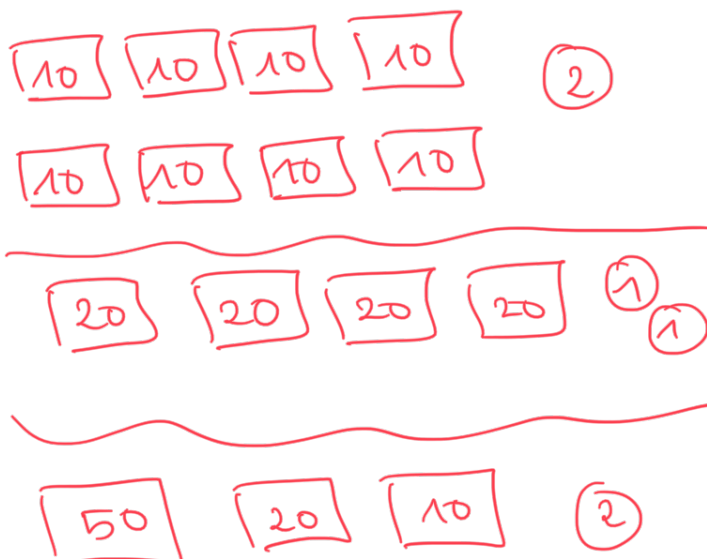
### consigne i

#### 1- Trouve la somme d'argent.



#### 2- Dessine les pièces et les billets pour avoir la somme d'argent.

La robe coûte 82 €.



Les jouets coûtent 84 €.

