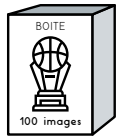




Lilou et Louise collectionnent les images de basket. Écris le nombre d'images que possède chaque enfant.



3 boîtes
de 100 images

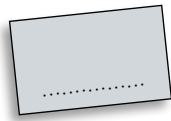
Lilou

Louise

7 images



23 pochettes
de 10 images



15 images



53 pochettes
de 10 images



Qui a le plus d'images? Explique pourquoi.

.....



Lilou et Louise collectionnent les images de basket. Écris le nombre d'images que possède chaque enfant.



3 boîtes
de 100 images

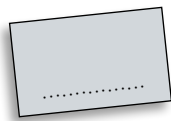
Lilou

Louise

7 images



23 pochettes
de 10 images



15 images



53 pochettes
de 10 images



Qui a le plus d'images? Explique pourquoi.

.....
