

**Activités de Français**

**Grammaire – Les compléments circonstanciels**

**Leçon : Voir la leçon du lundi 25 Mai**

**Exercice 1 : Recopie ces phrases et déplace chaque complément circonstanciel. Attention à la ponctuation !**

Samedi après-midi, Nathan a disputé un match de tennis. -> \_\_\_\_\_

Line soulève le vase en porcelaine avec précaution. -> \_\_\_\_\_

Une grande antenne est installée sur le toit de l'immeuble. -> \_\_\_\_\_

Idir construit un château de sable cet après-midi. -> \_\_\_\_\_

Nous allons souvent à la pêche en été. -> \_\_\_\_\_

J'ai plein de boutons à cause de cette maladie. -> \_\_\_\_\_

**Conjugaison – Le passé composé**

**Leçon : Voir la leçon du 18 Mai 2020, et pour mieux comprendre vous pouvez regarder la vidéo suivante : [https://www.youtube.com/watch?v=f346cf-E18s&feature=emb\\_logo](https://www.youtube.com/watch?v=f346cf-E18s&feature=emb_logo)**

**Exercice 1 : Conjugue chaque verbe au passé composé de l'indicatif, à la personne demandée.**

Prendre (2ème personne du singulier) .....

Remettre (3ème personne du pluriel) .....

Courir (1ère personne du pluriel) .....

Rougir (3ème personne du singulier) .....

Arriver (2ème personne du pluriel) .....

Garnir (1ère personne du singulier) .....

**Lecture / Compréhension – Les enquêtes de l'Inspecteur Lafouine / Lire le texte 3 fois à haute voix.**

Sur le blog de l'école, vous trouverez le texte : « **12 - Le five pence of Trinidad** (Christian Souchard) ».

Lisez-le bien en détail avant de répondre aux questions !

<https://bloc-note.ac-reunion.fr/9741181r/page-4/>

Bonne lecture à vous !! 😊

# Fichier

Mots fléchés

## d'autonomie - Mots fléchés

6

Très bien

Bien

Assez bien

Trop d'erreurs !

Mots commençant par la lettre O

Animal couvert de plumes

Synonyme de doigt de pied

Il pique les yeux quand on l'épluche

Outil informatique

Ensemble des règles qui indiquent comment écrire sans fautes

Synonyme de chose

Sillon creusé par les roues dans un chemin

Plante qui pique quand on la touche

Nom féminin synonyme de coton

On le fait à un vêtement trop long

Pluie violente accompagnée d'éclairs et du tonnerre

Le contraire de désordre

Le contraire de clair

Animal marin qui ressemble à un phoque

Le frère de ton père ou de ta mère

Organe de l'ouïe

Arbre qui produit des oranges

## Activités de Mathématiques

**Calcul mental** – A faire dans le cahier de brouillon

**Consigne : Compte de 0,5 en 0,5 de 5,2 à 12,2 :**

5,2 - \_\_\_\_\_ - \_\_\_\_\_ - \_\_\_\_\_ - \_\_\_\_\_ - \_\_\_\_\_ - \_\_\_\_\_ - \_\_\_\_\_ -  
\_\_\_\_\_ - \_\_\_\_\_ - \_\_\_\_\_ - \_\_\_\_\_ - \_\_\_\_\_ - 12,2

**Problèmes** – A faire dans le cahier de brouillon

1) Un hypermarché a accueilli 30 527 clients en 7 jours. <b>Combien y a-t-il eu de clients par jour (en moyenne) ?</b>	<i>Présentation</i>	
	<i>Opération ou schéma</i>	
	<i>Résultat</i>	
	<i>Phrase réponse</i>	

2) Dans le jardin du collège, le jardinier a planté 56 rangées de 23 tulipes. <b>Combien de tulipes le jardinier a-t-il plantées ?</b>	<i>Présentation</i>	
	<i>Opération ou schéma</i>	
	<i>Résultat</i>	
	<i>Phrase réponse</i>	

**Nombres – Comparer, ranger, encadrer et intercaler des nombres décimaux**

**Leçon :** Voir la leçon du vendredi 22 mai. Regardez les vidéos suivantes avant de faire les exercices :

- <https://lesfondamentaux.reseau-canope.fr/video/comparer-deux-nombres-decimaux.html>
- <https://lesfondamentaux.reseau-canope.fr/discipline/mathematiques/nombres/comparer-les-decimaux/encadrer-intercaler-des-nombres-decimaux.html>
- <https://www.youtube.com/watch?v=7H4Teqd3y6E>

➔ **Exercice 5 : Intercalle** un nombre qui puisse convenir.

$3 < \underline{\hspace{2cm}} < 4$

$3 < \underline{\hspace{2cm}} < 3,5$

$3,8 < \underline{\hspace{2cm}} < 3,9$

$15,2 < \underline{\hspace{2cm}} < 15,3$

$0,2 < \underline{\hspace{2cm}} < 0,3$

$1,5 < \underline{\hspace{2cm}} < 1,55$

➔ **Exercice 6 : Entoure** en bleu tous les nombres compris entre 6,2 et 6,6.

7,6                  5,3                  6,12                  7,28                  6,53                  6,21                  7,01

5,9                  6,55                  5,6                  6,01                  6,7                  6,59

➔ **Exercice 7 :** Parmi les nombres suivants, **souligne** ceux qui sont entre 1,9 et 3,15.

1,39 ● 2 ● 3,19 ● 1,93 ● 2,9 ● 3,2 ● 3,04 ● 1,89

➔ **Exercice 8 :** Voici cinq nombres rangés du plus petit au plus grand. **Écris** le nombre **3,1** à la place qui convient.

..... 2,93 ..... 3 ..... 3,07 ..... 3,15 ..... 3,4 .....

## Activités de Français

### Grammaire – Les compléments circonstanciels

**Leçon :** Voir la leçon du lundi 25 Mai

**Exercice 1 :** Dans ces phrases, **souligne** les compléments circonstanciels.

Vous aurez une réponse dans trois jours.

Une statue gigantesque se dressait ici.

Tom lui parle avec douceur.

Hier, nous avons fait une promenade en forêt.

Lila range soigneusement ses livres sur l'étagère.

En raison du verglas, je conduis prudemment.

### Conjugaison – Le passé composé

**Leçon :** Voir la leçon du 18 Mai 2020, et pour mieux comprendre vous pouvez regarder la vidéo suivante :  
[https://www.youtube.com/watch?v=f346cf-E18s&feature=emb\\_logo](https://www.youtube.com/watch?v=f346cf-E18s&feature=emb_logo)

**Exercice 1 :** Conjugue chaque verbe au passé composé de l'indicatif, à la personne demandée.

Être (3ème personne du singulier) ☐ .....

Venir (1ère personne du pluriel) ☐ .....

Prendre (1ère personne du singulier) ☐ .....

Vouloir (2ème personne du singulier) ☐ .....

Avoir (3ème personne du pluriel) ☐ .....

Devenir (1ère personne du pluriel) ☐ .....

**Orthographe – Dictée** – A faire dans le cahier de brouillon ou sur une feuille

**Repère et corrige les 14 erreurs d'orthographe de ce texte. Ensuite, réécris-le entièrement sur ton cahier.**

### La ponctuation

Les parent Thèse ont set enfants. Virgule ai la dernière née ; elle est toujour de bonne umeur. Sa soeur Interrogation posent sans cesse des qestions. Point est un pettit garçon discret. Exlamation est une petite fille qui s'étonne deux tout. Quant aux triplés Suspensions, ils provoque toujours des catastrofes.

## Activités de Mathématiques

**Calcul mental** – A faire dans le cahier de brouillon

**Consigne :** Ajoute 4 dixièmes :

Exemple :  $15,2 + 0,4 = 15,6$

12,5 →

6,09 →

25,55 →

76,06 →

32,6 →

28,05 →

1,8 →

0,7 →

3,22 →

9,8 →


## Nombres – Repérer et placer les décimaux sur une demi-droite graduée

**Leçon :** Regardez les vidéos suivantes avant de faire les exercices :


- <https://lesfondamentaux.reseau-canope.fr/video/placer-les-decimaux-sur-la-droite-graduee.html>
- [https://www.youtube.com/watch?v=PFG1HY\\_z\\_Y4](https://www.youtube.com/watch?v=PFG1HY_z_Y4)
- <https://www.youtube.com/watch?v=tO-2usFPbR4>

➔ **Exercice 1 :** Observe comment ces demi-droites sont graduées et associe chaque nombre à une lettre :

0,4 • 1,2 • 3,42 • 5,6 • 4,85 • 2,4 • 3,6 • 4,12 • 3,91 • 4,4 • 3,73 • 4,64



➔ **Exercice 2 :** Place les nombres sur cette demi-droite graduée.



## Calcul – La division décimale de deux entiers

**Leçon :** La leçon sera postée sur le blog de l'école le Jeudi 04 Juin. Vous devez la lire en détail avant de faire les exercices.

➔ **Exercice 1 :** Complète chaque opération.

$\begin{array}{r} 9 \phantom{0} \\ - 5 \phantom{0} \\ \hline 4 \phantom{0} \\ - \phantom{0} \phantom{0} \phantom{0} \phantom{0} \\ \hline \phantom{0} \phantom{0} \phantom{0} \phantom{0} \phantom{0} \phantom{0} \end{array}$	$\begin{array}{r} 2 \phantom{6} \\ - 2 \phantom{4} \\ \hline 2 \phantom{0} \\ - \phantom{0} \phantom{0} \phantom{0} \phantom{0} \\ \hline \phantom{0} \phantom{0} \phantom{0} \phantom{0} \phantom{0} \phantom{0} \end{array}$	$\begin{array}{r} 6 \phantom{6} \\ - \phantom{0} \phantom{0} \phantom{0} \phantom{0} \\ \hline \phantom{0} \phantom{0} \phantom{0} \phantom{0} \phantom{0} \phantom{0} \\ - \phantom{0} \phantom{0} \phantom{0} \phantom{0} \phantom{0} \phantom{0} \\ \hline \phantom{0} \phantom{0} \phantom{0} \phantom{0} \phantom{0} \phantom{0} \end{array}$	$\begin{array}{r} 8 \phantom{7} \\ - \phantom{0} \phantom{0} \phantom{0} \phantom{0} \\ \hline \phantom{0} \phantom{0} \phantom{0} \phantom{0} \phantom{0} \phantom{0} \\ - \phantom{0} \phantom{0} \phantom{0} \phantom{0} \phantom{0} \phantom{0} \\ \hline \phantom{0} \phantom{0} \phantom{0} \phantom{0} \phantom{0} \phantom{0} \end{array}$
--	--	--	--

**Activité ludique** – A voir sur le blog de l'école

<https://bloc-note.ac-reunion.fr/9741181r/page-4/>

**Activités de Français****Grammaire – Les compléments circonstanciels****Leçon : Voir la leçon du lundi 25 Mai**

**Exercice 1 : Dans ces phrases, souligne les compléments circonstanciels et précise s'ils indiquent le temps, le lieu, la cause ou la manière :**

- Tous les dimanches, nous mangeons des frites.
- Le vieillard avance lentement à cause de ses douleurs.
- Dès l'arrivée du facteur, le chien aboie férocelement.
- Nous avons planté des arbres fruitiers dans le pré.
- À la fin de l'année scolaire, nous emmènerons les élèves au parc d'attractions.
- L'enfant dépose les œufs avec soin, de crainte de les casser.
- Cathy et Kevin avaient soigneusement préparé leur exposé le weekend précédent.
- Les spectateurs éclatent de rire en raison des pitreries des clowns.
- Dans les châteaux, les seigneurs recevaient souvent des troubadours.
- Elle nettoie régulièrement ses mains sous le robinet à cause des microbes.

**Conjugaison – Le passé composé**

**Leçon : Voir la leçon du 18 Mai 2020, et pour mieux comprendre vous pouvez regarder la vidéo suivante :**  
[https://www.youtube.com/watch?v=f346cf-E18s&feature=emb\\_logo](https://www.youtube.com/watch?v=f346cf-E18s&feature=emb_logo)

**Exercice 1 : Conjugue les verbes suivants au passé composé.**

	<b>ouvrir</b>	<b>partir</b>	<b>mentir</b>	<b>faire</b>
j' / je	ai ouvert	suis parti	ai menti	ai fait
tu				
il				
nous				
vous				
ils				

**Orthographe – Dictée** – A faire dans le cahier de brouillon ou sur une feuille

**Demande à quelqu'un de ta famille de te lire cette dictée. Il faut la lire 3 fois en tout : une 1<sup>ère</sup> fois rapidement, une 2<sup>ème</sup> fois lentement et une 3<sup>ème</sup> fois normalement pour la relecture.**

Pour la première fois de sa vie, Harry reçoit une lettre. Son oncle, furieux, la lui confisque immédiatement mais d'autres missives arrivent.

## Activités de Mathématiques

**Calcul mental** – A faire dans le cahier de brouillon

**Consigne** : Continue la suite : 14,54 – 14,64 – 14,74 - ...

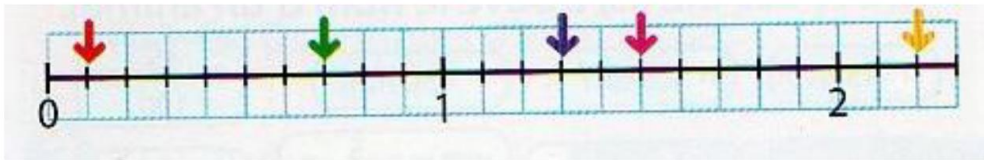
14,54 - \_\_\_\_\_ - \_\_\_\_\_ - \_\_\_\_\_ - \_\_\_\_\_ - \_\_\_\_\_ - \_\_\_\_\_ - \_\_\_\_\_ - \_\_\_\_\_ - \_\_\_\_\_  
\_\_\_\_\_ - \_\_\_\_\_ - \_\_\_\_\_ - \_\_\_\_\_ - \_\_\_\_\_ - 15,94

## Nombres – Repérer et placer les décimaux sur une demi-droite graduée

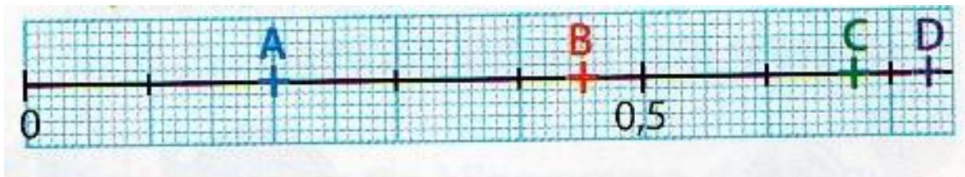
**Leçon** : Regardez les vidéos suivantes avant de faire les exercices :

- <https://lesfondamentaux.reseau-canope.fr/video/placer-les-decimaux-sur-la-droite-graduee.html>
- [https://www.youtube.com/watch?v=PFG1HY\\_z\\_Y4](https://www.youtube.com/watch?v=PFG1HY_z_Y4)
- <https://www.youtube.com/watch?v=tO-2usFPbR4>

➔ **Exercice 3** : Retrouve le nombre décimal représenté par chaque flèche.



➔ **Exercice 4** : Retrouve le nombre décimal représenté par chaque lettre.



## Calcul – La division décimale de deux entiers

**Leçon** : Voir la leçon du Jeudi 04 Juin. Vous devez la lire en détail et regarder les vidéos suivantes avant de faire les exercices :

- <https://www.youtube.com/watch?v=IhYqkpUyN68>
- <https://www.dailymotion.com/video/x24lylj>

➔ **Exercice 2** : Pose et calcule ces divisions au dixième près.

$107 : 3$

$245 : 9$

$45 : 13$

$102 : 37$

**Activité ludique** – A voir sur le blog de l'école

<https://bloc-note.ac-reunion.fr/9741181r/page-4/>