



1




Combien y a-t-il de canards
cachés derrière la barrière ?

2




Combien y a-t-il de fillettes
cachées derrière la barrière ?

3




Combien y a-t-il de princes cachés derrière la barrière ?


4



5




?



Dans cet arbre, il y a 10 oiseaux, des violets et des bleus. Il y a 5 oiseaux violets.


Combien y a-t-il d'oiseaux bleus ?

5



La princesse a trouvé 7 chocolats.
Elle en mange 3.
Elle en donne 3 à ses amis.
Elle garde tout le reste.
Combien en garde-t-elle?

6




La princesse a trouvé 9 chocolats.
Elle en mange 3.
Elle en donne 3 à ses amis.
Elle garde tout le reste.
Combien en garde-t-elle?

7



Combien les enfants doivent-ils prendre de billes pour que chacun en ait autant que les autres ?

8



Combien les enfants doivent-ils prendre de billes pour que chacun en ait autant que les autres ?

9



Combien les enfants doivent-ils prendre de billes pour que chacun en ait autant que les autres ?

10



Combien les enfants doivent-ils prendre de billes pour que chacun en ait autant que les autres ?