



Il y a 4 bananes.
Les 2 singes mangent autant de bananes chacun.

Combien peuvent-ils en manger chacun ?


2



Voici Djamila



Voici Nicolas




Voici Camille

Djamila a 1 bonbon. Nicolas a 4 bonbons.
Camille a 2 bonbons de moins que Nicolas.

Combien Camille a-t-elle de bonbons ?

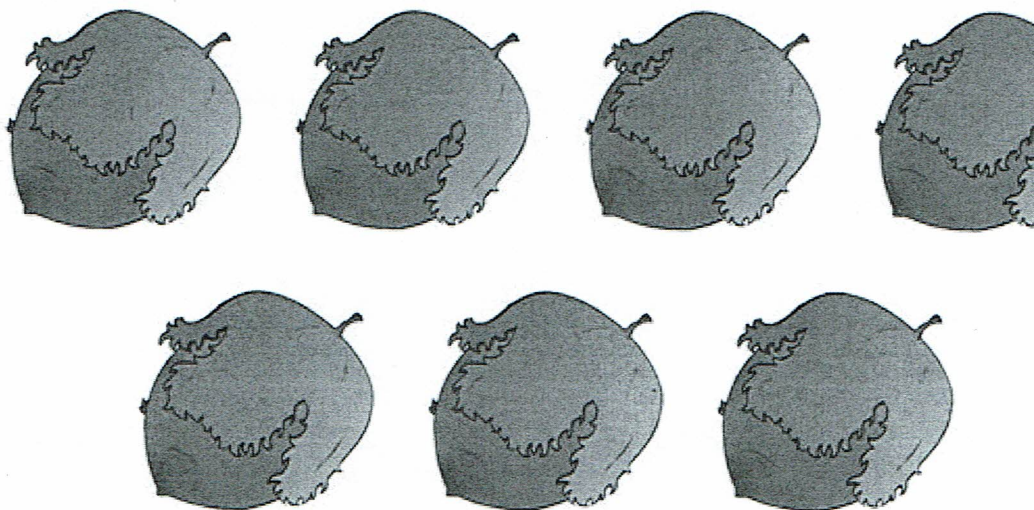

3



Le cochon adore les pommes !
Il a mangé 4 pommes rouges et 3 pommes vertes.

Combien le cochon a-t-il mangé de pommes ?

4



L'écureuil a trouvé 7 noisettes.
Il en mange 2. Il en donne 3 à son copain écureuil.
Il garde tout le reste.

Combien en garde-t-il ?

5




Le Petit Chaperon rouge cueille des fleurs pour sa maman :
2 fleurs jaunes puis 3 fleurs rouges.

Combien de fleurs a cueilli le Petit Chaperon rouge ?


6



Voici Justine



Voici Amid





Voici Mei

Justine a 1 balle. Amid a 3 balles. Mei a 1 balle.

Combien Justine doit-elle encore prendre
de balles pour en avoir autant qu'Amid ?

7



La princesse a trouvé 8 chocolats.


Elle en mange 2.

Elle en donne 4 à ses amis.

Elle garde tout le reste.

Combien en garde-t-elle?


8



3



?



Dans cet arbre, il y a 9 oiseaux,
des violets et des bleus. Il y a 3
oiseaux violets.

Combien y a-t-il d'oiseaux bleus?


9



4



?



Dans cet arbre, il y a 12 oiseaux, des violets et des bleus. Il y a 4 oiseaux violets.

Combien y a-t-il d'oiseaux bleus?


10



7



?



Dans cet arbre, il y a 14 oiseaux, des violets et des bleus. Il y a 7 oiseaux bleus.

Combien y a-t-il d'oiseaux violets?