

Nom :



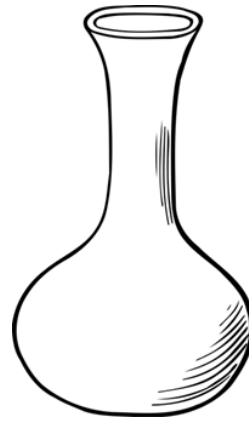


- Comparer des contenances par l'utilisation d'une unité.

Date :



Comparer des contenances

Les 2 récipients ont été vidés dans des verres. Colorie le récipient qui contient le plus d'eau.



Nom :



- Comparer des contenances par l'utilisation d'une unité.

Date :



Comparer des contenances

Écris le nombre de verres et colorie le récipient qui contient le plus d'eau.



Relie les récipients et les verres

