





Surcompter en maternelle


Consigne : Partir du nombre donné à gauche et ajouter le nombre de points à droite. Entourer la solution qui convient


| | | |
|---|---|--|
|  | 7 | |
| | 6 | |
| | 5 | |


| | | |
|--|---|--|
|  | 8 | |
| | 5 | |
| | 7 | |


| | | |
|---|---|--|
|  | 3 | |
| | 4 | |
| | 5 | |


| | | |
|--|---|--|
|  | 7 | |
| | 8 | |
| | 5 | |


| | | |
|--|---|--|
|  | 5 | |
| | 7 | |
| | 8 | |


| | | |
|---|---|--|
|  | 8 | |
| | 7 | |
| | 6 | |


| | | |
|---|---|--|
|  | 9 | |
| | 8 | |
| | 7 | |


| | | |
|--|---|--|
|  | 7 | |
| | 6 | |
| | 5 | |


| | | |
|---|---|----|
|  | | |
| | 9 | 10 |

| | | |
|---|----|----|
|  | | |
| | 11 | 10 |

| | | |
|---|---|----|
|  | | |
| | 8 | 11 |

| | | |
|---|---|---|
|  | | |
| | 9 | 7 |

| | | |
|---|---|----|
|  | | |
| | 8 | 10 |

| | | |
|---|----|----|
|  | | |
| | 11 | 10 |