

Défis du jour :



1

→ Peux tu aider le chasseur :

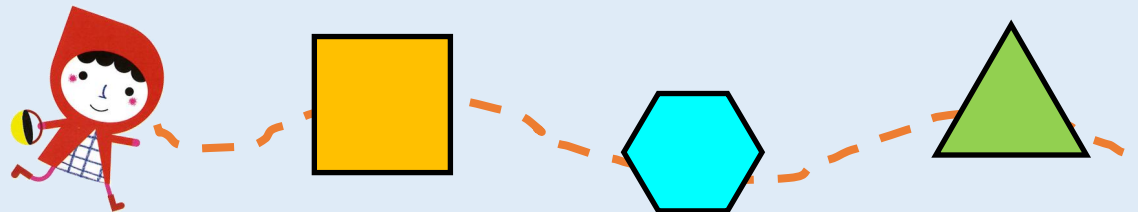
Le chasseur ne sait pas bien compter. Peux tu l'aider ?

Le loup a caché certains chiffres sur chaque ligne de la [page 2](#), peux tu les retrouver pour aider le chasseur ?

2

→ Figures géométriques :

Chaperon n'arrive pas à compter correctement. Peux-tu lui donner le nombre de côtés des figures qui sont sur son chemin en [page 3](#) pour qu'elle apprenne à compter ?



3

→ Phrase codée :

Chaperon rouge a voulu faire une surprise à sa grand-mère. Elle lui a écrit une phrase codée sur la [page 4](#). Peux tu aider grand-mère qui est un peu vieille à trouver les lettres de la phrase pour savoir ce que Chaperon voulait lui dire ?

(Solution : « grand-mère je t'aime et j'espère que tu iras mieux »)





Peux tu aider le chasseur ?



Certains chiffres sont cachés, peux tu m'aider à les retrouver sur chaque ligne ?




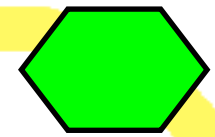


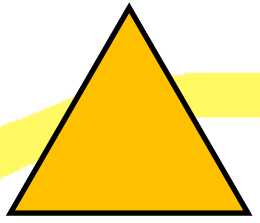



1 2 3 4 5 6 7 8 9 10

3		1	7	4	2	6	8
1	3	6		7	5	2	4
2	8	5	3		3	4	1
7	5	8	1	4	2	3	

Peux-tu aider le chaperon ?

Peux-tu me donner le nombre de côtés des figures qui sont sur mon chemin ?



La phrase codée :



www.enmaterielle.fr

A	B	C	D	E	F	G	H	I	J	K	L	M
N	O	P	Q	R	S	T	U	V	W	X	Y	Z

.

,

,

