

Correction du travail du mardi 26 mai 2020

Production d'écrit - Texte à étapes

Envoie moi ta production d'écrit pour une correction personnalisée

Dictée d'entraînement n°13

A corriger avec le texte de la dictée.

Compte est bon

Exemples de réponses:

Nombre cible: 29 avec 3, 5, 7, 1, 9

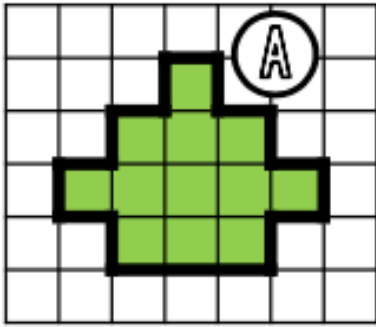
9x3=27. 7/1=7 27+7=34 34-5=29	Mathador (18points)	3/1=3 7-3=4 5x4=20 20+9=29	Mathador (18points)
3x1=3 7-3=4 5x4=20 20+9=29	10 points	7+1=8 8x3=24 24+5=29	8 points

Nombre cible: 76 avec 2, 4, 8, 9, 11

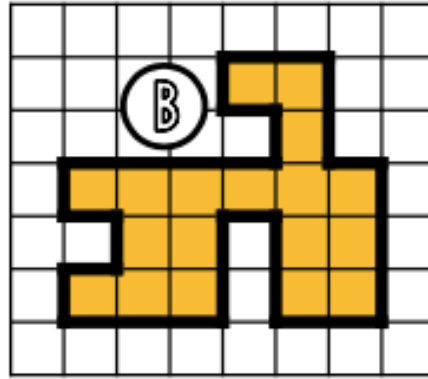
8/2=4 11+9=20 20x4=80 80-4=76	Mathador (18points)	11+9=20 20x4=80 8/2=4 80-4=76	Mathador (18 points)
11-2=9 9x8=72 72+4=76	9 points	8+2=10 10+9=19 19x4=76	8 points

① Exprime l'aire de chaque surface avec l'unité choisie.

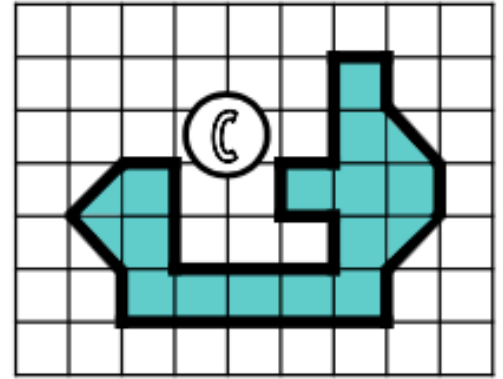
□ unité 1



A = 12 unités d'aire

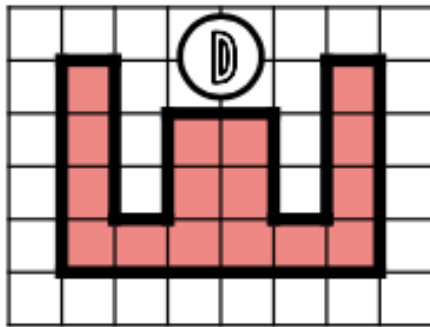


B = 18 unités d'aire



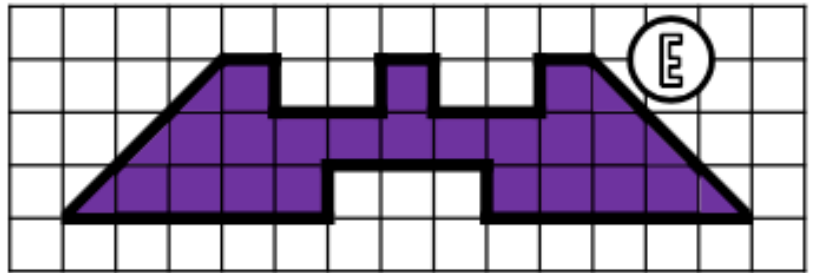
C = 15 unités d'aire

□
unité 2



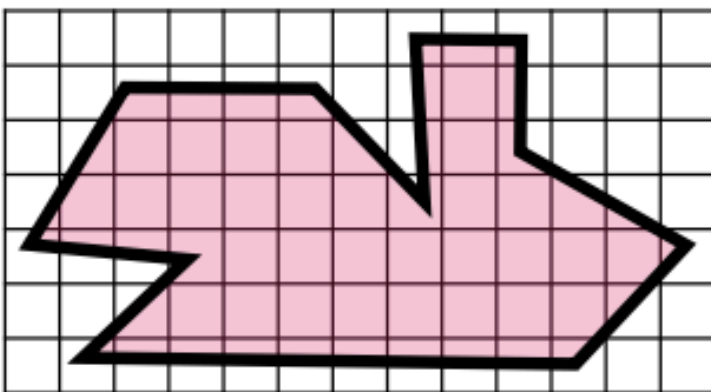
D = 8 unités d'aire

▽ unité 3



E = 46 unités d'aire

② Estime l'aire de cette surface.



L'aire de cette surface est comprise entre 27 carreaux et 64 carreaux.

③ Dessine 3 figures qui auront une aire de 12 unités A mais pas la même forme.

□ unité A

④ Dessine 3 figures qui auront une aire de 28 unités B mais pas la même forme.

▽ unité B

Problèmes CM1 - Fiche 7

1) $5500+450=5950$

$5950-172=5778$

On disposera de 5778 volailles.

2) $8h \times 5\text{jours} = 40\text{heures}$

$40 \times 13 = 520$

Elle gagne 520 euros en une semaine.

3) $256 / 8 = 32$

Il plantera 32 bulbes dans chaque massif.

4) De 7h30 à 12h30 , soit en 5heures de temps, il est passé 14420 voitures. On cherche à savoir combien de voitures passent en 1 heure.

$14420 / 5 = 2884$

En une heure, il passe en moyenne 2884 voiture à ce péage.

Problèmes CM2- Fiche 7

1) $15 \times 400 = 6000$

Il a parcouru 6000m ou 6 km.

2) Benjamin : 5 €

Damien: 5€

Mélanie: $5+5+10 = 20€$

Mélanie reçoit 20€

M.Edouard a distribué 30€ en tout.

3) $34485-27326 = 7159$

Il y avait 7159 entrée gratuites.

4) $3 \times 12 = 36$

$36 / 4 = 9$

Le traitement doit durer 9 jours.

Histoire - La Renaissance

1 Vrai ou faux ?

- a) François 1^{er} fait la guerre en Italie. **V**
- b) François 1^{er} est vainqueur à Marignan en 1515 **V**
- c) Il est vaincu à Pavie en 1525. **F**
- d) Charles Quint règne sur l'Allemagne et l'Espagne. **V**
- e) La Cour de François 1^{er} vit somptueusement. **V**
- f) Les guerres incessantes coûtent très cher. **V**
- g) Ambroise Paré est un célèbre poète. **F**

2 Relie les personnes à leur métier

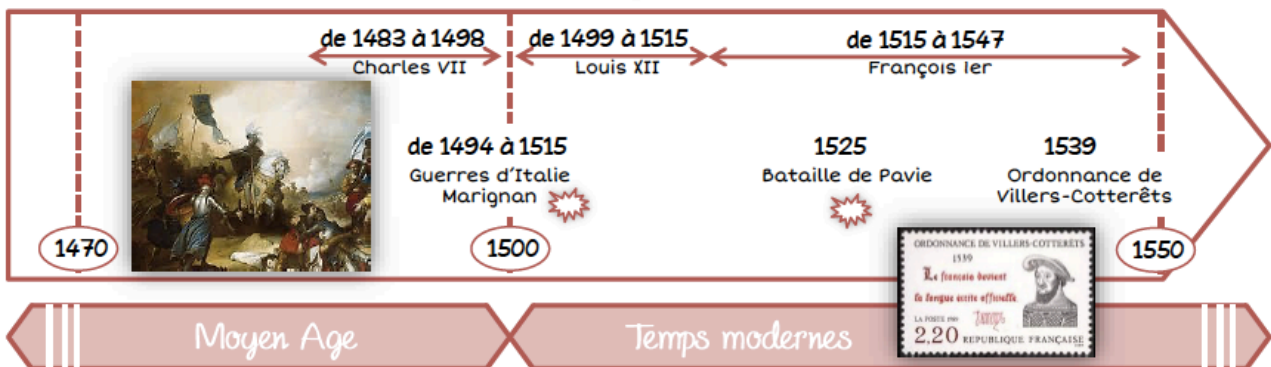
Pierre Lescot	*	*	Poète
Ronsard	*	*	Peintre
Léonard de Vinci	*	*	Ecrivain
Rabelais	*	*	Architecte

3 Observe le doc 3 et réponds aux questions

Qui sont les 2 personnages à gauche ? **Le maître et l'élève**

Que fait le plus jeune ? **Il lit avec une dame**

Que tient le maître dans la main droite ? **Il tient un fouet**



Je retiens

François Ier

François 1^{er} fait la **guerre** à ses voisins pour agrandir son **royaume**.

Il gagne la bataille de **Marignan** (1515) mais est vaincu à **Pavie** (1525).

Dans son château, il vit avec sa **Cour** (ce sont des **nobles**) et de manière somptueuse.

Par l'ordonnance* de Villers-Cotterêts (1539), François 1^{er} fait du **Français** la langue officielle à la place du **latin**.

La Renaissance

Les nobles français découvrent en Italie de grands **artistes peintres** tels Léonard de **Vinci** ou Michel-Ange.

De magnifiques **châteaux** sont construits (comme les châteaux de la Loire).

Des grands **poètes** comme Ronsard et de grands **écrivains** comme Rabelais et Montaigne, se font connaître.