

Correction du travail du mardi 28 Avril 2020

Production d'écrit - Recette pour bien vivre

(à m'envoyer pour une correction personnalisée)

Dictée d'entraînement N°12

(à corriger avec le texte de la dictée)

Le compte est bon

Nombre cible: 38 avec 2, 4, 6, 5, 8 (exemples de solution, il y en a d'autres bien entendu)

8/4=2 6+2=8 8x5=40 40-2=38	18points (mathador)	8+6=14 14+5=19 19x2=38	8points
4/2=2 5x2=10 8x6=48 48-10=38	12points	6x5=30 30+8=38	7points

Nombre cible: 84 avec 2, 3, 6, 8, 9 (exemples de solution, il y en a d'autres bien entendu)

9x3=27 27-6=21 8/2=4 21x4=84	12points	9+8=17 17-3=14 14x6=84	9points
8x6=48 48x2=96 9+3=12 96-12=84	10points	8+6=14 14x3=42 42x2=84	8points

Grandeurs et mesures - les aires



Un carreau mesure 1 cm de côté. Un carreau a pour aire 1 cm².

Ce rectangle mesure 5 cm de longueur et 3 cm de largeur.

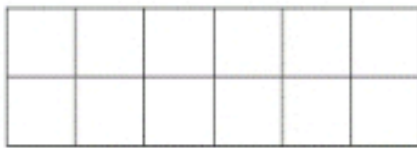
Pour calculer l'aire de ce rectangle, on multiplie la longueur par la largeur.

Aire du rectangle : L x l

$$5 \times 3 = 15 \text{ cm}^2.$$

Indique l'aire des figures suivantes, en laissant apparaître tes calculs.


1)



Calculs : $2 \times 6 = 12$

Aire : 12 cm².


2)



Calculs : $3 \times 3 = 9$

Aire : 9 cm².


3)



Calculs : $5 \times 5 = 25$

Aire : 25 cm².

4)



Calculs : $4 \times 6 = 24$

Aire : 24 cm².

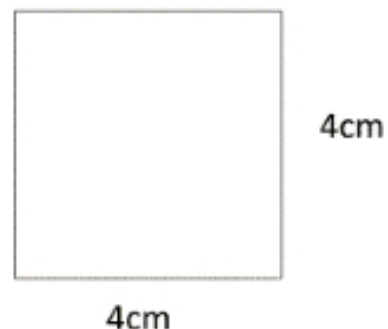
5)



Calculs : $5 \times 3 = 15$

Aire : 15 cm².

6)



Calculs : $4 \times 4 = 16$

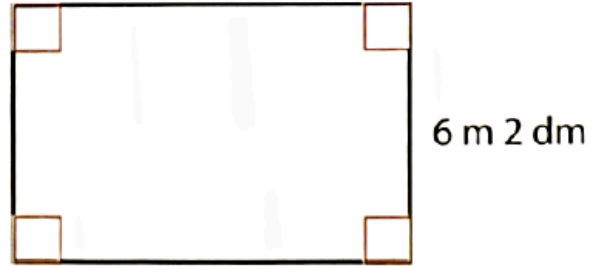
Aire : 16 cm².

Périmètre du carré et du rectangle

1 Petit problème sur les périmètres (1)

Cette pièce rectangulaire a un périmètre de 31 m et 6 dm.

Combien mesure son grand côté (L) ?



Pour t'aider :

1) Convertis toutes les mesures en dm : 31 m et 6 dm = 316 dm

6 m et 2 dm = 62 dm

2) Ecris comment, en général, on calcule le périmètre avec les lettres L et l :

$$P = \underline{(L+l) \times 2} \quad \text{ou} \quad P = \underline{(L \times 2) + (l \times 2)}$$

3) Remplace les lettres par leurs valeurs : 316 dm = $(L \times 2) + (62 \times 2)$

4) Calcule la valeur de L :

$$316 = L \times 2 + 62 \times 2$$

$$316 = L \times 2 + 124$$

$$316 - 124 = L \times 2$$

$$192 = L \times 2$$

$$L = 192 / 2$$

$$L = 96 \text{ dm}$$

Problèmes - CM1

1) $260 / 12 = 21$ reste 8

Il doit utiliser 22 boîtes (dans la dernière boîte, il n'y aura que 8 oeufs).

2) Nombre de tables : $7 \times 5 = 35$

Nombre de personnes : $35 \times 6 = 210$

La bibliothèque peut accueillir 210 personnes.

3) $152 - 38 = 114$

$$114 + 86 = 200$$

Après le premier arrêt, il y a 200 personnes sur ce bateau.

4) $135 / 5 = 27$

Elle a 27 billets de 5 euros.

Problèmes - CM2

1) $83 \times 22 = 1826$

Chaque jour, 1826L de lait est collecté.

2) Nombre d'enfants : 3

Nombre de repas : $9 \times 3 = 27$

$$27 \times 4 = 108 \text{ euros}$$

Les parents de Fabien vont payer 108 euros pour la cantine au mois de février.

3) $48 - 29 = 19$
Catherine a 19ans.

4) $1270 - 1214 = 56$
Sa vie a duré 56 ans.

Histoire - La fin du Moyen-Age

❶ Mets une croix dans la colonne du roi concerné

	Philippe Auguste	Louis IX	Philippe le Bel
Il crée le parlement de Paris		X	
Il fait construire le Louvre	X		
Il fait élire un pape français en 1309			X
On l'appelle Saint Louis		X	
Il rétablit la paix		X	
Il choisit Paris comme capitale	X		
C'est le dernier des trois rois			X

❷ Vrai ou faux ?

Edouard III veut devenir roi de France.	V
Les Anglais envahissent d'abord le sud-ouest de la France.	F
Du Guesclin est un commandant d'Edouard III.	F
Jeanne d'Arc est brûlée à Compiègne.	F
C'est Charles VII qui chassent les Anglais de France.	V
La guerre a duré exactement 100 ans.	F

❸ Réponds aux questions suivantes (tu dois lire tous les textes).

- 1) Quels impôts sont collectés dans le royaume ? *La taille un impôt sur la terre, les aides qui portent sur les ventes de marchandises et la gabelle sur le sel.*
- 2) Que fait écrire le Charles VII ? *Il fait écrire les lois nécessaires pour rendre la justice.*
- 3) Quelles relations Louis XI entretient-il avec les nobles ? *Des relations hostiles.*
- 4) Comment s'appelle le principal adversaire de Louis XI ? *C'est le duc de Bourgogne, Charles le Téméraire.*

❹ Entoure les régions acquises par Louis XI

Maine, Anjou, Bourgogne, Lorraine, Italie
Bretagne, Espagne, Suisse, Provence, Picardie

❺ Réponds aux questions

- 1) Où se déroule cette entrevue ? *À Péronne.*
- 2) Qui sont les hommes en présence ? *Louis XI et Charles le Téméraire, duc de Bourgogne.*
- 3) Que fait Louis XI pour se libérer ? *Il fait semblant d'accepter les conditions de Charles le Téméraire.*



Je retiens

Petit à petit les rois retrouvent leur autorité. Ils agrandissent le domaine royal. Trois grands rois vont contribuer à renforcer leur pouvoir :

Philippe Auguste, Louis IX et Philippe le Bel.

La guerre de cent ans (1337-1453) a opposé les *Anglais* et les *français*. Cette guerre a pour origine la conquête du *trône* de France que le roi d'Angleterre se dit l'*héritier*. En effet, il est le petit-fils de *Philippe le Bel*.

Deux célèbres personnages ont permis à la France de se débarrasser des Anglais :

Bertrand Du Guesclin et Jeanne d'Arc.

Cette dernière était à la tête de *l'armée* de Charles VII. Mais elle est arrêtée et *brûlée* à Rouen.

Charles VII et *Louis XI* continuent d'instaurer de nouvelles lois et *d'agrandir* le royaume. A la mort de Louis XI la France a retrouvé sa prospérité.