

Travail du mardi 14 avril 2020

Corrige attentivement en vert les exercices de mardi dernier en te basant sur le fichier de correction joint.

Production d'écrit

Je me sens...

(explications)

Je me sens...



Je me sens heureux
quand je me
souviens qu'on est
dimanche !

À ton tour, tu vas devoir dire comment tu te sens.

⇒ Le titre est « *Je me sens* ».

⇒ Tu dois écrire de *trois* à *six* phrases différentes.

⇒ Tes phrases doivent commencer par *Je me sens*, tu dois ensuite ajouter un sentiment de ton choix, tu dois ensuite expliquer à quel moment tu te sens comme ça, en écrivant d'abord *quand*.

⇒ Tu peux t'aider de la liste de sentiments qui suit :

seul - heureux - triste - en colère -
coupable - curieux - surpris - sûr de moi -
timide - inquiet - foufou - affamé -
rassasié - fatigué - nerveux - courageux -
émerveillé - excité - furieux - fier - jaloux -
amoureux - content - confus - satisfait -
peureux - effrayé - morose - impatient -
éccœuré - stressé - perdu

Je me sens inquiet
quand je ne vois
pas ma maman
au portail de
l'école.



Dictée d'entraînement (à dicter par les parents)

Après avoir corrigé ta fiche d'entraînement n° 11, relis la bien avant de faire la dictée d'entraînement.

Depuis une heure, la pluie ne cessait de tomber, si bien que l'eau avait débordé en quelques instants.

Parfois, j'accompagnais ma tante en vacances, pour ne pas la laisser partir toute seule. Dans un instant, nous partirons en vacances. Nous arriverons en toute fin de journée, si la pluie ne nous ralentit pas.

Dictée différenciée (Yann, Enzo, Camille)

Complète avec les mots manquants.

Depuis une _____, la _____ ne _____ de
tomber, si _____ que l'_____ avait
_____ en quelques _____
_____, j'_____ ma tante en
_____, pour ne pas la _____ partir
_____ .

Dans un _____, nous partirons en _____ Nous
_____ en _____ _____ de journée, si
la _____ ne nous _____ pas.

Dictée différenciée (Therry)

Complète la dictée avec les mots suivants: laisser, débordé, eau, heure, vacances, pluie,
arriverons, cessait, parfois, accompagnais, toute, ralentit, instant, vacances, fin, seule, bien,
instants, pluie, toute.

Depuis une _____, la _____ ne _____ de
tomber, si _____ que l'_____ avait
_____ en quelques _____
_____, j'_____ ma tante en
_____, pour ne pas la _____ partir
_____ .

Dans un _____, nous partirons en _____ Nous
_____ en _____ _____ de journée, si
la _____ ne nous _____ pas.

Compte est bon

Trouve au moins 2 solutions:

Nombre cible: 56 avec 2, 9, 6, 3, 5

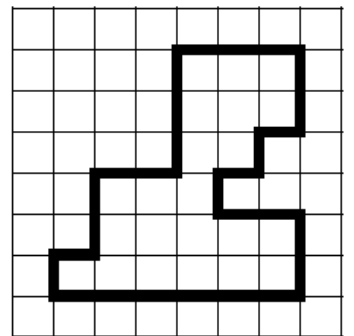

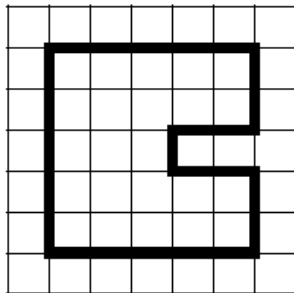

Nombre cible: 71 avec 4, 8, 3, 7, 6

Grandeurs et mesures - Le périmètre d'un polygone

Relis attentivement ta leçon puis fais les exercices suivants en fonction de ton niveau.

CM1 - Fiche 3

1. Calcule le périmètre de ces polygones.



$$P = \underline{\hspace{2cm}}$$

$$P = \underline{\hspace{2cm}} \text{ cm}$$

$$P = \underline{\hspace{2cm}}$$

$$P = \underline{\hspace{2cm}} \text{ carreaux}$$

$$P = \underline{\hspace{2cm}}$$

$$P = \underline{\hspace{2cm}} \text{ cm}$$

$$P = \underline{\hspace{2cm}}$$

$$P = \underline{\hspace{2cm}} \text{ carreaux}$$

2. Résous ce problème dans ton cahier.

M^r Leteneur entoure d'une clôture grillagée un terrain de 31 m de longueur et 14 m de largeur. Il laisse une ouverture de 3 m.
Quelle sera la longueur de sa clôture ?



3. Dans ton cahier, trace deux rectangles différents ayant pour périmètre 20 carreaux !

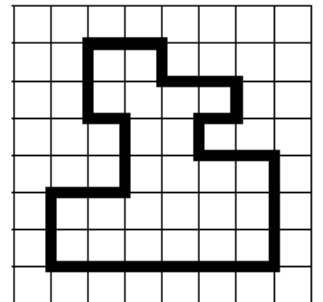

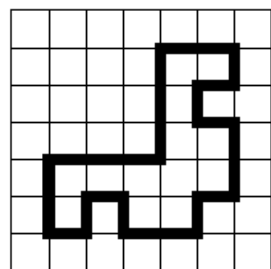

<http://laclassebleue.fr/>

Measures / Le périmètre d'un polygone

CM2 - Fiche 3

CM2

1. Calcule le périmètre de ces polygones.



$$P = \underline{\hspace{2cm}}$$

$$P = \underline{\hspace{2cm}} \text{ cm}$$

$$P = \underline{\hspace{2cm}}$$

$$P = \underline{\hspace{2cm}} \text{ carreaux}$$

$$P = \underline{\hspace{2cm}}$$

$$P = \underline{\hspace{2cm}} \text{ cm}$$

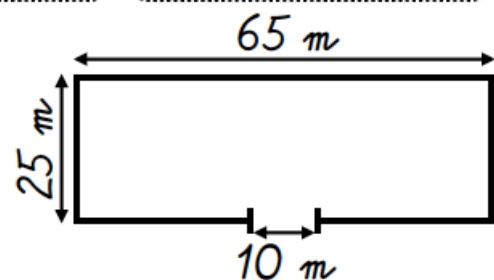
$$P = \underline{\hspace{2cm}}$$

$$P = \underline{\hspace{2cm}} \text{ carreaux}$$

2. Résous ce problème dans ton cahier.

Le plan représente une prairie qui doit être entourée d'une triple rangée de fil de fer barbelé.

Calcule le périmètre de cette prairie, puis la longueur totale de fil de fer barbelé qui sera nécessaire.



3. Dans ton cahier, trace trois polygones différents ayant pour périmètre 20 carreaux !

<http://laclassebleue.fr/>

Measures / Le périmètre d'un polygone

Fluence: fiche n°7

Normalement vous avez du lire votre fiche tous les jours depuis mardi dernier.

Voici la nouvelle fiche de fluence à lire devant un parent au moins 5 fois (pas le même jour) en notant vos résultats avant mardi prochain. (mêmes étapes que la dernière fois)

7

Stratégies de lecteur

Je grandis, je lis mieux



En voyage

	2
Ce matin, Simon est de mauvaise humeur. En effet, ses parents lui ont interdit d'aller jouer chez son copain Léo. Tout ça parce qu'il a raté son évaluation d'histoire hier ! D'accord, il n'avait pas vraiment bien appris sa leçon ce week-end, c'était plus drôle de jouer au foot avec Léo... Mais quand même !	14 29 42 56 61
Soudain, il entend un grand bruit et il voit un grand vaisseau spatial atterrir au fond du jardin. Il n'hésite pas : il se faufile discrètement dehors sans rien dire à ses parents. La porte est ouverte et il rentre à l'intérieur. Là, il se trouve nez à nez avec un petit bonhomme vert qui affiche un grand sourire. Il est rigolo, avec ses antennes qui remuent dans tous les sens et ses gros yeux rouges.	74 87 101 116 128 138
Quand il propose d'emmener Simon faire un tour dans son vaisseau, celui-ci accepte avec enthousiasme. Ils se promènent de planète en planète toute la matinée, jusqu'à ce que Simon commence à avoir faim. Simon lui demande donc de le ramener chez lui, sur Terre.	150 160 171 182 186
Il rentre juste à temps pour le déjeuner, sa mère est en train de l'appeler.	200 202
- Toi, tu es encore allé jouer au fond du jardin au lieu de faire tes devoirs ! Tu vas être encore puni !	217 223
Simon ne dit rien car ses parents ne le croiront jamais.	234

Mes progrès :

	1	2	3	4	5
Mots lus					
Erreurs / Oublis					
Score					

Mes p'tits problèmes hebdomadaires

1 15 personnes veulent aller dans un parc distant de 20 km. Ils disposent d'une seule voiture. On ne peut pas y faire monter plus de 5 personnes à la fois. *Quelle distance la voiture va-t-elle parcourir pour amener ces 15 personnes au parc ?*



2 Dans une boîte, Julien n'a mis que des billets de 5€ et 10€. En tout il a 6 billets qui font 50€.
Combien de billets de 5€ et combien de billets de 10€ a-t-il dans sa boîte ?



3 Dans un théâtre, il y a 100 places. Pour une soirée, le guichet a déjà vendu 47 places à 10€ et 9 places à 20€.
Combien de places peut-il vendre encore ?



4 Un épicier doit ranger 132 bouteilles vides dans des caisses de 20 bouteilles.
Combien lui faut-il de caisses ?



3 étoiles : Une si l'opération ou le dessin sont adaptés, une si le résultat est juste, une si la phrase réponse est bien formulée
+ 1 cœur –bonus si l'orthographe est correcte.

Mes p'tits problèmes hebdomadaires

1 4 objets identiques sont pesés ensemble. En tout ils pèsent 92g.
Combien pèse chacun de ces objets ?



2 La maman de Ludovic fête ses 37 ans. Ludovic lui dit : « Maman, tu vivras jusqu'à 100 ans ! ».
Dans combien d'années aura-t-elle 100 ans ?



3 Un marchand a vendu cette semaine : 2 motos à 3 642€ la moto ; un scooter à 1 299€ ; 7 casques à 158€ pièce. « Cette semaine, j'ai vendu près de 10 000€ de marchandises ! », se dit-il. *A-t-il raison ?*



4 *Combien de morceaux de 18cm peut-on découper dans une ficelle de 1m ?*



3 étoiles : Une si l'opération ou le dessin sont adaptés, une si le résultat est juste, une si la phrase réponse est bien formulée
+ 1 cœur –bonus si l'orthographe est correcte.

1 L'Empereur Charlemagne

Quinze rois de la dynastie des Carolingiens se succèdent à la tête du royaume franc de 751 à 987. Elle commence avec Pépin le Bref, mais le plus connu d'entre eux est Charlemagne qui devient roi en 768.

Il agrandit beaucoup son royaume au cours des guerres successives. Il constitue un immense empire dans lequel il impose la religion chrétienne et dont la capitale est Aix-la-Chapelle.

Charlemagne aide plusieurs fois le pape contre ses ennemis, resserrant ainsi les liens entre l'Église et royauté. En l'an 800, le jour de Noël, il est couronné empereur par le pape, à Rome.

1 Quel est le 1^{er} roi de la dynastie des Carolingiens ? _____

2 En quelle année Charlemagne devient-il roi ? _____

3 Quelle est la capitale sous l'empire de Charlemagne ?

4 Doc 1 : Comment est l'empire de Charlemagne par rapport à la France d'aujourd'hui ?

5 Doc 2 : Ce buste a-t-il été sculpté à l'époque de Charlemagne ?

6 Doc 3 : Où peut-on voir cette statue ?



Doc 1 : L'empire de Charlemagne en 814



Doc 2 : Le buste de Charlemagne, trésor de la cathédrale d'Aix-la-Chapelle fait après 1349.



Doc 3 : Statue de Charlemagne, au musée du Louvre.

▼ Doc 4

Charlemagne 742-814

Charlemagne était un grand guerrier et un administrateur efficace.

La ville d'Aix-la-Chapelle, en Allemagne, était sa capitale. Il n'était pas très instruit, mais il aimait les arts et la culture. Il a développé les écoles religieuses.

Sous son règne, la civilisation franque devint très brillante.

7 Doc 4 : Pourquoi Charlemagne était-il un grand roi ?

2 L'organisation de l'Empire

L'empire est trop vaste pour être surveillé facilement. Pour être obéi, Charlemagne ordonne que tous les hommes libres lui prêtent serment.

Des comtes sont nommés dans les différentes régions de l'empire. Ils rendent la justice, reçoivent les impôts et lèvent les armées. Ils sont eux-mêmes surveillés par les envoyés de l'empereur ou missi dominici. (doc 5)

▼ Doc 5

Les missi dominici s'adressent aux comtes

Employez-vous à maintenir tous les droits de l'empereur tels qu'ils vous ont été précisés. Faites pleinement justice aux églises, aux veuves et aux orphelins. Envoyez-nous la liste de tous ceux qui seront rebelles ou désobéissants pour que nous agissions contre eux comme le veut l'empereur. Gardez cette lettre, lisez-la souvent et prenez-en soin pour que nous puissions vérifier si vous avez agi comme il le fallait.

D'après « les instructions des missi dominici aux comtes » IX^{ème} siècle, d'après Ch. De la Roncière, L'Europe au Moyen Âge, tome I

Louis le Pieux (814-840) succède à Charlemagne. Après sa mort, ses trois fils (Charles, Louis et Lothaire) se partagent l'empire au traité de Verdun, en 843. (doc 6). Les rois affaiblis, ne sont plus obéis par les comtes et ne peuvent plus défendre l'empire des attaques des Normands et des Hongrois. En 987, les comtes choisissent un nouveau roi : Hugues Capet, premier roi de la dynastie des capétiens.

3 Les arts et les lettres

Charlemagne encourage le développement des arts et du savoir.

Il favorise le travail des lettrés, des peintres de manuscrits et des architectes.

Il ouvre une école dans son palais et demande que des écoles soient ouvertes dans chaque évêché et chaque monastère.

7 Quel est le rôle des missi dominici ?

8 Où Charlemagne ouvre-t-il des écoles ?

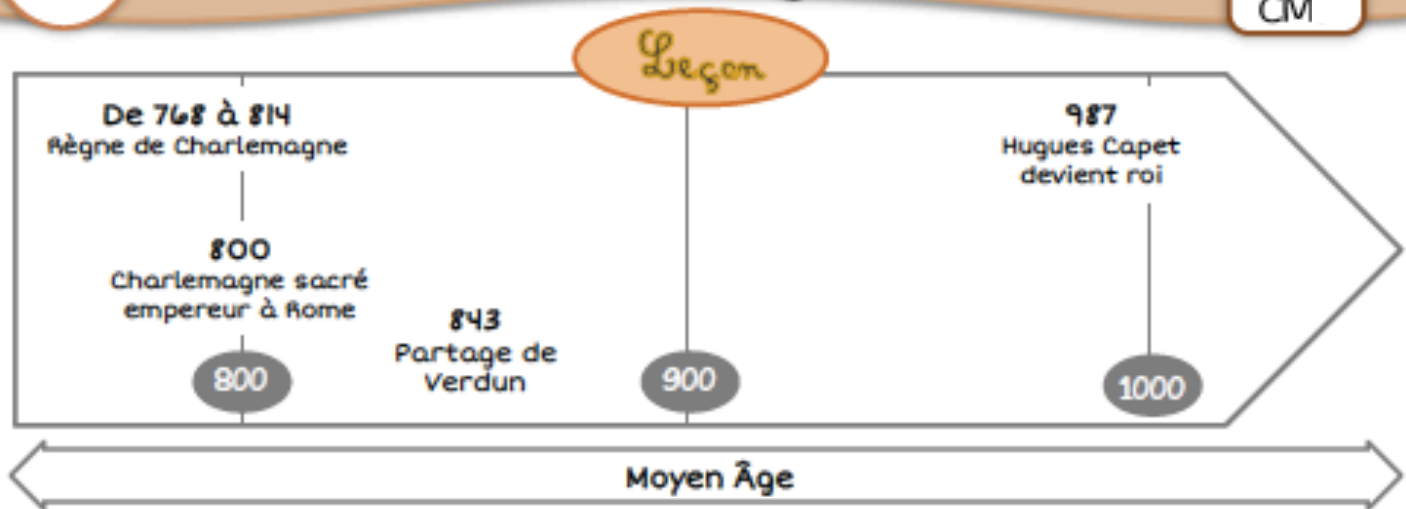
9 Que font les fils de Louis le Pieux à sa mort ?

10 Quelle en est la conséquence ?

5 L'empire divisé

Doc 6





Personnage
historique



La dynastie
des
carolingiens

1. Pépin le Bref
2. Charlemagne
3. Louis I^{er} le Pieux
4. Charles II le Chauve
5. Louis II le Bègue
6. Louis III
7. Carloman
8. Charles le Gros
9. Eudes
10. Charles III le simple
11. Robert I^{er}
12. Raoul de Bourgogne
13. Louis IV d'outremer
14. Lothaire
15. Louis V

Je retiens

La dynastie des _____ commence avec Pépin Le Bref en 751. _____ rois de _____ sont succédés mais le plus connus est _____ qui devient roi, puis empereur de 768 à 814. Charlemagne fait de nombreuses _____ et _____ beaucoup son royaume. Il encourage le développement des _____ et du _____. Il ouvre une _____ dans son palais et des écoles religieuses. Comme son empire est trop _____, il nomme des _____ dans chaque _____ qui rendent la justice, reçoivent les impôts et s'occupe des armées. Ces comtes sont eux-mêmes surveillés par les _____. A la mort de Louis le Pieux, son successeur, ses fils se partagent le royaume en _____ parties ce qui affaiblit le pouvoir des rois. Les comtes choisissent alors un nouveau roi : _____. C'est la fin de la dynastie des Carolingiens en _____.