

**\* Lecture de syllabes à faire à voix haute**

Gammes de syllabes		Gammes de syllabes		Gammes de syllabes		Gammes de syllabes	
	4		4b		5		5b
fa		cha		choi		ché	
	fu		ré		ron		ra
vu		nou		non		nou	
	to		nè		noi		nè
fi		mi		mon		mè	
	fè		fou		fon		fou
fo		lou		loi		lou	
	vi		chè		chon		choi
té		sè		son		son	
	ve		vou		von		ron
va		fu		foi		fi	
	tè		tou		ton		chou
ti		lè		lon		loi	
	té		vo		voi		vé
fe		tou		toi		tou	

**\*Orthographe : le son [i]***A faire à l'oral :*

a-Dis le mot. / b- Frappe les syllabes du mot. / c- Où entends-tu le son [i] ?



--	--



--	--



--	--	--



--	--	--

## **\* Lecture-Compréhension : Savoir retrouver où se passe l'histoire.**

Réponds aux questions à l'oral et explique ta réponse à un adulte.

1- Pendant les vacances, avec Mamie, nous avons vu des acrobates. Mamie a acheté des bonbons. Le clown nous a fait beaucoup rire. Où sont-ils allés ?

2- Maman installe bébé dans son petit siège à l'arrière. Elle s'assied à l'avant et attache sa ceinture de sécurité. Elle démarre. Où est maman ?

3- Ryan voulut courir, mais ses pieds se prirent dans la serviette. Il tomba par terre, le nez dans le sable humide. Où sommes-nous ?

## **\* Numération**

*L'élève peut s'aider de son grand cahier bleu. Un adulte lit le nombre à l'élève. L'élève cherche le nombre dans son cahier, puis l'écrit en regardant ou en cachant. Possibilité de ne faire que deux nombres.*

**1-Ecris les nombres suivants en lettres :**

a) 21 b) 15

c)38


d) 17

e)45

## Rappel de CE1 : Comparer des nombres

Pour comparer des nombres, on utilise les signes  $<$ ,  $>$  et  $=$ .

La pointe montre toujours le plus petit.



Exemples :

$7 < 18$  On dit que 7 est plus petit que 18.

$25 > 12$  On dit que 25 est plus grand que 12.

$20+9 = 29$  On dit que  $20+9$  est égal à 29.

Pour comparer deux nombres, on regarde d'abord **les chiffres des dizaines**.

Exemple : Je compare 24 et 46.

d	u	d	u
2	4	4	6

Le chiffre des dizaines de 46 est plus grand que le chiffre des dizaines de 24 donc  $46 > 24$ .

---

si le chiffre des dizaines est identique, on regarde **les chiffres des unités**.

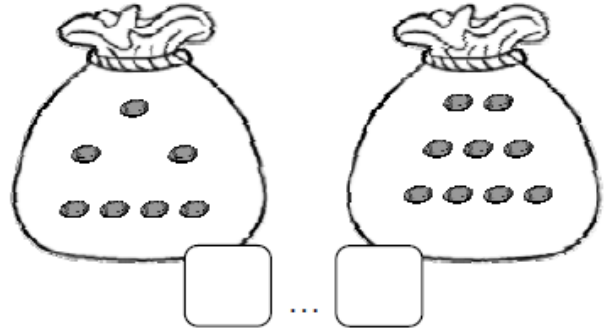
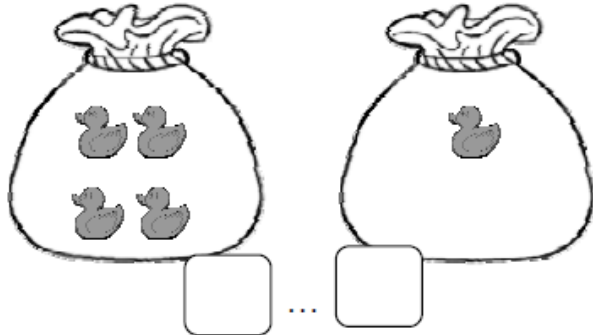
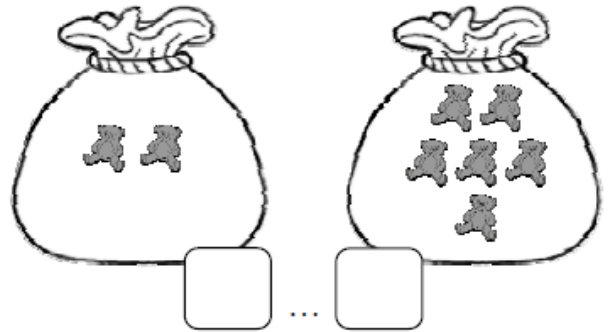

Exemple : Je compare 36 et 32.

d	u	d	u
3	6	3	2

Le chiffre des unités de 36 est plus grand que le chiffre des unités de 32 donc  $36 > 32$ .

---

**2-Compare les nombres comme dans l'exemple. Exemple :  $5 < 3$**



9...7  
8...1

4...5  
3...9

8...3  
2...6

**\*Questionner le monde : Le temps**

*\* Pour se repérer, le temps est découpé en jours, semaines, mois et années.*

*Une année représente le temps que met la Terre pour faire un tour complet autour du Soleil.  
Une année dure douze mois.*

*\* Un adulte lit les mois de l'année et l'élève répète dans le but de mémoriser.*

**Si possible, il écrit dans son cahier d'essais .**

Les mois de l'année sont : janvier, février, mars, avril, mai, juin, juillet, août, septembre, octobre, novembre, décembre.

**Devoirs pour mardi 14 septembre 2021**

Poésie : Pour ceux qui ne l'ont pas encore fait : écrire, illustrer et apprendre Chahut

QLM : mémoriser les mois de l'année.