


**\*Des images et des mots**

un crube

un crabe

un crobe

une fourmi

une fourmo

une fourma



une garafe

une girafe

une girofe

un lapin


un lopin

un lupin

une vache


une voche

une vacha

une souris


une soures

une souras

une tortue

une turtue

une tartue



un togre

un tigrri

un tigre**\* Numération****1-Décompose comme dans l'exemple**Exemple :  $34 = 3d + 4u = 30 + 4$ 

a)  $19 = 1d + 9u = 10 + 9$

b)  $74 = 7d + 4u = 70 + 4$

c)  $68 = 6d + 8u = 60 + 8$

d)  $99 = 9d + 9u = 90 + 9$

**2-Compare en utilisant les signes <, > ou =**

35	<..	45	61	>..	16	$30 + 1$	=	31
92	>..	35	48	>..	8	72	<..	92
$10 + 9$	>..	16	$20 + 3$	<..	89	$24 + 5$	>..	22
$3 + 5$	=	8	7	<..	67	77	>..	67