


* Lecture de syllabes à faire à voix haute (voir lundi 31/08/21)* Des images et des mots

Ecris le bon mot :



un conord


un canard

un cenerd

un chat

un chot



un chut



un cochon

un cachon

un cichon



un chomeau


un chameau

un chimeau

un choen

un chien


un chaen



un runard

un renord

un renard



* Calcul


- Les tables d'addition : Mémoriser les tables d'addition suivantes

La table d'addition


+1	+2	+3	+4	+5
$0 + 1 = 1$	$0 + 2 = 2$	$0 + 3 = 3$	$0 + 4 = 4$	$0 + 5 = 5$
$1 + 1 = 2$	$1 + 2 = 3$	$1 + 3 = 4$	$1 + 4 = 5$	$1 + 5 = 6$
$2 + 1 = 3$	$2 + 2 = 4$	$2 + 3 = 5$	$2 + 4 = 6$	$2 + 5 = 7$
$3 + 1 = 4$	$3 + 2 = 5$	$3 + 3 = 6$	$3 + 4 = 7$	$3 + 5 = 8$
$4 + 1 = 5$	$4 + 2 = 6$	$4 + 3 = 7$	$4 + 4 = 8$	$4 + 5 = 9$
$5 + 1 = 6$	$5 + 2 = 7$	$5 + 3 = 8$	$5 + 4 = 9$	$5 + 5 = 10$
$6 + 1 = 7$	$6 + 2 = 8$	$6 + 3 = 9$	$6 + 4 = 10$	$6 + 5 = 11$
$7 + 1 = 8$	$7 + 2 = 9$	$7 + 3 = 10$	$7 + 4 = 11$	$7 + 5 = 12$
$8 + 1 = 9$	$8 + 2 = 10$	$8 + 3 = 11$	$8 + 4 = 12$	$8 + 5 = 13$
$9 + 1 = 10$	$9 + 2 = 11$	$9 + 3 = 12$	$9 + 4 = 13$	$9 + 5 = 14$
$10 + 1 = 11$	$10 + 2 = 12$	$10 + 3 = 13$	$10 + 4 = 14$	$10 + 5 = 15$

- Tu mémorises la table, puis tu caches et tu l'écris sans regarder. Si tu as oublié, tu peux regarder et cacher à nouveau.

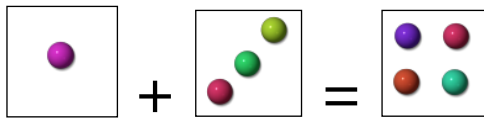
Complète et calcule :



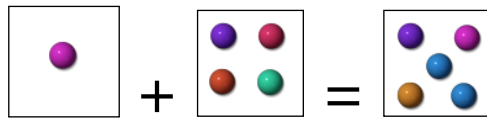
..... + =



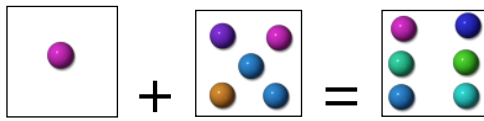
..... + =



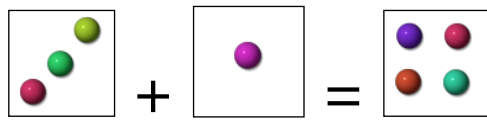
..... + =




..... + =



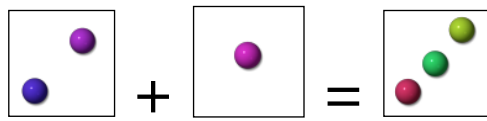
..... + =



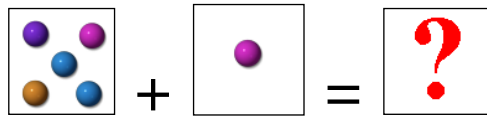
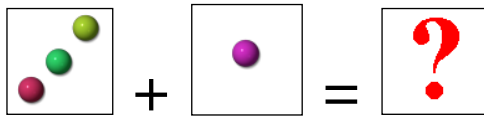
..... + =



..... + =





..... + =



$$\dots\dots + \dots\dots = \dots\dots$$

$$\dots\dots + \dots\dots = \dots\dots$$


$$\dots\dots + \dots\dots = \dots\dots$$

$$\dots\dots + \dots\dots = \dots\dots$$

*** Numération**

- Les groupements de 10 (paquets de 10)

Dans l'exercice suivant, un crayon c'est une unité.

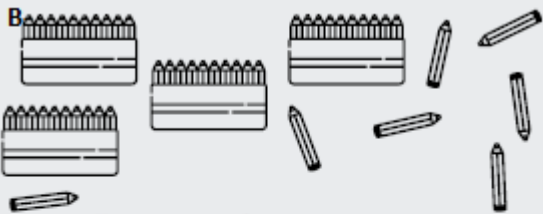
Une pochette de crayons contient 10 crayons donc c'est une dizaine.

N'oublie pas que lorsque tu as 10 unités, tu peux fabriquer une dizaine.

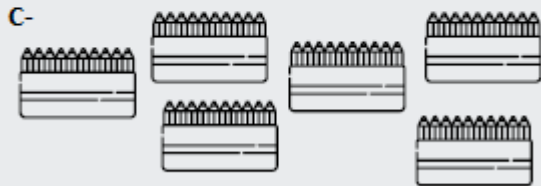
A - Écris le nombre de crayons.



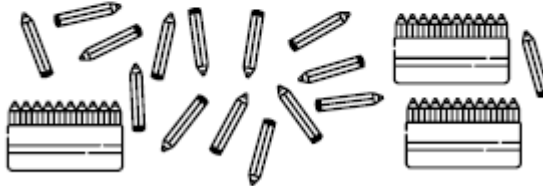
Il y a dizaines et unité.





Il y a dizaines et unités.





Il y a dizaines et unité.




D- Il y a dizaines et unités.

E-  9 pochettes de 10 crayons
 3 crayons



Il y a crayons.

F-  3 pochettes de 10 crayons
 8 crayons

Il y a crayons.

G-  6 pochettes de 10 crayons

Il y a crayons.

H-  5 crayons
 9 pochettes de 10 crayons

Il y a crayons.

Devoirs pour jeudi 2 septembre 2021 :

Calcul : Mémoriser les tables d'addition de 1 à 5.