

Nombres et quantités : de 0 à 50

3



15

1 Complète avec $<$, $>$ ou $=$:

42 24

41 43

36 46

40 39

40 45

30 50

2 Ecris les nombres dans l'ordre croissant, du plus petit au plus grand:

37 - 47 - 27

42 - 24 - 41

Nombres et quantités: de 0 à 50

1 Trouve le nombre qui vient avant et celui qui vient après



— 48 —

— 40 —




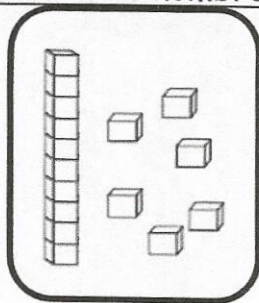
— 41 —

— 43 —

— 45 —

— 49 —

2 Dessine le nombre en barres



16

45

47

48