
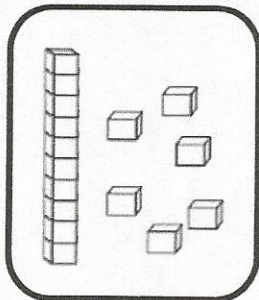


Nombres et quantités: de 0 à 50


1 Trouve combien Arthur a d'argent dans sa tirelire :




2 Dessine le nombre en barres




16



42



36



47

Nombres et quantités : de 0 à 50



1 Colorie de la même couleur ce qui est identique:

43

quarante-trois

quarante-sept

$40+7$

$40+5$

45

49

$40+3$

quarante-cinq

$40+9$

41

47

$40+1$

quarante-neuf

quarante-et-un