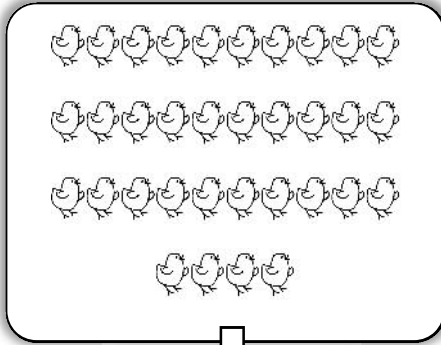


5. Grouper et coder une quantité.


bonnes réponses

/6

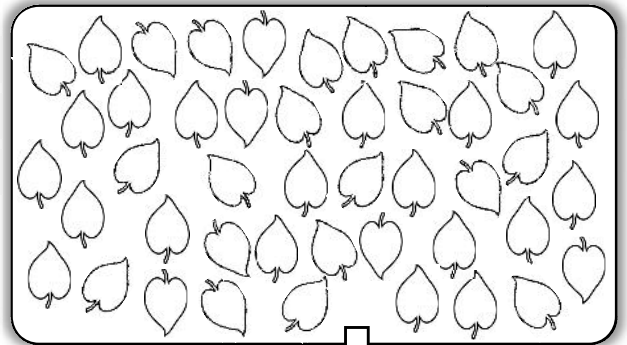
Entoure des paquets de 10 trouve le nombre d'objets et écris le dans le tableau des dizaines et unités :



d	u



d	u



d	u

6. Comprendre le sens du chiffre selon sa position dans le nombre.

bonnes réponses

/3

47	11	74	35	53	8	6	42	24

7. Comparer des nombres.

bonnes réponses

/4

Entoure le nombre le plus petit de chaque carte.

 29 • 13 • 20	38 • 43 • 35	42 • 24 • 31	25 • 27 • 21
---	--------------	--------------	--------------

8. Comparer des nombres en utilisant le bon signe. < ou >

bonnes réponses

/4

Compare et complète avec le bon signe

30 <input type="text"/> 29	24 <input type="text"/> 30	35 <input type="text"/> 53	47 <input type="text"/> 46
46 <input type="text"/> 64	36 <input type="text"/> 32	36 <input type="text"/> 41	25 <input type="text"/> 52

9. Identifier le nombre d'après sa position dans la bande numérique.

bonnes réponses

/6

Indique le bon nombre dans les perles blanches

