

## LES NOMBRES DE 0 À 10000

**1) Colorie le chiffre des unités.**

936	715	42	5	4841	1020	900	306	2558	21
-----	-----	----	---	------	------	-----	-----	------	----

**2) Colorie le chiffre des dizaines.**

2674	155	784	3	9267	105	42	7082	63	98
------	-----	-----	---	------	-----	----	------	----	----

**3) Colorie le chiffre des centaines.**

321	9524	15	784	1	6098	365	23	7408	128
-----	------	----	-----	---	------	-----	----	------	-----

**4) Colorie le chiffre des milliers.**

4589	152	453	2018	20	8936	1785	202	9874	6358
------	-----	-----	------	----	------	------	-----	------	------

**5) Écris des nombres différents qui ont 5 comme chiffre des unités.**

--	--	--	--

**6) Écris des nombres différents qui ont 3 comme chiffre des dizaines.**

--	--	--	--

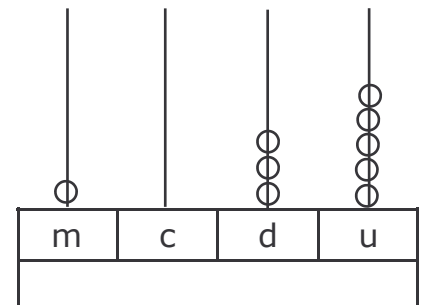
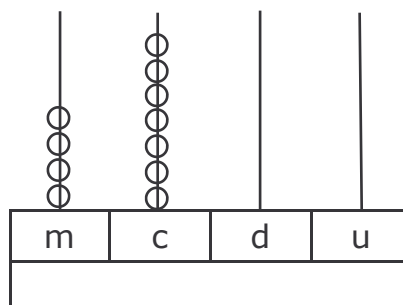
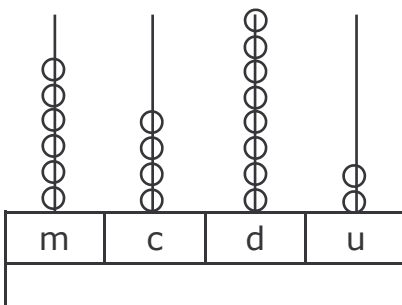
**7) Écris des nombres différents qui ont 8 comme chiffre des centaines.**

--	--	--	--

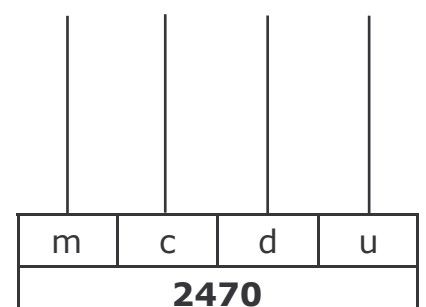
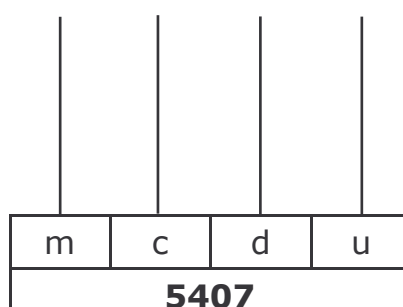
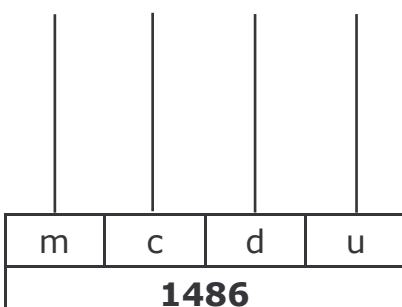
**8) Écris des nombres différents qui ont 2 comme chiffre des milliers.**

--	--	--	--

**9) Écris en chiffres les nombres représentés sur les abaques.**



**10) Représente sur les abaques les nombres demandés :**



## LES NOMBRES DE 0 À 10000 CORRECTION

### 1) Colorie le chiffre des unités.

93 <b>6</b>	71 <b>5</b>	4 <b>2</b>	<b>5</b>	484 <b>1</b>	102 <b>0</b>	9 <b>00</b>	30 <b>6</b>	255 <b>8</b>	2 <b>1</b>
-------------	-------------	------------	----------	--------------	--------------	-------------	-------------	--------------	------------

### 2) Colorie le chiffre des dizaines.

26 <b>7</b> 4	1 <b>5</b> 5	7 <b>8</b> 4	3	92 <b>6</b> 7	1 <b>0</b> 5	<b>4</b> 2	70 <b>8</b> 2	<b>6</b> 3	<b>9</b> 8
---------------	--------------	--------------	---	---------------	--------------	------------	---------------	------------	------------

### 3) Colorie le chiffre des centaines.

<b>3</b> 21	9 <b>5</b> 24	15	<b>7</b> 84	1	6 <b>0</b> 98	<b>3</b> 65	23	7 <b>4</b> 08	<b>1</b> 28
-------------	---------------	----	-------------	---	---------------	-------------	----	---------------	-------------

### 4) Colorie le chiffre des milliers.

<b>4</b> 589	152	453	<b>2</b> 018	20	<b>8</b> 936	<b>1</b> 785	202	<b>9</b> 874	<b>6</b> 358
--------------	-----	-----	--------------	----	--------------	--------------	-----	--------------	--------------

### 5) Écris des nombres différents qui ont 5 comme chiffre des unités. *exemples...*

<b>105</b>	<b>45</b>	<b>1095</b>	<b>6725</b>	<b>5065</b>
------------	-----------	-------------	-------------	-------------

### 6) Écris des nombres différents qui ont 3 comme chiffre des dizaines. *exemples...*

<b>133</b>	<b>3037</b>	<b>5738</b>	<b>239</b>	<b>34</b>
------------	-------------	-------------	------------	-----------

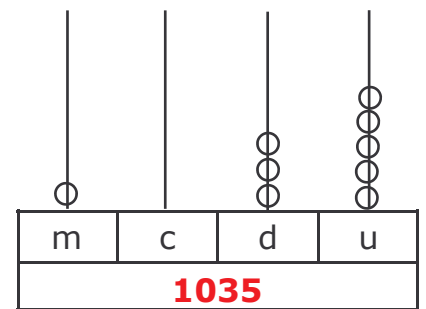
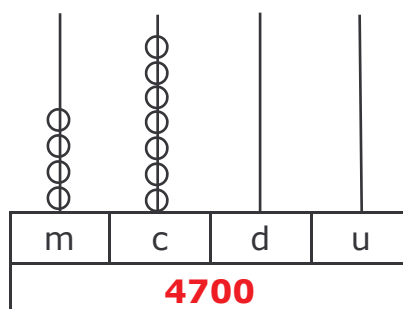
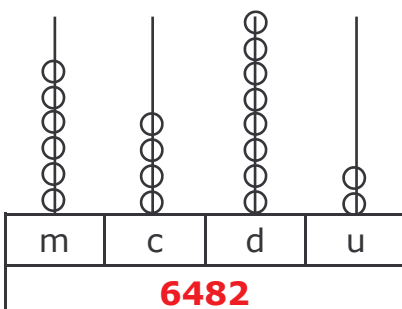
### 7) Écris des nombres différents qui ont 8 comme chiffre des centaines. *exemples...*

<b>835</b>	<b>2850</b>	<b>6899</b>	<b>823</b>	<b>1880</b>
------------	-------------	-------------	------------	-------------

### 8) Écris des nombres différents qui ont 2 comme chiffre des milliers. *exemples...*

<b>2866</b>	<b>2500</b>	<b>2634</b>	<b>2128</b>	<b>2222</b>
-------------	-------------	-------------	-------------	-------------

### 9) Écris en chiffres les nombres représentés sur les abaques.



### 10) Représente sur les abaques les nombres demandés :

