

## Nombres et quantités : de 0 à 80

3  15

1 Complète avec  $<$ ,  $>$  ou  $=$ :

72 ..... 27

72 ..... 52

56 ..... 76

50 ..... 60

70 ..... 75

75 ..... 19

2 Ecris les nombres dans l'ordre croissant, du plus grand au plus petit :

24 - 35 - 46 - 42 - 32 - 64

## Nombres et quantités: de 0 à 80

1 Trouve le nombre qui vient avant et celui qui vient après



— 78 —

— 50 —

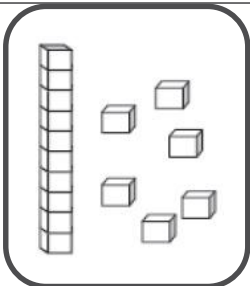
— 71 —

— 63 —


— 45 —

— 79 —


2 Dessine le nombre en barres




16



75



47



58