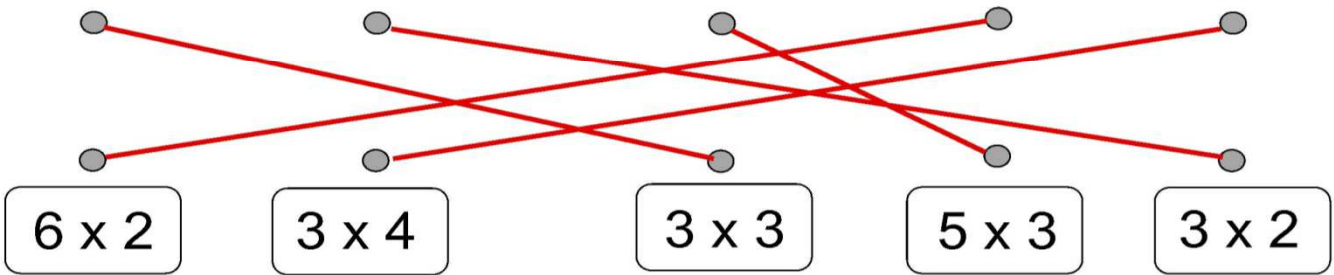
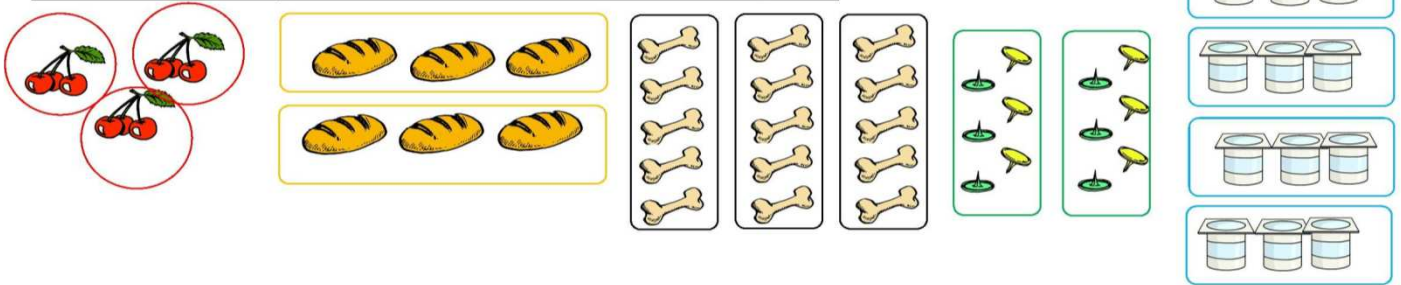



Calcul : la multiplication (Réviser la leçon dans le cahier de mathématiques)


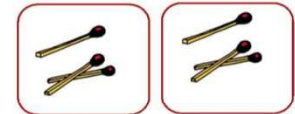
Relier la multiplication au bon dessin



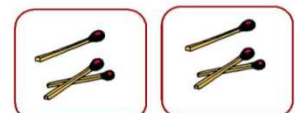
Ecrire la bonne multiplication par rapport au dessin



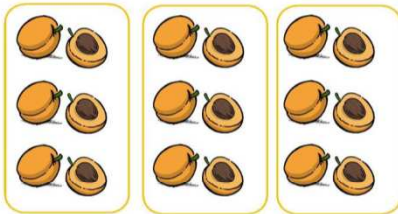
= $4 \times 2 = 8$



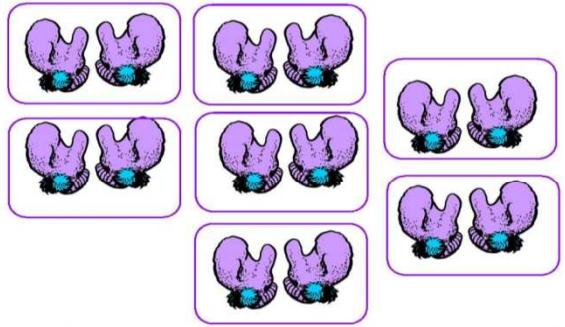
= $3 \times 4 = 12$




= $4 \times 3 = 12$



= $6 \times 3 = 18$



= $2 \times 7 = 14$



= $4 \times 2 = 8$

Calcul mental

Ajout et retrait de nombres inférieurs à 100			
$20 - 4 = \dots\dots\dots$ 16	$20 - 8 = \dots\dots\dots$ 12	$25 - 5 = \dots\dots\dots$ 20	$20 - 3 = \dots\dots\dots$ 17
$25 - 8 = \dots\dots\dots$ 17	$32 - 2 = \dots\dots\dots$ 30	$30 - 4 = \dots\dots\dots$ 26	$32 - 6 = \dots\dots\dots$ 26
$64 - 4 = \dots\dots\dots$ 60	$60 - 3 = \dots\dots\dots$ 57	$60 - 7 = \dots\dots\dots$ 53	$75 - 7 = \dots\dots\dots$ 68

Questionner le temps : la Préhistoire (le Néolithique)



Ces menhirs se trouvent à Carnac :

- en Bretagne
- en Grande-Bretagne
- en Italie

Menhir vient d'un mot breton qui signifie :

- gros caillou
- pierre longue
- pierre debout

Cette habitation date :

- du Néolithique
- d'avant le Néolithique
- d'après le Néolithique



Combien mesuraient les maisons du Néolithique en moyenne ?

28 mètres

Qu'est-ce que le torchis ?

- de la pierre
- un mélange de terre et de paille
- de la terre



Quel est le nom de cet outil ?

une hache



A quoi sert cet outil ?

- à polir les pierres
- à écraser la farine
- à cuire du pain

Quelle est cette grande invention du Néolithique ?

la céramique



Cet animal est un :

loup

C'est l'ancêtre du :

chien

Dolmen vient d'un mot breton qui signifie :

- bon appétit
- table de pierre
- table très lourde



A quoi servaient les tumulus ?

à enterrer les morts.