


Corrigé

Numération : les nombres jusqu'à 999

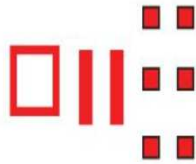
Fais le dessin correspondant à chaque nombre :

$$124 = \square \quad || \quad \square\square\square\square$$

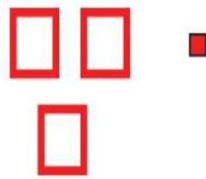
854



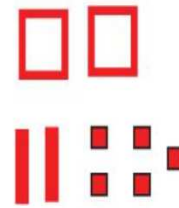
126



301



225



Décompose chaque nombre en suivant l'exemple suivant :

$$276 = 2c \ 3d \ 4u$$

$$\rightarrow 892 = 8c \ 9d \ 2u$$

$$\rightarrow 103 = 1c \ 3u$$

$$\rightarrow 646 = 6c \ 4d \ 6u$$

$$\rightarrow 350 = 3c \ 5d$$

$$\rightarrow 795 = 7c \ 9d \ 5u$$

Retrouve le nombre à partir de sa décomposition :

$$\rightarrow 7c + 4d + 1u = 741$$

$$\rightarrow 5c + 4d + 8u = 548$$

$$\rightarrow 9c + 5d = 950$$

$$\rightarrow 2c + 7u = 207$$

$$\rightarrow 1c + 4d + 6u = 146$$