



# Les formes planes

Décrire les formes. Tracer.

Géométrie

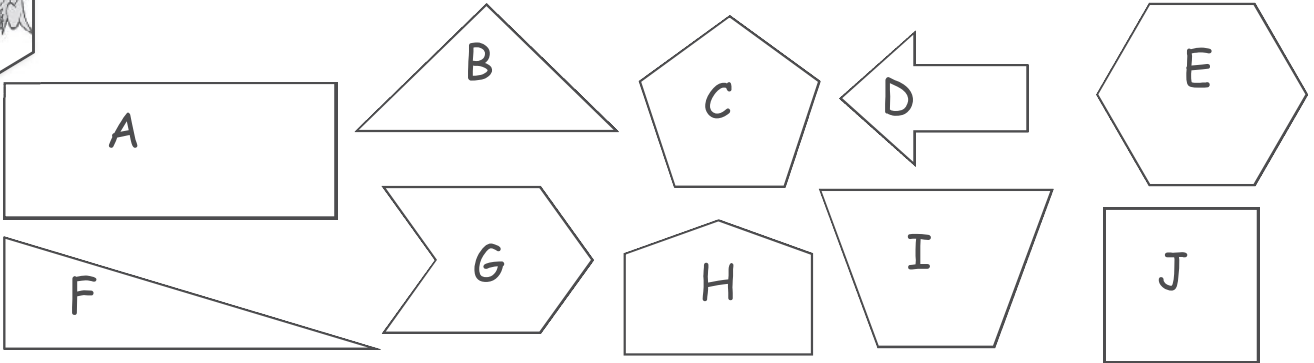
Fiche n°

lundi mardi mercredi jeudi vendredi samedi dimanche



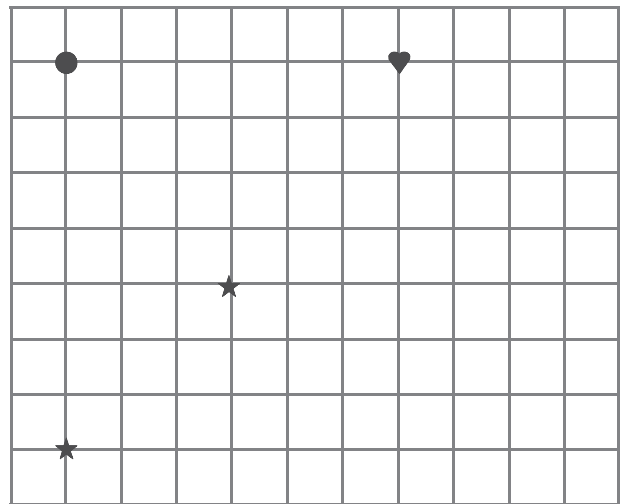
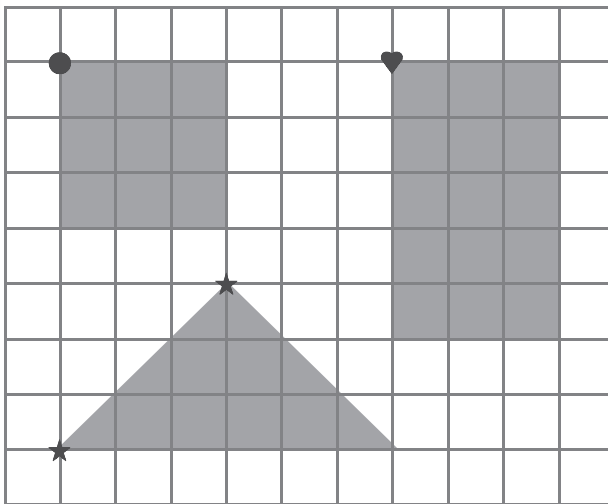
/ /

**1** Compte le nombre de côtés de chaque figure et range-les dans le tableau.



3 côtés	4 côtés	5 cotés	6 côtés
<input type="radio"/> <input type="radio"/>	<input checked="" type="radio"/> <input type="radio"/> <input type="radio"/>	<input type="radio"/> <input type="radio"/>	<input type="radio"/> <input type="radio"/>

**2** Reproduis les figures comme celles du modèle.



**3** Colorie en respectant les indications.

