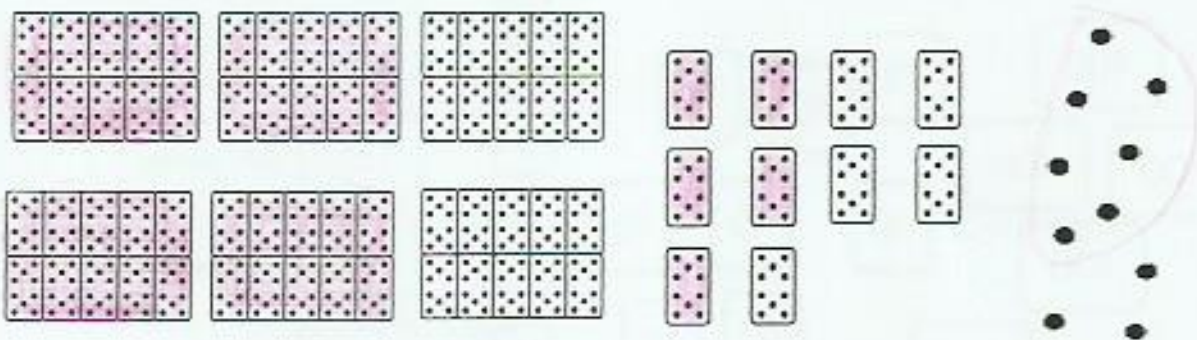




Numération

Fiche 11

1 Colorie ce qui fait 457.



2 Ecris ces nombres en chiffres.

deux-cent-quatre

204

quatre-cent-trente-sept

437

trois-cent-douze

312

huit-cent-quarante-neuf

849

3 Ecris ces nombres en lettres.



deux-cent-soixante-quatre




trois-cent-cinquante-huit



quatre-cent-neuf

4 Range ces nombres dans l'ordre croissant :

217 ; 604 ; 471 ; 925 ; 833 ; 128




128 < 217 < 471 < 604 < 833 < 925



Numération

Fiche 12

1 Ecris le nombre de centaines, dizaines et d'unités. Ecris le nombre.



5


centaines

8

dizaines

4

unités



2 Dessine le bon nombre de centaines, dizaines et unités.



100

10

10

1

1

1

1

100

10

10

1

1

1



100

100

10

10

1

1

100

10

10

1

10

10

1


10

10

1

3 Range ces nombres dans l'ordre décroissant :

504 ; 341 ; 536 ; 476 ; 860 ; 653





860 > 653 > 536 > 504 > 476 > 341



Numération

Fiche 13

1 Entoure ce qui fait 379.



2 Ecris ces nombres en chiffres.

quatre-cent-trois

403

cinq-cent-vingt-quatre

524

sept-cent-neuf

709

six-cent-soixante-six

666

3 Ecris ces nombres en lettres.



quatre-cent-cinquante-sept



cent-quarante-huit

4 Complète chaque série en comptant de 1 en 1.

180 181 182 183 184 185 186 187 188 189 190

196 197 198 199 200 201 202 203 204 205 206

359 360 361 362 363 364 365 366 367 368 369