

« Mercredis apprenants »

Prénom et Nom de l'élève :

Ecole :

FRANÇAIS Exercice 1

	LI0106	1	9	0
--	--------	---	---	---

Lis les mots suivants :

chouette

coquillage

plantation

balançoire

villageois

récompense

Exercice 2

LI0101	1	9	0	LI0103	1	9	0
--------	---	---	---	--------	---	---	---

Coche le mot que te dicte la maîtresse ou le maître.

Il était une fois, en Afrique, un lapin qui était très sage. Il avait creusé son terrier au pied d'un vieux baobab, en plein cœur de la forêt. C'était l'ami de tous les animaux,

linges
 singes
et les songes, les lions, les gazelles, les crocodiles, le perroquet,
 signes
 cintres,

confier
 coder
l'éléphant même venaient se corser à lui.
 caler
 confiner

Exercice 3

LI0405 :

1 9 0

LI0406 :

1 9 0

LI0407 :

1 9 0

(texte : La marque de sagesse)





Exercice 4

LI0303 :

1 9 0

Lis la phrase et coche l'image qui lui correspond.

Le chien adore accompagner la famille qui se promène à vélo.

 <input type="checkbox"/>	 <input type="checkbox"/>	 <input type="checkbox"/>	 <input type="checkbox"/>
---	---	--	---

Exercice 5

LI0206:

1 9 0

Lis le texte et complète le dessin.

Dans mon arbre, il y a une pomme.
Au pied de l'arbre, il y a une fleur.
Et le soleil est au-dessus du nuage.



Exercice 6

LI0601	1	9	0	LI0602	1	9	0	LI0603	1	9	0	LI0608	1	9	0
--------	---	---	---	--------	---	---	---	--------	---	---	---	--------	---	---	---

Lis le texte puis réponds aux questions.

Du temps où les éléphants n'avaient pas encore de trompe, il y avait un petit éléphant qui ne rêvait que de voyages.

- Tu es trop petit, lui disait sa mère. Tu voyageras quand tu seras grand.

Mais le petit éléphant était têtu et surtout il avait soif d'aventure.

Alors, un matin, de très bonne heure, avant même que le soleil ne soit levé, le petit éléphant enfila son pantalon, mit sa brosse à dents dans sa poche arrière et s'en alla sans faire de bruit.

- Bonjour, fit le boa, où vas-tu comme ça ?

- Je vais à l'aventure ! répondit fièrement le petit éléphant.

- Si tu vas tout droit, dit le boa, tu arriveras devant le grand fleuve Limpolo. Quand tu verras des troncs d'arbre glisser sur l'eau, méfie-toi, souvent ce sont des crocodiles et ils sont dangereux.

- Merci pour le conseil, dit le petit éléphant, je ferai attention, et il reprit son chemin.

Un matin, après avoir beaucoup marché, il arriva devant le grand fleuve Limpolo. Le petit éléphant prit sa brosse à dents dans la poche arrière de son pantalon et commença à se brosser énergiquement.

*D'après une adaptation pour les petits de « Histoires comme ça » de Rudyard Kipling
L'école des Loisirs*

Réponds aux questions :

1 / Quel est le rêve du petit éléphant ?

.....
.....

2 / Pourquoi le petit éléphant s'en va-t-il très tôt le matin sans faire de bruit ?

.....
.....

3 / Comment s'appelle le fleuve ?

.....
.....

8 / Quel est le conseil donné par le boa au petit éléphant ?

.....
.....
.....
.....

Exercice 7

EC0111 :	1	9	0		EC0103 :	1	9	0
----------	---	---	---	--	----------	---	---	---

Consigne : Ecris une ou plusieurs phrases à propos de l'illustration que tu vois. Tu devras utiliser les mots suivants: "chapeau, déguiser, fille."


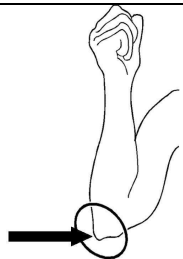




.....
.....
.....
.....
.....
.....
.....
.....
.....

Exercice 8

VO0101 :	1	9	0	VO0102 :	1	9	0
VO0103 :	1	9	0	VO0104 :	1	9	0

Consigne : Coche le mot qui correspond le plus précisément à l'image.

	
<input type="checkbox"/> album	<input type="checkbox"/> coude
<input type="checkbox"/> journal	<input type="checkbox"/> épaule
<input type="checkbox"/> magazine	<input type="checkbox"/> genou
<input type="checkbox"/> roman	<input type="checkbox"/> poignet

	
<input type="checkbox"/> séjour	<input type="checkbox"/> souffrir
<input type="checkbox"/> salon	<input type="checkbox"/> souffler
<input type="checkbox"/> cuisine	<input type="checkbox"/> cracher
<input type="checkbox"/> chambre	<input type="checkbox"/> aspirer

Exercice 1

NO0104:	1	9	0
---------	---	---	---

Écris les nombres dictés :

Nombre 1

Nombre 2

Nombre 3

Nombre 4

Nombre 5

Exercice 2

NO0217	1	9	0		NO0218	1	9	0
--------	---	---	---	--	--------	---	---	---

Coche la case qui correspond au nombre souligné :

<p><u>817</u></p> <p><input type="checkbox"/> cent-quatre-vingt-dix-sept</p> <p><input type="checkbox"/> sept-cent-dix-huit</p> <p><input type="checkbox"/> huit-cent-dix-sept</p> <p><input type="checkbox"/> huit-cent-soixante-et-onze</p>	<p><u>83</u></p> <p><input type="checkbox"/> trente-huit</p> <p><input type="checkbox"/> soixante-trois</p> <p><input type="checkbox"/> quatre-vingt-trois</p> <p><input type="checkbox"/> cent-trente-huit</p>
--	--

Exercice 3

NO0402	1	9	0
--------	---	---	---

Range les nombres suivants du plus petit au plus grand : coche la bonne suite.

314 - 134 - 34 - 431 - 413 - 43

431	413	314	134	43	34
-----	-----	-----	-----	----	----

34	43	314	134	431	413
----	----	-----	-----	-----	-----

34	43	134	314	431	413
----	----	-----	-----	-----	-----

34	43	134	314	413	431
----	----	-----	-----	-----	-----

Exercice 4

NO0901	1	9	0
--------	---	---	---

Ecris le double des nombres dictés.

A

B

C

D

E

F

Exercice 5

CA0202	1	9	0
--------	---	---	---

Écris les résultats des calculs dans les cases.

A

B

C

D

E

F

Exercice 6

CA0205	1	9	0
--------	---	---	---

Complète les additions.

$7 + \dots = 12$

$9 = 5 + \dots$

$16 = 8 + \dots$

$\dots = 8 + 9$

$\dots + 7 = 13$

$4 + \dots = 14$

$2 + 2 + 2 + 2 + 2 = \dots$

$\dots = 5 + 5 + 5 + 5$

$\dots + 4 = 10$

Exercice 7

CA0415	1	9	0		CA0405	1	9	0	
--------	---	---	---	--	--------	---	---	---	--

Pose et effectue les opérations dans les cadres en-dessous.

$$503 + 23 + 142 =$$

$$254 + 69 =$$

Exercice 8

								CA0609	1	9	0
--	--	--	--	--	--	--	--	--------	---	---	---

Pose et effectue l'opération.

$$232 \times 3 =$$

Exercice 9


								CA1201	1	9	0
--	--	--	--	--	--	--	--	--------	---	---	---

Pour partir en vacances, Jean a roulé 128 km puis il s'est arrêté pour déjeuner. Après le déjeuner, il a roulé 250 km.

Quelle distance a-t-il parcourue ?

Tu peux effectuer tes recherches dans le cadre.

Cadre de recherche



Coche la bonne réponse.

122 km

378 km

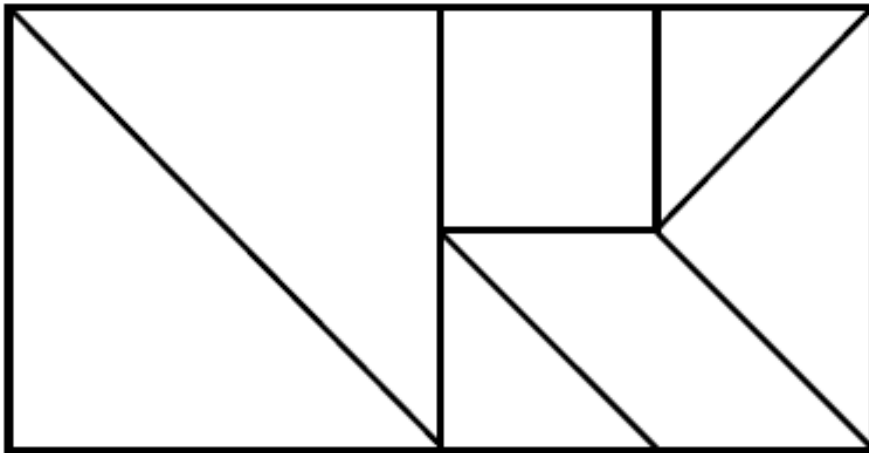
370 km

120 km

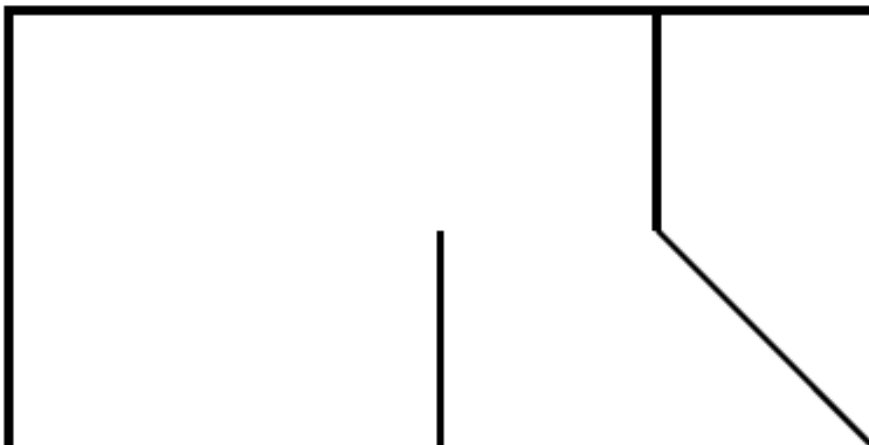
Exercice 10

GE0303 1 9 0

Voici une figure que tu dois reproduire.



On a commencé. Termine la figure en utilisant ta règle.



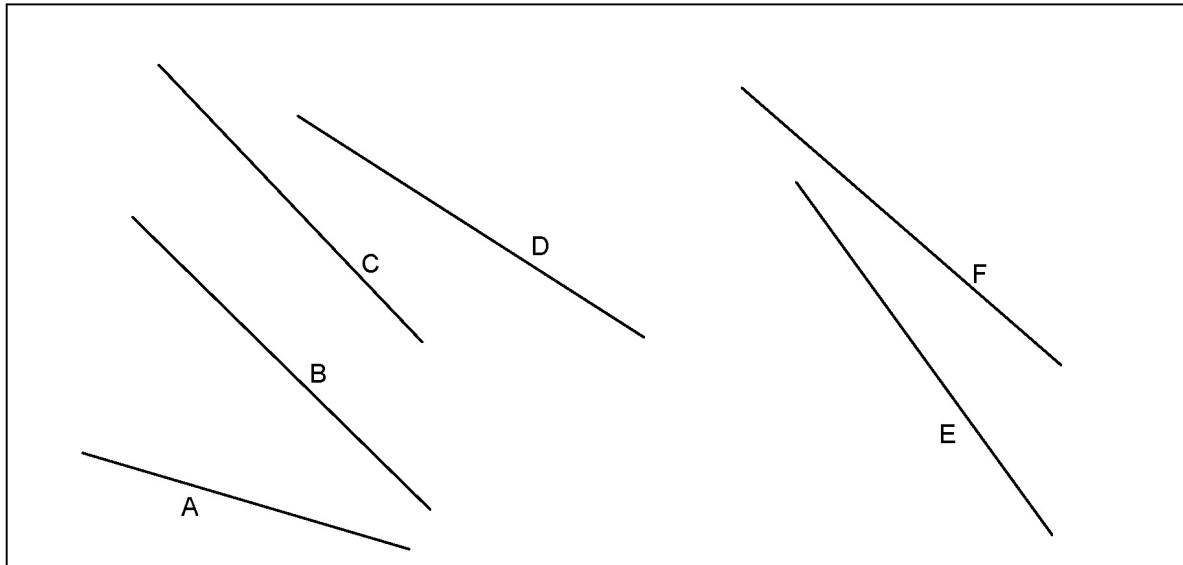
Exercice 11

GM0408-	1	9	0		GM0409	1	9	0
---------	---	---	---	--	--------	---	---	---

Repasse les bons traits en suivant les consignes.

Repasse en bleu le segment le plus long.

Repasse en rouge le segment le plus court.



Exercice 12

OG0113	1	9	0	OG0114	1	9	0	OG0115	1	9	0
--------	---	---	---	--------	---	---	---	--------	---	---	---

Écris ta réponse sur les pointillés.

La directrice d'une école de cinq classes prépare les commandes de matériel pour la rentrée.

Classe	Nombre d'élèves	Nombre de cahiers à commander	Nombre de manuels à commander
CP	24	96	48
CE1	25	100	50
CE2	27	108	54
CM1	24	96	48
CM2	23	92	46
Total	123	492	246

A- Combien de cahiers la directrice doit-elle commander pour la classe de CM1 ?

.....

B- Combien de manuels la directrice doit-elle commander pour la classe de CE1 ?

.....

C- Combien de cahiers la directrice doit-elle commander pour toute l'école ?

.....