



Problèmes



Prénom :

date :

-  Entoure les données importantes et les mots importants.
 Écris la bonne opération et réponds à la question.

- 1 Aria a 9 cartes de jeu mais elle en perd 2.
Combien lui reste-t-il de cartes ?



Il lui reste cartes .

 Dessine.

- 2 Inès et Mathis ont attrapé 5 fourmis mais Clara en laisse échapper 3.
Combien leur reste-t-il de fourmis ?



Il leur reste fourmis .

 Dessine.

- 3 Notre équipe est composée de 7 membres.
Il y a 4 filles.
Combien y a-t-il de garçons ?



Il lui reste garçons .

 Dessine.

- 4 Dans la salle vidéo, il a 14 fauteuils, 4 sont inoccupés.
Combien de fauteuils sont occupés ?



Il y a fauteuils occupés .

 Dessine.



Problèmes

Correction



Entoure les données importantes et les mots importants.
 Écris la bonne opération et réponds à la question.


1 Aria a 9 cartes de jeu mais elle en perd 2.
 Combien lui reste-t-il de cartes ?



$$9 - 2 = 7$$

Il lui reste cartes .

Dessine.




2 Inès et Mathis ont attrapé 5 fourmis mais Clara en laisse échapper 3.
 Combien leur reste-t-il de fourmis ?



$$5 - 3 = 2$$

Il leur reste fourmis .

Dessine.




3 Notre équipe est composée de 7 membres.
 Il y a 4 filles.
 Combien y a-t-il de garçons ?



$$7 - 4 = 3$$

Il lui reste garçons .

Dessine.



4 Dans la salle vidéo, il a 14 fauteuils, 4 sont inoccupés.
 Combien de fauteuils sont occupés ?



$$14 - 4 = 10$$

Il y a fauteuils occupés .

Dessine.

